



Прямоугольный параллелепипед





*«Три пути ведут к знанию:
путь размышления – это
путь самый благородный,
путь подражания – это путь
самый легкий и путь опыта –
это путь самый горький»*

Конфуций

Заповеди пифагорейцев

Делай лишь то, что впоследствии не огорчит тебя и не принудит раскаиваться.

Не делай никогда того, чего не знаешь, но научись всему, что следует знать.

Не пренебрегай здоровьем своего тела.

Приучайся жить просто и без роскоши

Прежде чем лечь спать, проанализируй свои поступки за день

Вычислить :



ПОВТОРИМ:

$$1\% = 0,01$$

$$10\% = 1/10$$


$$20\% = 1/5$$

$$25\% = 1/4$$

$$50\% = 1/2$$

$$75\% = 3/4$$

$$100\% = 1$$



Вычислить:

10% от 76

20% от 9

25% от 10

50% от 15


75% от 40

71% от 11

31% от 31


35% от 101

100% от 7,8



Изучение нового

Графический диктант



Изучение нового

Элементы прямоугольного
параллелепипеда:

-Вершины

-Ребра

-Измерения


-Грани

-Боковая поверхность

-Полная поверхность

-Площадь

-Объем



Куб

Элементы куба:

Вершины

Ребра


Измерения

Грани

Боковая поверхность


Полная поверхность

Объем




На повторение:

№ 913



Решить задачу:

За первую неделю уборки урожая в саду было собрано 17% яблок, а затем остальные 20,418 т . Сколько яблок было собрано в саду?



Проверка таблицы (заменить % дробью)

1%

2%

10%

12%

20%


25%

45%


50%

75%

100%








Домашнее задание:

Прочитать по учебнику

Стр 233-234

№ 909,910 (устно)



СПАСИБО ЗА УРОК!

