

# В НЕКОТОРОМ ЦАРСТВЕ





6 • 6    6 • 8    6 • 4    6 • 7    6 • 2    6 • 9    6 • 3







Добро пожаловать!



Т а б л и ч н ы е с л у ч а и  
у м н о ж е н и я и  
д е л е н и я






# Задание 1


Вставь пропущенные знаки  
действий

$6 \text{ ? } 3 = 9$




$9 \text{ ? } 3 = 27$

$6 \text{ - } 3 = 3$




$9 \text{ : } 3 = 3$

$6 \text{ • } 3 = 18$



$9 \text{ + } 3 = 12$

$6 \text{ : } 3 = 2$



$9 \text{ - } 3 = 6$



# Задани

Выполни умножение

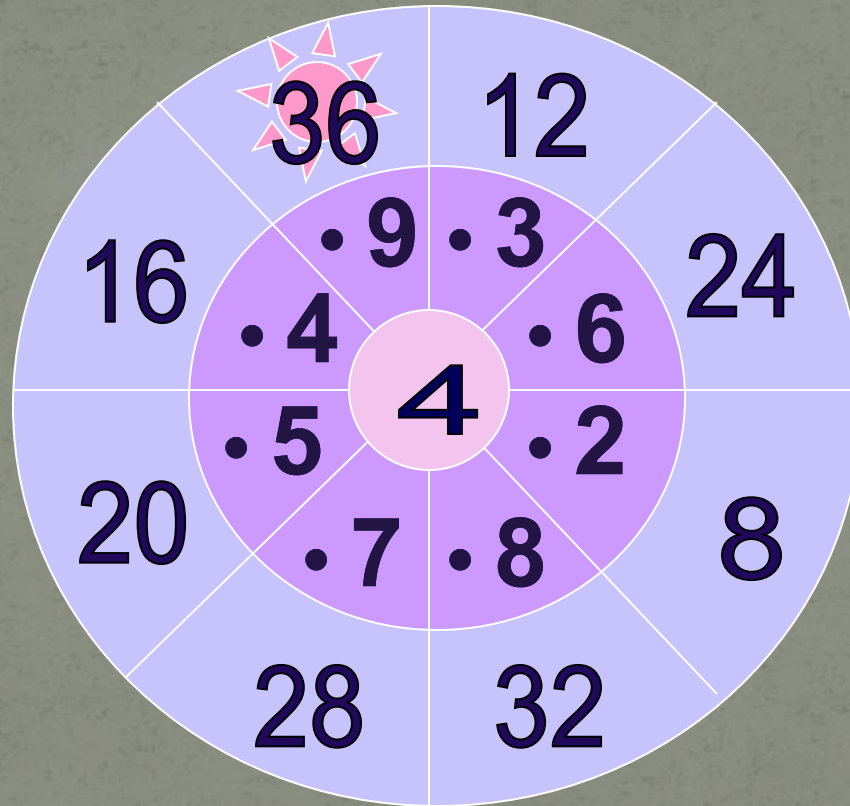


8

1  
2

1  
6

2



2  
4

2  
8

3  
2

3  
6



# Задани

Кликни мышкой по числам,  
которые делятся на 8

14

32

45

63

48

16

36

40

64

81

18

24

56

68

72





Платъе



Карета и кони



Туфли







# Задани

Реши задачу, запиши  
математическое выражение



В поле бабочки летали,  
Лепестки цветов считали.  
На одном цветке их пять.  
Сможете вы сосчитать?  
Сколько будет лепестков  
Если шесть всего цветков?





# Задани

Реши задачу, запиши  
математическое выражение



В поле бабочки летали,  
Лепестки цветов считали.  
На одном цветке их пять.  
Сможете вы сосчитать?  
Сколько будет лепестков  
Если шесть всего цветков?



$$5 \cdot 6 = 30 \text{ (л.)}$$



# Задани

Реши задачу, запиши  
математическое выражение

Три бельчонка маму – белку

Ждали около дупла.

Им на завтрак мама – белка

Девять шишек принесла,

Разделила на троих.

Сколько каждому из них?



# Задани

Реши задачу, запиши  
математическое выражение

Три бельчонка маму – белку

Ждали около дупла.

Им на завтрак мама – белка

Девять шишек принесла,

Разделила на троих.

Сколько каждому из них?

$$9 : 3 = 3 \text{ (ш.)}$$



# Задани

Реши задачу, запиши  
математическое выражение

Мышка зёрна собирала

По два зёрнышка таскала,

Принесла их девять раз.

Каков мышки стал запас?



# Задани

Реши задачу, запиши  
математическое выражение

Мышка зёрна собирала

По два зёрнышка таскала,

Принесла их девять раз.

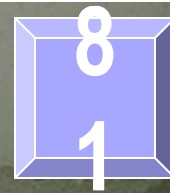
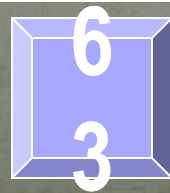
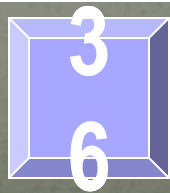
Каков мышки стал запас?

$$2 \cdot 9 = 18 \text{ (з.)}$$







9 • 6



# ФИЗМИНУТКА





# Задани

Решаи задачу



К двум зайчатам в час обеда  
Прискакали три соседа.

В огороде зайцы сели



И по три морковки съели.


Кто считать, ребята, ловок,

Сколько съедено морковок?



# Задани

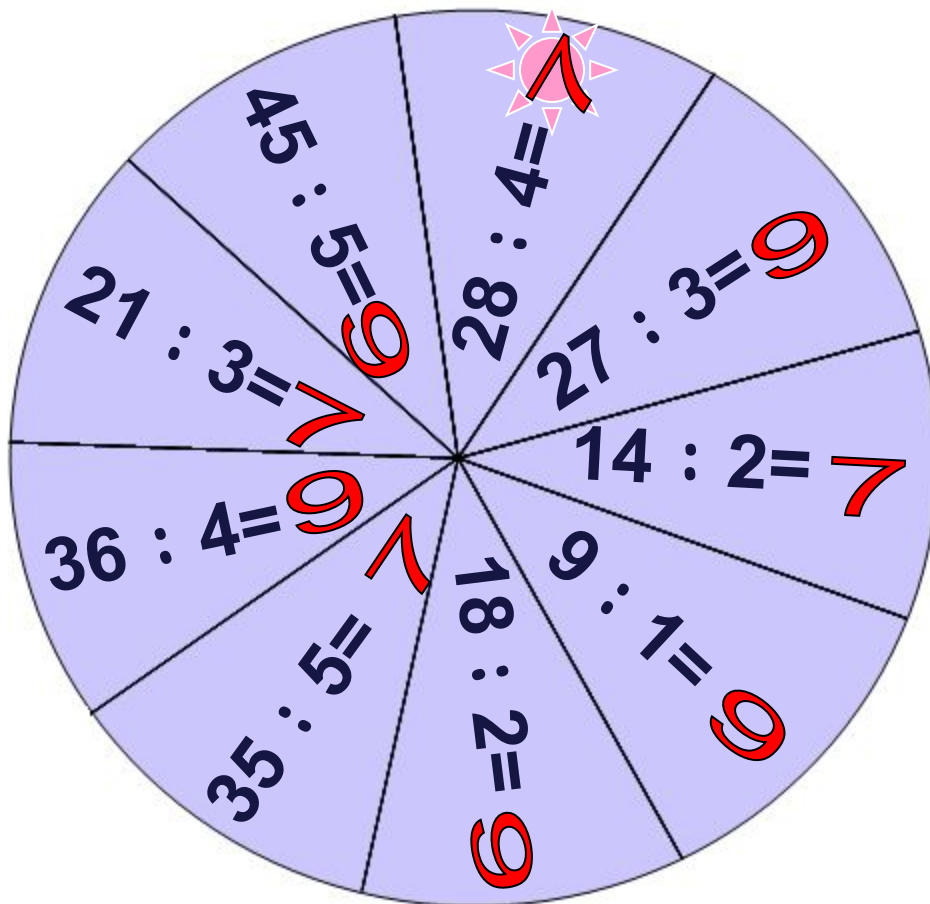
Соедини  шарик с примерами и  шарик с правильными ответами



# Задани

Выполни деление

е 9





амостоятельная работа

# Проверка

Вариант 1	Вариант 2	Вариант 3
15	24	9
14	40	8
27	48	9
10	63	7
24	72	8
8	56	9
18	54	6

**До новых встреч!**



## ССЫЛКИ:

- <http://ann-pages.narod.ru/cl77.gif> - Золушка
- <http://kalinkastudio.narod.ru/cindy5.gif> - Золушка
- <http://tritroichki.narod.ru/disney120.gif> - карета
- <http://i006.radikal.ru/0712/9d/f18fffd5755f.png> - завитушка
- <http://tritroichki.narod.ru/kartiny/kar1.gif> - пейзаж