

Связь между суммой и слагаемыми

1 класс

Моро(с.24)

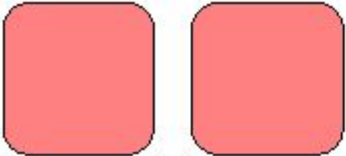
Подготовила Рафальская В.В.

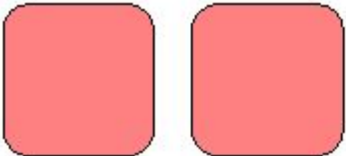
Наташа – 9

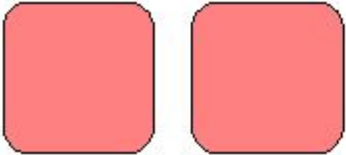
Оля – 8

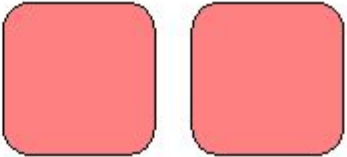
Катя 10

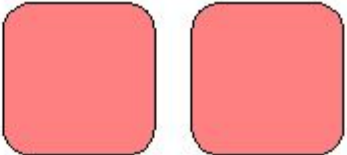
- **Оле 9 лет, Марина на 4 года моложе. Сколько лет Марине?**
- **В Нашем доме 3 этажа, а дом, стоящий на против, на 6 этажей выше. Сколько этажей в доме напротив?**
- **В пакете 4 яблока, а груш 2 раза по столько же. Сколько груш в пакете? На сколько груш больше, чем яблок? На сколько яблок меньше, чем груш?**

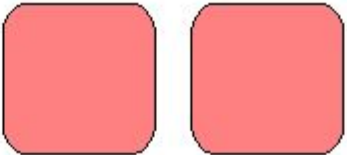
7  **= 9**

2  **= 6**

3  **= 10**

 **4 = 9**

 **2 = 7**


 **4 = 8**

Слагаемое слагаемое




СУММА


$$4 + 3 = 7$$




$$7 - 4 = 3$$



$$7 - 3 = 4$$



 $4 + 3 = 7$

 $7 - 4 = 3$

 $7 - 3 = 4$