


Решение задач с величинами: цена, количество, стоимость

Шитова Ирина Георгиевна
ЮВАО ГБОУ СОШ № 1935



Нахождение стоимости

| | Цена | Количество | Стоимость |
|---|------|------------|-----------|
|  | 3 р. | 2 шт. | ? р. |
|  | 2 р. | 5 шт. | ? р. |
|  | 4 р. | 2 шт. | ? р. |



Нахождение количества

| | Цена | Количество | Стоимость |
|--|------|------------|-----------|
|  | 3 р. | ? шт. | 6 р. |
|  | 2 р. | ? шт. | 10 р. |
|  | 4 р. | ? шт. | 8 р. |




Нахождение цены

| | Цена : | Количество : | Стоимость • |
|--|-----------|-----------------|----------------|
|  | ? р. | 2 шт. | 6 р. |
|  | ? р. | 5 шт. | 10 р. |
|  | ? р. | 2 шт. | 8 р. |



Нахождение цены, количества, стоимости

| | Цена | Количество | Стоимость |
|---|-------|------------|-----------|
|  | 6 р. | 2 шт. | ? р. |
|  | 10 р. | ? шт. | 30 р. |
|  | ? р. | 4 шт. | 8 р. |



Нахождение цены, количества, стоимости

| | Цена : | Количество : | Стоимость • |
|--|-----------|-----------------|----------------|
|  | 3 р. | 5 шт. | ? р. |
|  | 4 р. | ? шт. | 12 р. |
|  | ? р. | 3 шт. | 18 р. |



Нахождение цены, количества, стоимости

| | Цена : | Количество : | Стоимость • |
|---|-----------|-----------------|----------------|
|  | 8 р. | 3 шт. | ? р. |
|  | 6 р. | ? шт. | 18 р. |
|  | ? р. | 3 шт. | 30 р. |




Нахождение цены, количества, стоимости

| | Цена : | Количество : | Стоимость • |
|--|-----------|-----------------|----------------|
|  | 7 р. | 3 шт. | ? р. |
|  | 6 р. | ? шт. | 12 р. |
|  | ? р. | 4 шт. | 40 р. |




Нахождение цены, количества, стоимости

| | Цена : | Количество : | Стоимость • |
|--|-----------|-----------------|----------------|
|  | 3 р. | 8 шт. | ? р. |
|  | 4 р. | ? шт. | 16 р. |
|  | ? р. | 10 шт. | 20 р. |



Нахождение цены, количества, стоимости

| | Цена : | Количество : | Стоимость • |
|---|-----------|-----------------|----------------|
|  | 9 р. | 2 шт. | ? р. |
|  | 7 р. | ? шт. | 70 р. |
|  | ? р. | 4 шт. | 40 р. |



Нахождение цены, количества, стоимости

| | Цена : | Количество : | Стоимость • |
|--|-----------|-----------------|----------------|
|  | 7 р. | 4 шт. | ? р. |
|  | 3 р. | ? шт. | 18 р. |
|  | ? р. | 5 шт. | 50 р. |




Решить задачу

Одна наклейка стоит 5 рублей.
Сколько стоят 3 таких наклейки?

| | Цена | Количество | Стоимость |
|---|------|------------|-----------|
|  | 5 р. | 3 шт. | ? р. |

$$5 \cdot 3 = 15 \text{ (р.)}$$

Ответ: 15 рублей стоят наклейки.



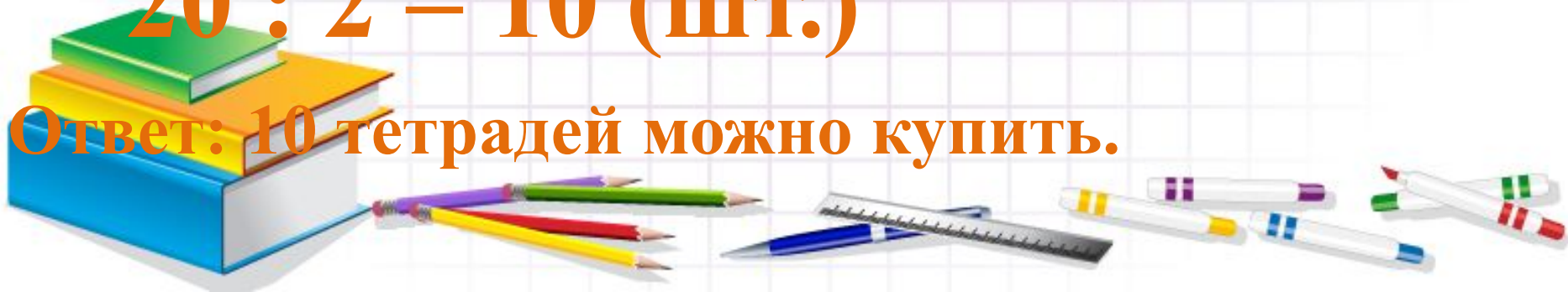
Решить задачу

Одна тетрадь стоит 2 рубля.
Сколько таких тетрадей можно купить
на 20 рублей?

| | Цена | Количество | Стоимость |
|---|------|------------|-----------|
|  | 2 р. | ? шт. | 20 р. |

$$20 : 2 = 10 \text{ (шт.)}$$

Ответ: 10 тетрадей можно купить.



Решить задачу

Одна свеча стоит 3 рубля. Сколько стоят 8 таких свечей?

| | Цена | Количество | Стоимость |
|---|------|------------|-----------|
|  | 3 р. | 8 шт. | ? р. |

$$3 \cdot 8 = 24 \text{ (р.)}$$

Ответ: 24 рубля стоят свечи.

