

План местности и географическая карта



Тест, 6 класс

Цели урока:

- Проверить и оценить знания и умения учащихся по изученному материалу.

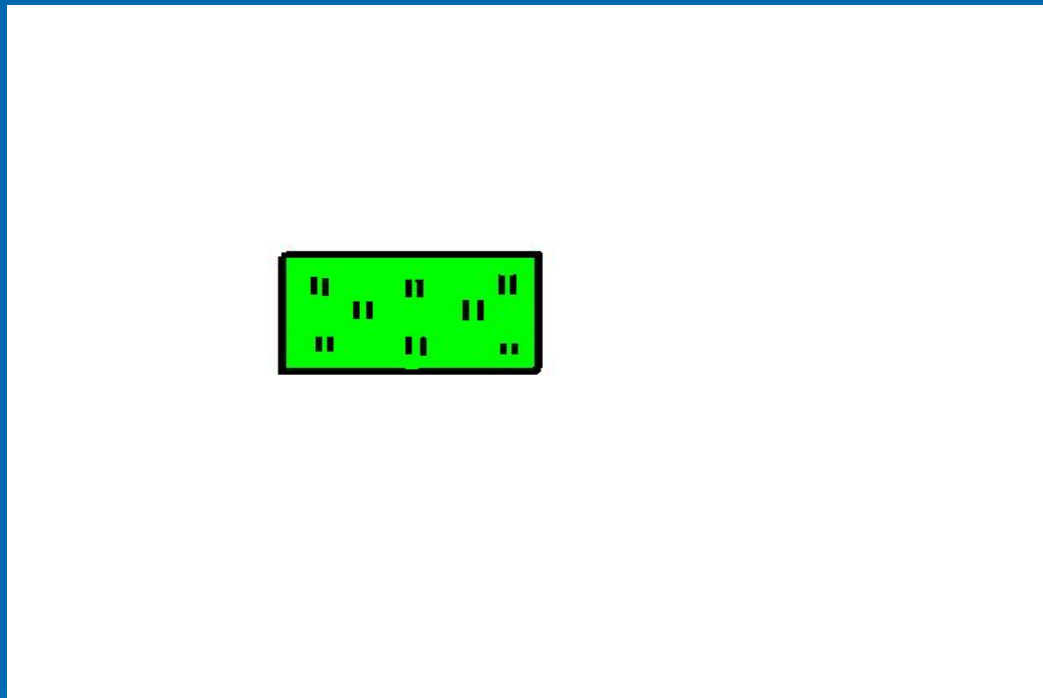


1. Для плана местности характерны следующие показатели:

- А) изображены только важные предметы местности;
- Б) можно увидеть направление на север;
- В) предметы изображены условными знаками;
- Г) можно узнать тип леса, луга, дорог, мостов и т.д.;
- Д) вид сверху.



2. Что означает этот знак?



- А) сад; Б) луг;
- В) кустарник; Г) лес.

3. Что означает этот знак?



- А) лиственный лес;
- Б) хвойный лес;
- В) смешанный лес.

4. Что означает этот знак?



- А) железный мост
- Б) железобетонный мост
- В) деревянный мост
- Г) тротуар

5. Масштаб бывает:

- А) численный;
- Б) буквенный;
- В) именованный;
- Г) линейный.

6. Если изображение местности имеет масштаб 1:1000000, то это:

А) план;



Б) карта.



7. Если именованный масштаб в 1 см – 100 км, это значит, что:

- А) 1:100;
- Б) 1:1000;
- В) 1:0000000;
- Г) 1:100000.

8. Если численный масштаб в 1 см-1 км, это значит, что

А) 1:10;

Б) 1:1000;

В) 1:100000;

Г) 1:100.

9.К основным сторонам горизонта относятся:

- А) северо-запад;
- Б) восток;
- В) юго-восток;
- Г) север.



10. На местности определить азимут поможет:

- А) транспортир;
- Б) компас;
- В) ручные часы.




11. Превышение точки над уровнем моря – это:

- А) абсолютная высота;
- Б) относительная высота;
- Г) наивысшая высота.

12. Какой прибор помогает определять относительную высоту?

А) компас;



Б) флюгер;



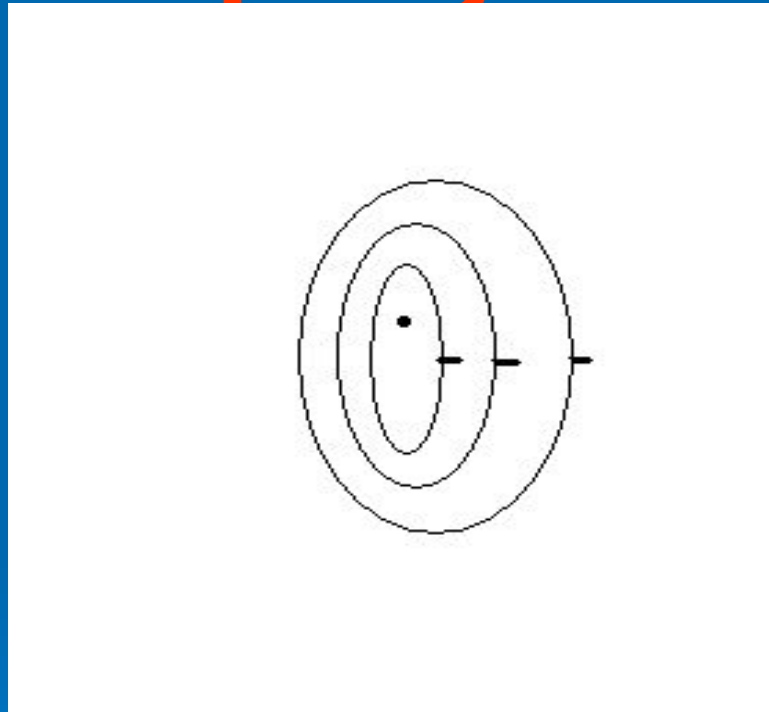
В) нивелир;



Г) транспортир.



13. Что изображено на рисунке?



А) холм; Б) яма.

14. Линии, соединяющие
два полюса, называются:

- А) меридианы;
- Б) горизонтали.



15. Меридианы направлены:



А) с севера на юг;

Б) с запада на восток.

16. Какую форму имеют параллели на глобусе?

- А) прямые;
- Б) полуокружность;
- В) окружность.



17. Длина параллелей от экватора к полюсам:

- А) уменьшается;
- Б) увеличивается;
- В) не изменяется.



18. Какую широту имеет северный полюс?

А) 90° с.ш.

Б) 0° с.ш.

19. Нулевой меридиан проходит через:

- А) Париж;
- Б) Берлин;
- В) Москву;
- Г) Лондон.



20. Может ли быть широта
 91° с.ш.?

А) да;

Б) нет.



21. Может ли быть долгота 183° в.д.?

А) нет;

Б) да.



22. Какое кругосветное путешествие короче?

- А) по экватору;
- Б) 10° с.ш.;
- В) 50° с.ш.;
- Г) 70° с.ш.

23. Дальше всех от экватора расположена:

- А) 40° с.ш.;
- Б) 20° ю.ш.;
- В) 10° с.ш.;
- Г) 50° ю.ш.



24. Уменьшенная модель Земли:

А) карта;



Б) топографический план;



В) глобус;



Г) аэрофотоснимок.

