

## На что нам надо обратить внимание?

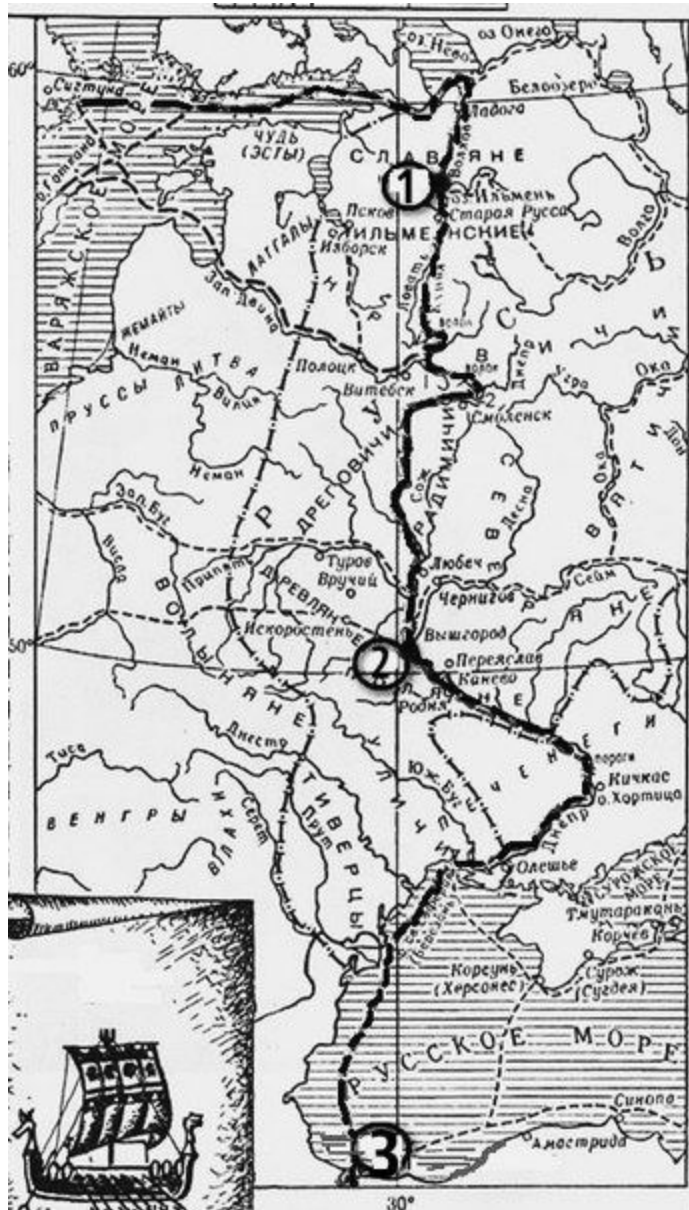


## Расселение восточных славян в VIII – IX веках

1. Прежде всего, на территорию расселения восточных славян: словене (ильменские славяне) жили на берегах Ильменского озера и Волхова; кривичи с полочанами – у верховьев Западной Двины, Волги и Днепра; дреговичи – между Припятью и Березиной; вятичи – на Оке и Москве-реке; радимичи – на Соже и Десне; северяне – на Десне, Сейме, Суле и Северском Донце; древляне - на Припяти и в Среднем Поднепровье; поляне – по среднему течению Днепра; бужане, волыняне, дулебы – на Волыни, по Бугу; тиверцы, уличи – на самом юге, у Черного моря и у Дуная.

2. Перечислим соседей восточных славян. Наиболее многочисленными соседями восточных славян были финно-угорские племена: черемисы, чудь заволочская, весь, корела, чудь. На северо-западе обитали балто-славянские племена: корсь, земигола, жмудь, ятвяги и пруссы. На западе славянский мир граничил с германскими племенами. На юге, в бескрайних евразийских степях Причерноморья бродили многочисленные племена кочевников-скотоводов. На востоке со славянами соседствовали буртасы, родственная им мордва и булгары волжско-камские. В низовьях Волги располагались земли Хазарского Каганата со столицей в городе Итиль.

3. Путь «из варяг в греки». Как указывается в «Повести временных лет», «бъ путь из Варягъ въ Гръкы, и изъ Гръкъ по Днепру, и върхъ Днѣпра волокъ до Ловоти, и по Ловоти внити в Илмерь озеро



**Задание №1. Рассмотрите схему и выполните задания В8–В11.**

**В8. Напиши, как называется отмеченный на карте путь**

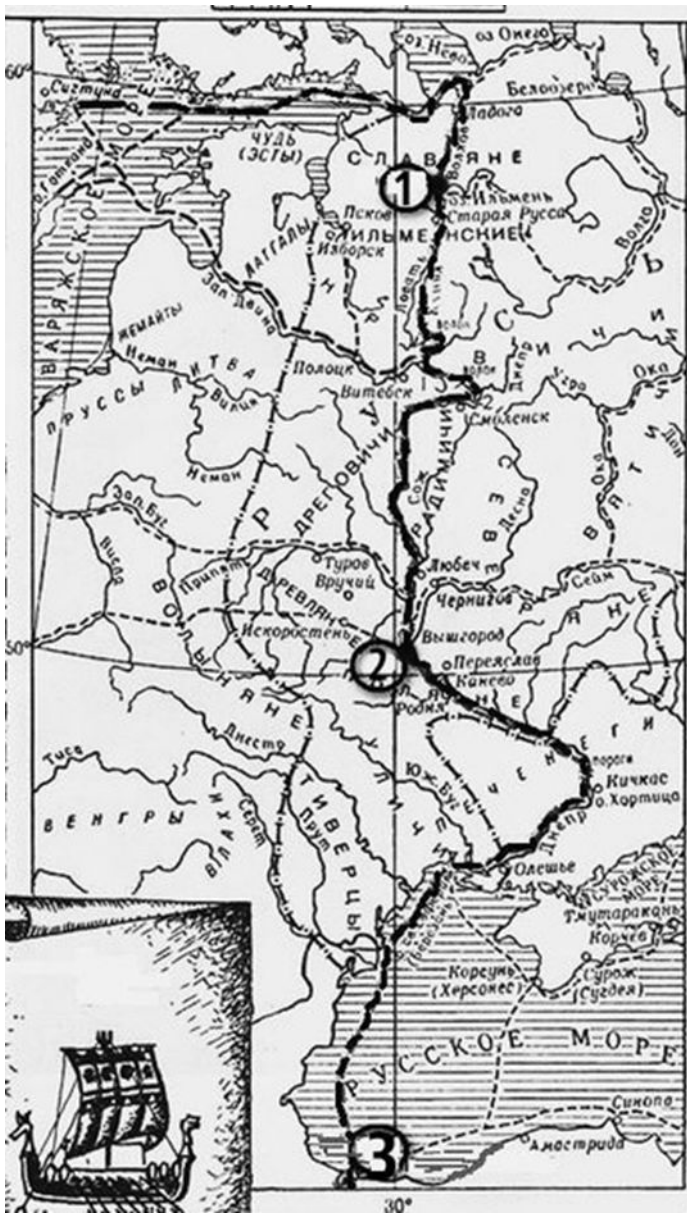
**Ответ:** \_\_\_\_\_

**В9. Напиши имя князя, который установил контроль над этим торговым путем**

**Ответ:** \_\_\_\_\_

**В10. Напиши цифру, обозначающую город, который на Руси называли Царьград**

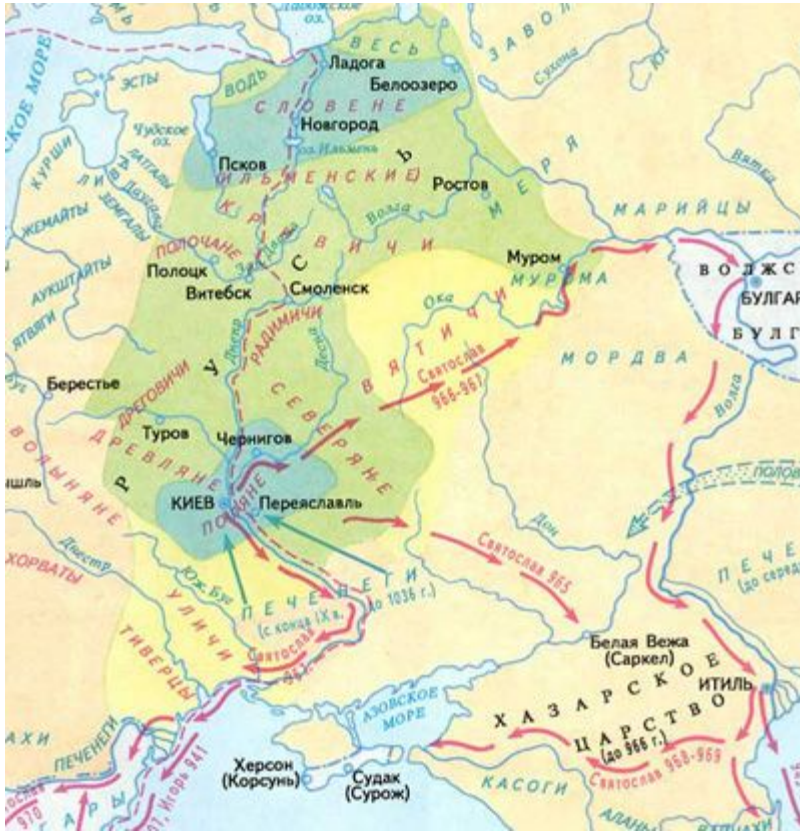
**Ответ:** \_\_\_\_\_



**В11. Какие суждения, относящиеся к событиям, обозначенным на схеме, являются верными? Выберите три суждения из шести предложенных. Запишите в таблицу цифры, под которыми они указаны.**

- 1) этот торговый путь был самым важным в Европе в этот период
- 2) основным торговым партнером Руси в этот период была Византия
- 3) с начала X века русские князья совершают военные походы на Византию
- 4) основными союзниками русских князей в конце IX- начале X века были печенеги
- 5) основными предметами экспорта были благовония и фрукты
- 6) население Древней Руси платило за охрану торгового пути дань великому князю

Ответ: \_\_\_\_\_



## Походы Святослава

### Запомним маршруты походов Святослава.

В 964 г. дружина под предводительством князя выступила на Восток, с целью решения стратегической задачи по ослаблению Хазарского каганата, которое было создано кочевым народом, в политической зависимости от которого находилась часть восточнославянских племенных союзов.

В 968 г. князь начал свой болгарский поход, который длился до самой его смерти.

Весной 970 года Святослав в союзе с болгарями, печенегами и венграми напал на владения Византии.

Современник событий Ибн-Хаукаль сообщает также о войне с Волжской Булгарией. Обратите внимание на столицу Волжской Булгарии.

Благодаря деятельности князя, сфера влияния Руси в конце X столетия распространилась от Балкан до Волги и от Прибалтики до Кавказа. Таким образом, Киевское государство на тот момент стало крупнейшим в Европе и одним из самых больших в мире. В этой связи известный русский историк Н.М. Карамзин охарактеризовал Святослава «Александром Македонским нашей древней

**Задание №2. Рассмотрите схему и выполните задания В8–В11.**



**В8. Напишите имя князя, осуществившего походы, обозначенные на схеме стрелками.**

Ответ: \_\_\_\_\_

**В9. Напишите название города, обозначенного на схеме цифрой «1».**

Ответ: \_\_\_\_\_

**В10. Напишите цифру, которой обозначено государство, созданное кочевым народом, в политической зависимости от которого находилась часть восточнославянских племенных союзов, но в ходе предпринятых киевским князем походов был нанес сокрушительный удар: он захватил и разорил главные его города Итиль, Семендер, Самкерц (русс. Тмутаракань) и Саркел, основав на месте последнего крепость Белая Вежа.**

Ответ: \_\_\_\_\_

**В 11. Какие суждения, относящиеся к событиям, обозначенным на схеме, являются верными? Выберите суждения из шести предложенных. Запишите в таблицу цифры, под которыми они указаны.**

**1) для завоевания столицы ханства была предпринята серия военных походов: первые два из них не увенчались успехом;**

**2) в 1559 году московский царь в третий раз осадил столицу ханства;**

**3) после взрыва городских стен заложенным в тайно сделанных подкопах порохом, город был взят штурмом, значительная часть населения перебита, а сам город сгорел;**

**4) в результате событий, обозначенных на схеме, ханство прекратило своё существование, и Среднее Поволжье в значительной своей части было присоединено к России, в итоге возникли предпосылки для освоения русскими переселенцами Поволжья, дальнейшего продвижения на Урал и в Сибирь**

**5) одним из последствий событий, обозначенных на схеме, было начало раздробленности Золотой Орды;**

**6) в память о взятии столицы и победе над ханством был построен Собор Василия Блаженного на Красной площади в Москве.**

**Ответ: \_\_\_\_\_**