



Обобщение темы:



Махотина В.В.




Ход работы:



Махотина В.В.



1. Слово «география» в переводе с греческого означает:





Махотина В. В.




2. Первую книгу по географии написал:



Махотин В. В.



3. Сколько плаваний к берегам Африки совершил Генрих-мореплаватель:



Махотина Е.В.



4. Первое кругосветное путешествие совершила экспедиция:


--	--	--



Махотина В.В.



5. Самая большая планета Солнечной системы:




Махотина В.В.



6. Угол наклона земной оси составляет:



Махотина В.В.



- 7. Кто первым высказал предположение о шарообразности Земли:
 - А)
 - Пифагор
 - Б) Аристотель
 - В)
 - НЬЮТОН



Махотина В.В.



- 8. Что является моделью Земли:
 - А) план местности
 - Б) географическая карта
 - В) глобус



Махотина В.В.



- 9. Расстояние , выраженное в градусах от точки до экватора-
 - А) географическая долгота
 - Б) географическая широта
 - В)
 - меридиан



Махотина В.В.



- 10. Расстояние, выраженное в градусах от точки до начального меридиана-
 - А) параллель
 - Б) географическая широта
 - В) географическая долгота



Махотина В.В.



- Какие материки расположены в северном полушарии:
 - 1. Африка, Северная Америка
 - 2. Северная Америка, Евразия
 - 3. Австралия, Антарктида



- Перечислите материки, расположенные в южном полушарии:
 - 1. Австралия, Антарктида
 - 2. Южная Америка, Австралия
 - 3. Африка. Евразия



- Найдите материки, которые пересекает начальный меридиан:
 - 1. Северная Америка , Южная Америка
 - 2. Евразия, Австралия
 - 3. Антарктида, Африка, Евразия



- По физической карте России определите: что расположено севернее:
 - 1. г. Москва
 - 2. г. Санкт-Петербург
 - 3. г. Сочи



- Определите какой населённый пункт расположен восточнее:
 - 1. г. Москва
 - 2. г. Екатеринбург
 - 3. г. Якутск



3



- В каком направлении от озера Байкал расположено Ладожское озеро:
 - 1. север
 - 2. запад
 - 3. северо-запад



- Определите географические координаты:
 - 1. Гора Эверест
 - 2. Вулкан Везувий
 - 3. Гора Мак-Кинли



- 1.
- 28СШ
- 78 ВД
- 2.
- 41СШ
- 16ВД
- 3.
- 65СШ
- 150ЗД



• Определите географические объекты по заданным координатам:

• 1.

• 56СШ

• 38ВД

• 2.

• 34ЮШ

• 70ЗД

• 3.

• 34ЮШ

• 150ВД



- 1. г.Москва
- 2.
- г.Сантьяго
- 3.
- г.Канберра

