

Проверь себя:

432

434

412

632

Расскажите о числе 432 по  
плану:

➤  с  д  е

➤  с  е

➤  д  е

# Алгоритм сложения

1. Пишу *сотни под сотнями, десятки под десятками, единицы под единицами*

2. Складываю *единицы с единицами*

Результат записываю *под единицами*

3. Складываю *десятки с десятками*

Результат записываю *под десятками*

4. Складываю *сотни под сотнями*

Результат записываю *под сотнями*



## *Цель урока:*

*научиться складывать трехзначные числа с двумя переходами через разряд*

# Алгоритм сложения

1. Пишу

*сотни под сотнями, десятки под десятками, единицы под единицами*

2. Складываю *единицы с единицами*

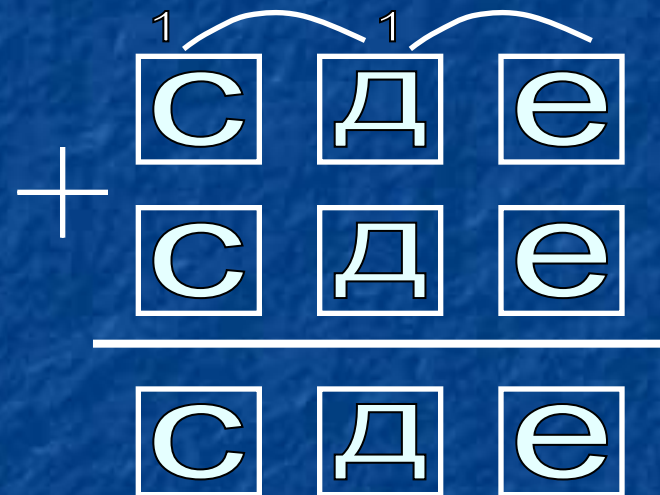
Результат записываю *под единицами*

3. Складываю *десятки с десятками*

Результат записываю *под десятками*

4. Складываю *сотни под сотнями*

Результат записываю *под сотнями*





342 м

458 м



# Самостоятельная работа

стр. 56 №3

I вариант – 1 столбик(1)

II вариант – 2 столбик(1)

# Самопроверка:

I вариант

$$4\text{м}25\text{см} + 9\text{дм}5\text{см} = 520\text{см} = 5\text{м}2\text{дм}$$

$$\begin{array}{r} \phantom{0} 1 \phantom{0} \\ 4 \ 2 \ 5 \\ + \ 9 \ 5 \\ \hline 5 \ 2 \ 0 \text{ см} \end{array}$$

II вариант

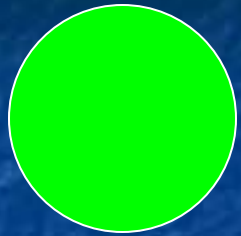
$$3\text{м}72\text{см} + 24\text{дм}9\text{см} = 621\text{см} = 6\text{м}2\text{дм}1\text{см}$$

$$\begin{array}{r} \phantom{0} 1 \phantom{0} \\ 3 \ 7 \ 2 \\ + \ 2 \ 4 \ 9 \\ \hline 6 \ 2 \ 1 \text{ см} \end{array}$$


## *Цель урока:*

*научиться складывать трехзначные  
числа с двумя переходами через разряд*






*ВАША РАБОТА БЫЛА УСПЕШНОЙ И  
НА УРОКЕ БЫЛО ВСЕ ПОНЯТНО*



*ХОРОШО РАБОТАЛ НА УРОКЕ, НО  
БЫЛИ НЕБОЛЬШИЕ ЗАТРУДНЕНИЯ*



*ЭТА ТЕМА БЫЛА ТРУДНАЯ*