

Чем похожи и чем отличаются кувшин и чашка на рисунке Вовы?



Где помещается больше воды?

**! Это свойство (признак) чашки
и кувшина - объём.**

Вова измерил объём бочонка банкой.

Прочитайте запись Вовы

1 бочонок = 10 банок



1 бочонок = 5 вёдер

! Одна из мерок объёма - 1 литр (л).



мерка



мерка



Меры объёма (литр – л) можно складывать, вычитать и сравнивать

Спишите. Вычислите.

ПРОВЕРЬ!

$$4 \text{ см} + 3 \text{ см} - 5 \text{ см} = \square \text{ см}$$

$$6 \text{ см} - 3 \text{ см} - 1 \text{ см} = \square \text{ см}$$

$$6 \text{ дм} + 2 \text{ дм} + 2 \text{ дм} = \square \text{ дм}$$

$$5 \text{ дм} - 3 \text{ дм} + 5 \text{ дм} = \square \text{ дм}$$

$$10 \text{ кг} - 4 \text{ кг} - 2 \text{ кг} = \square \text{ кг}$$

$$9 \text{ кг} - 6 \text{ кг} + 7 \text{ кг} = \square \text{ кг}$$



Сравни (>, <, =)

$$3 \text{ см} + 7 \text{ см} \square 1 \text{ дм}$$

$$2 \text{ см} + 6 \text{ см} \square 2 \text{ см} + 7 \text{ см}$$

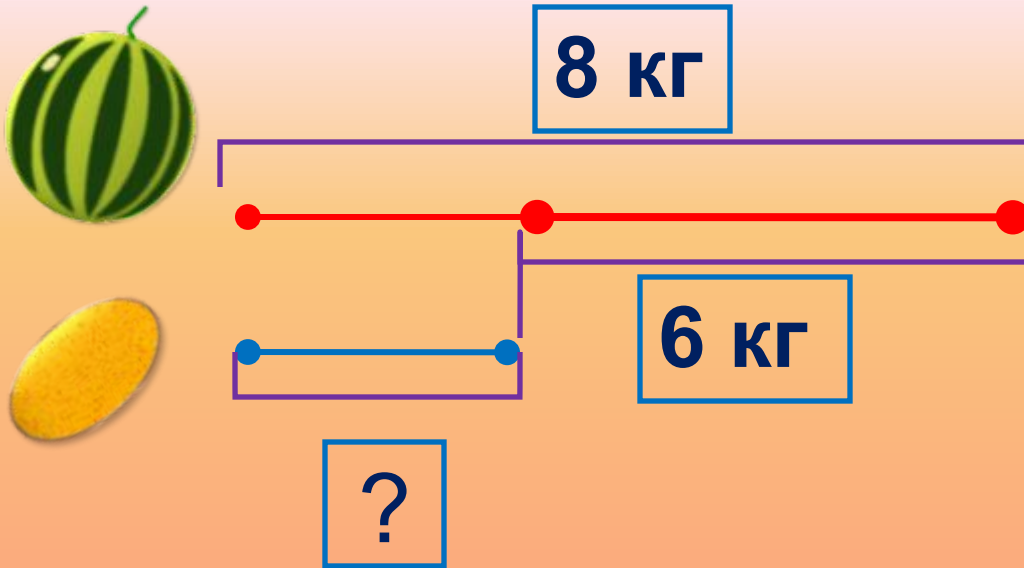
$$1 \text{ дм} \square 4 \text{ см} + 5 \text{ см}$$

$$3 \text{ кг} + 5 \text{ кг} \square 4 \text{ кг} + 4 \text{ кг}$$

$$6 \text{ кг} + 4 \text{ кг} \square 6 \text{ кг} - 4 \text{ кг}$$

$$8 \text{ кг} + 2 \text{ кг} \square 10 \text{ кг} + 0 \text{ кг}$$

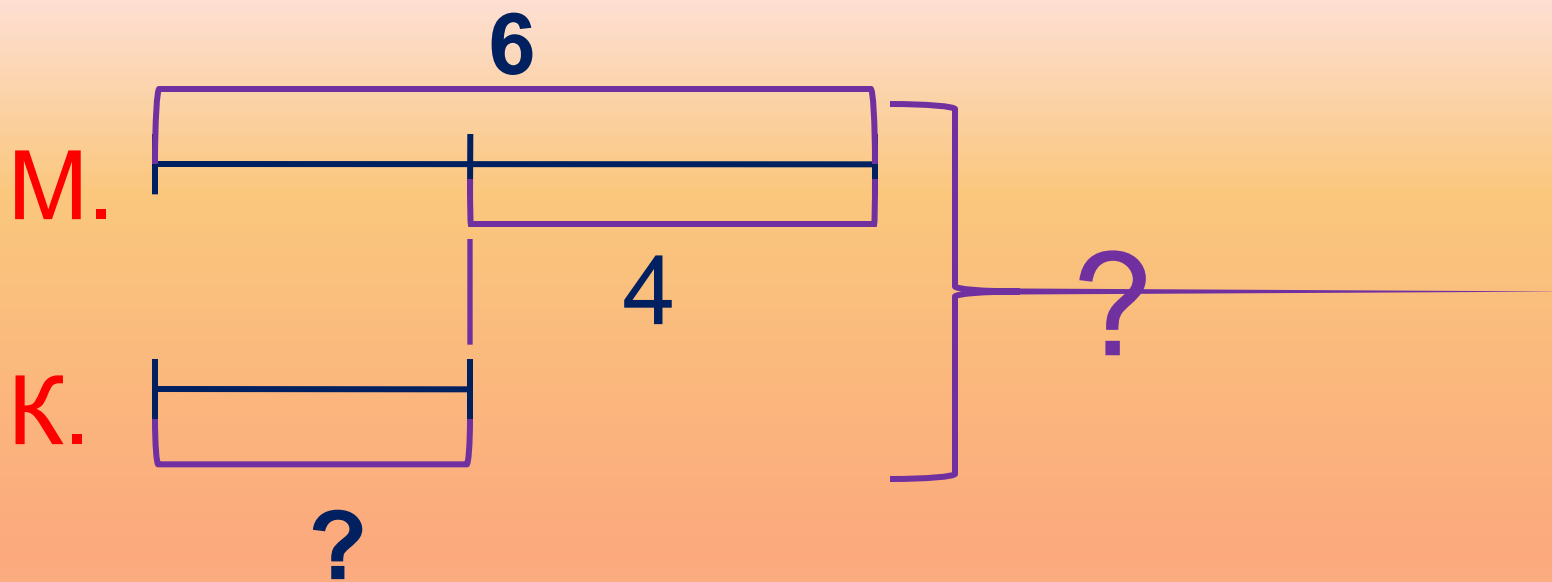
**Масса арбуза 8 кг, а дыни на 6кг меньше.
Найди массу дыни.**



$$8 \text{ кг} - 6 \text{ кг} = 2 \text{ (кг)}$$

Ответ: 2 кг.

Масса мешочка с картошкой 6 кг, а масса корзины с картошкой на 4 кг меньше. Чему равна общая масса мешочка и корзины ?




1) $6 - 4 = 2$ (кг)


2) $6 + 2 = 8$ (кг)

Ответ: 8 кг


Оцени свою работу на уроке



-у меня всё получилось



- я испытывал затруднения



- я ничего не понял