



МАТЕМАТИКА
2 КЛАС



ДІЯ ДІЛЕННЯ



ВЧИТЕЛЬ-МЕТОДИСТ ДОБРОГОРСЬКА ГАЛИНА ВІКТОРІВНА,
М.КИЇВ

УРОК МАТЕМАТИКИ З МІККІ ТА ЙОГО ДРУЗЯМИ



Допоможіть Міккі розв'язати приклади на додавання та перевірити їх прикладами на віднімання

$$45 + 23 = 68$$

$$51 + 9 = 60$$

$$68 - 45 = 23$$


$$60 - 51 = 9$$

$$68 - 23 = 45$$


$$60 - 9 = 51$$



Допоможіть Мінні скласти та розв'язати
приклад на множення



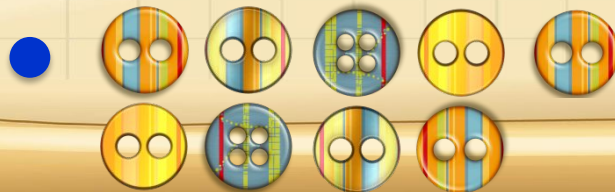
$$2 \cdot 5 = 10$$



$$2 \cdot 6 = 12$$





$$2 \cdot 4 = 8$$



$$2 \cdot 9 = 18$$



Допоможіть Міккі розділити торт між всіма гостями порівну. Скільки шматочків торта одержить кожен з них?



Допоможіть Міккі розділити тістечка порівну
між друзями.

Десять розділити порівну
на п'ять буде по два.



Допоможіть Мінні розділити фрукти порівну між друзями.

Дванадцять розділити порівну на шість буде по два.



Допоможіть Міккі порахувати скільки всього квітів у дівчат.

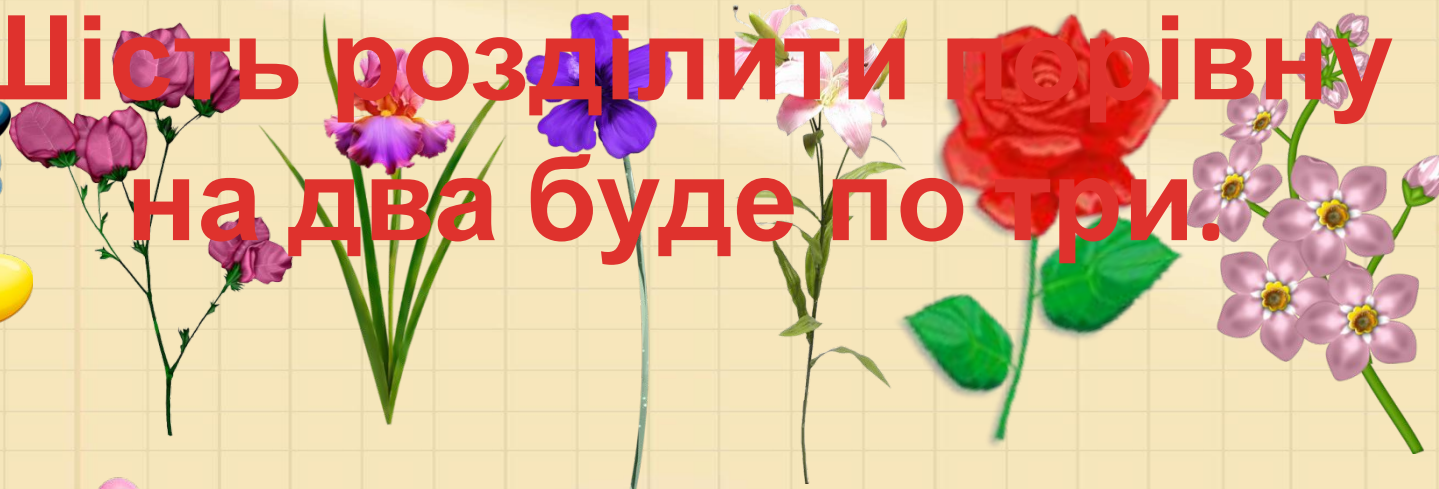


3 квітки • на 2 дівчат = 6 квітів



Допоможіть Міккі розділити квіти порівну між дівчатами.

Шість розділити порівну на два буде по три.



6 квітів : на 2 дівчат = 3

квітки
Читаємо так: 6 розділити
на 2 дорівнює 3.




6 – число, яке ділимо на частини.

2 – число, яке показує кількість частин.

: - знак ділення.

$$3 \cdot 2 = 6$$




$$6 : 3 = 2$$



$$6 : 2 = 3$$



Якщо добуток розділити на
один з множників, то
отримаємо другий множник.






$$10 : 5 = 2 \text{ (ябл.)}$$

$$10 : 2 = 5 \text{ (т.)}$$






**Ділення – обернена
дія до дії множення.**



$$2 \cdot 5 = 10$$



$2 \cdot 4 = 8$

$8 : 2 = 4$

$2 \cdot 7 = 14$

$14 : 7 = 2$

$2 \cdot 5 = 10$

$10 : 5 = 2$

$2 \cdot 8 = 16$

$16 : 2 = 8$

$2 \cdot 9 = 18$

$18 : 9 = 2$



За допомогою таблиці множення числа 2
розв'яжіть приклади на ділення.

$16:2=8$ 👍 👍

$12:2=6$ 👍 👍

$4:2=2$ 👍 👍

$10:2=5$ 👍 👍


$8:2=4$ 👍 👍

$18:2=9$ 👍 👍



Допоможіть Міккі та Мінні розв'язати задачу.

6 метеликів летіли,
парами спочити сіли.
На скількох ромашках
спали ці комашки?



Допоможіть Міккі та Мінні розв'язати задачу.

18 каченят у ставку
плескалось.
Половина йде назад.
Скільки накупалось?




$$18 : 2 = 9 \text{ (к.)}$$



Допоможіть Міккі та Мінні розв'язати задачу.



У двох синичок
є 12 суничок.
Як порівну ділити,
скажіть синичкам, діти.



Допоможіть Міккі та Мінні розв'язати задачу.



Задумалися мишки:
14 в них горішків.
На двох як поділити?
Підкажемо їм, діти?



$$14 : 2 = 7 \text{ (к.)}$$

УСПІХІВ У НАВЧАННІ!



Оформлення – ресурси Інтернету