

Дециметр.



Урок № 91



УСТНЫЙ СЧЁТ

$$2 + 2 =$$

$$6 - 4 =$$



Запиши только ответы:



1. Запиши число, которое на 2 больше, чем 10
2. Запиши число, которое на 1 меньше, чем 15
3. Запиши число, которое при счёте идёт за числом 17
4. Запиши число, которое следует при счёте перед числом 14
5. Вставь пропущенное число $\square - 1 = 10$
6. Вставь пропущенное число $1 + \square = 11$

12 14 18 13 11 10

Резинка стоит 6 рублей, а карандаш 4 рубля. А ручка
столько, сколько карандаш и резинка вместе.
Сколько стоит ручка?



6 рублей

$$6 + 4 = 10$$



4 рубля



10

Маша купила 8 карандашей и 3 кисточки. На сколько больше купили карандашей, чем кисточек?




на 5 карандашей

$$8 - 3 = 5$$



Собери грибы и листочки с ответом 11.





14 = дес. единицы

16 = дес. единицы

18 = дес. единицы

НОВЫЙ МАТЕРИАЛ



Дополни предложение ...



Папа держал чемодан, масса которого 11 ____

В ведро помещается 6 ____ воды

Ученик начертил отрезок длиной 5 ____

Л

СМ

КГ



17	12	15	19	1	18	14	20
м	е	и	т	д	е	ц	р

Расположите числа в порядке возрастания, и вы узнаете, с какой новой единицей измерения длины мы познакомимся сегодня на уроке.

1	12	14	15	17	18	19	20
д	е	ц	и	м	е	т	р

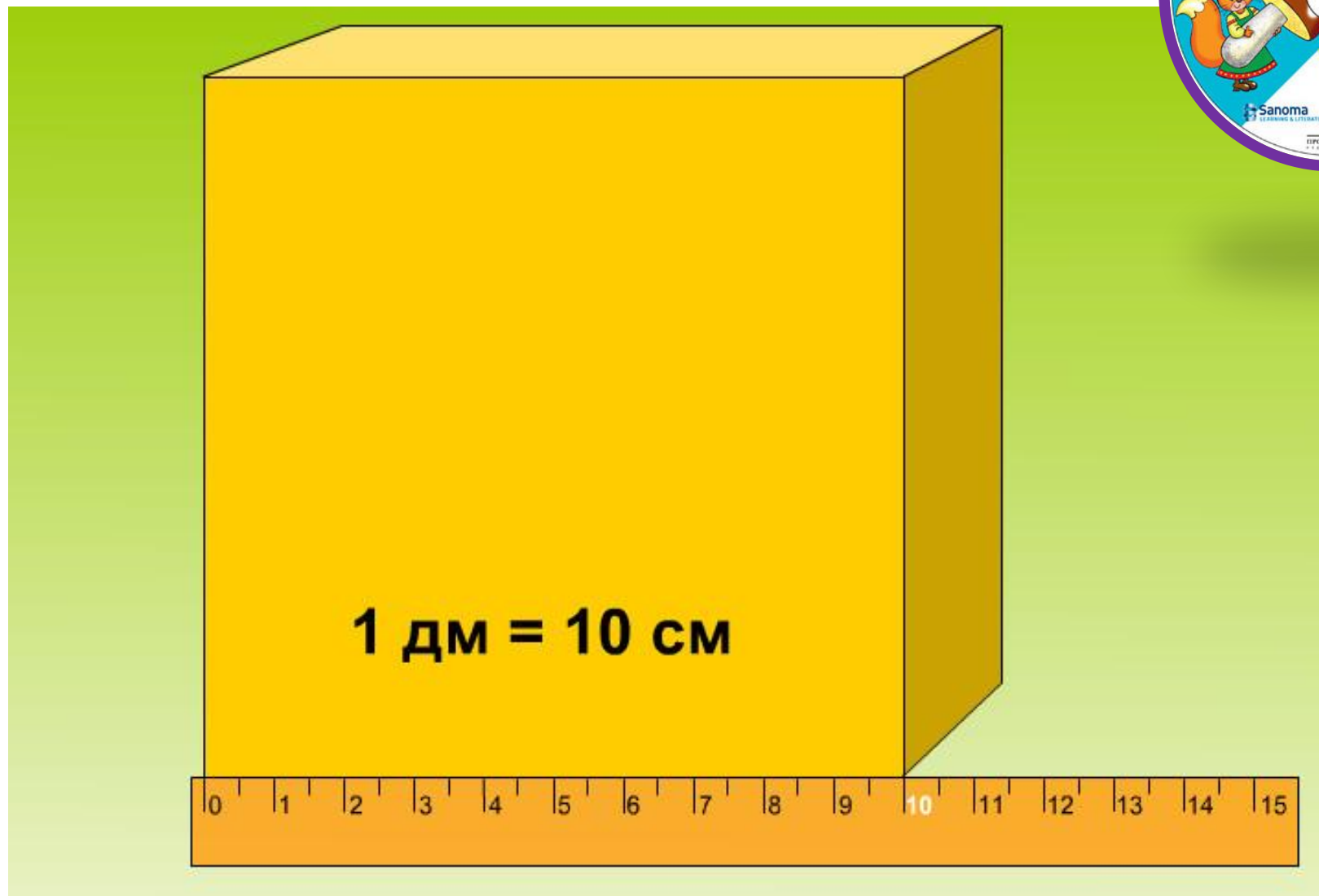


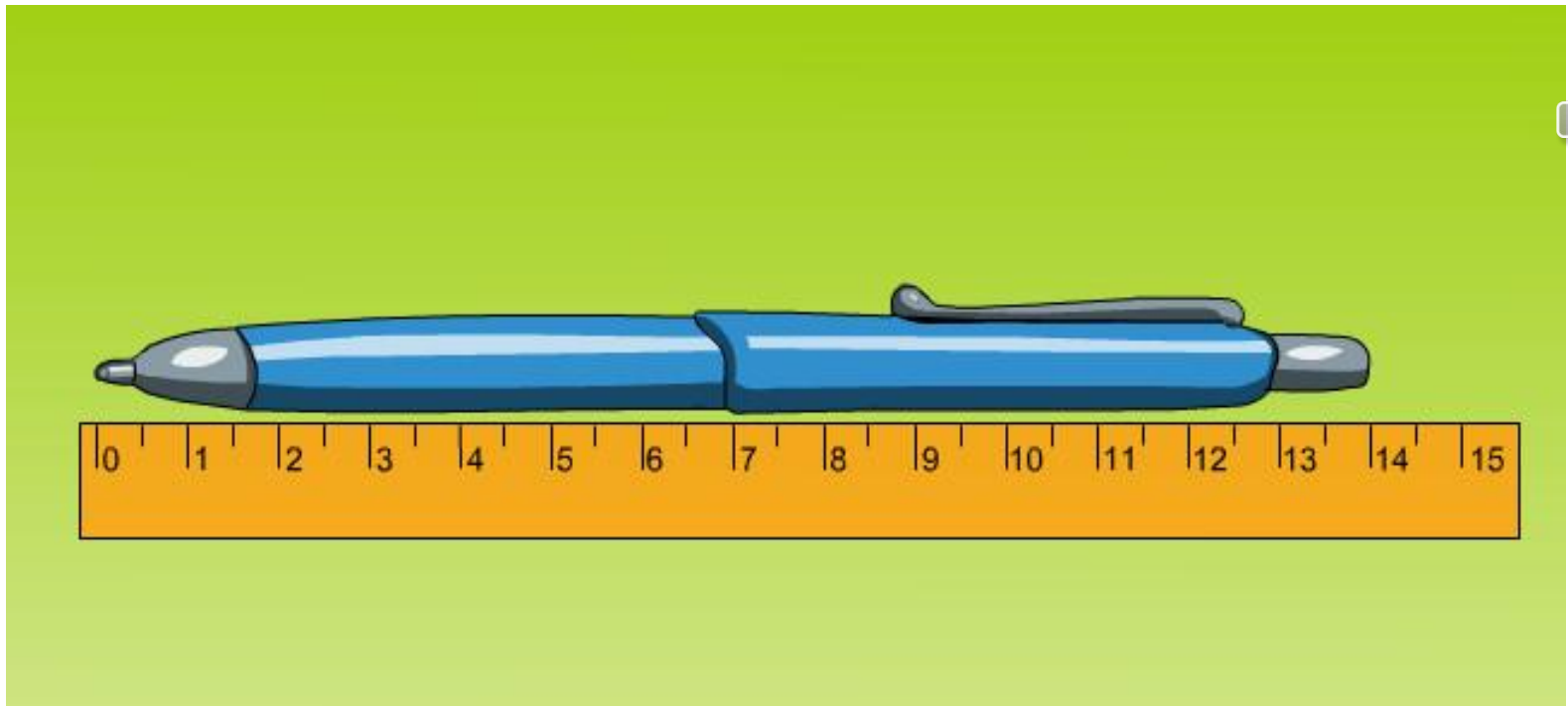
Проверь себя.

Измерь на листочках отрезки.

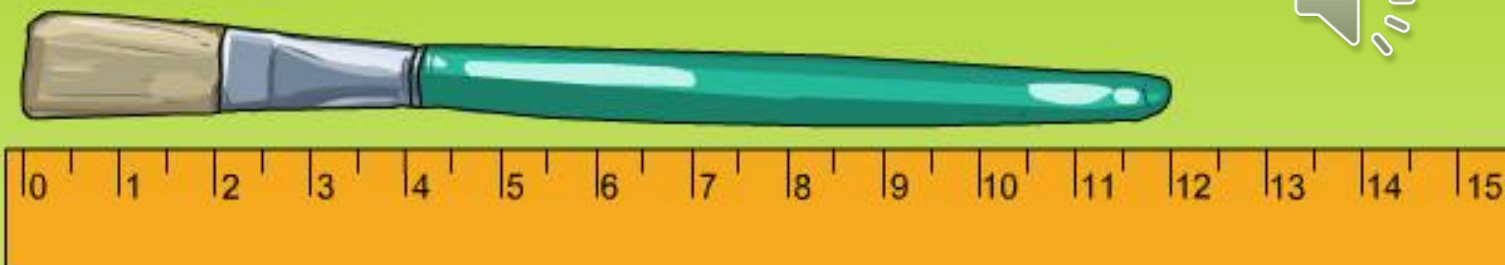


Дециметр





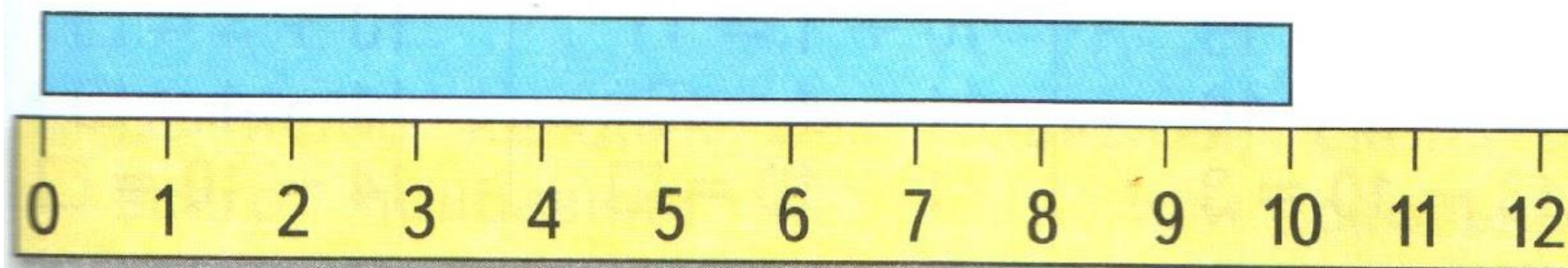
14 см = 1 дм 4 см



1 дм 2 см = 12 см


Узнаем, что есть более крупная, чем сантиметр, единица длины — **дециметр**.

$$1 \text{ дм} = 10 \text{ см}$$



1. Возьми полоску бумаги длиной 1 дм и отмерь ею 2 дм верёвки. Сколько это сантиметров?
2. Начерти отрезок длиной 12 см. Сколько это дециметров и сантиметров?

**СКОЛЬКО
ТРЕУГОЛЬ-
НИКОВ?
СКОЛЬКО
ЧЕТЫРЁХ-
УГОЛЬНИКОВ?**



конец