


УСТНЫЙ СЧЁТ

$$2 + 2 =$$

$$6 - 4 =$$



Резинка стоит 6 рублей, а карандаш 4 рубля. А ручка
столько, сколько карандаш и резинка вместе. 
Сколько стоит ручка?

6 рублей

$$6 + 4 = 10$$



4 рубля



10

Маша купила 8 карандашей и 3 кисточки. На сколько больше купили карандашей, чем кисточек?



на 5 карандашей

$$8 - 3 = 5$$






14 = дес. единицы

16 = дес. единицы

18 = дес. единицы

НОВЫЙ МАТЕРИАЛ





17	12	15	19	1	18	14	20
м	е	и	т	д	е	ц	р

Расположите числа в порядке возрастания, и вы узнаете, с какой новой единицей измерения длины мы познакомимся сегодня на уроке.

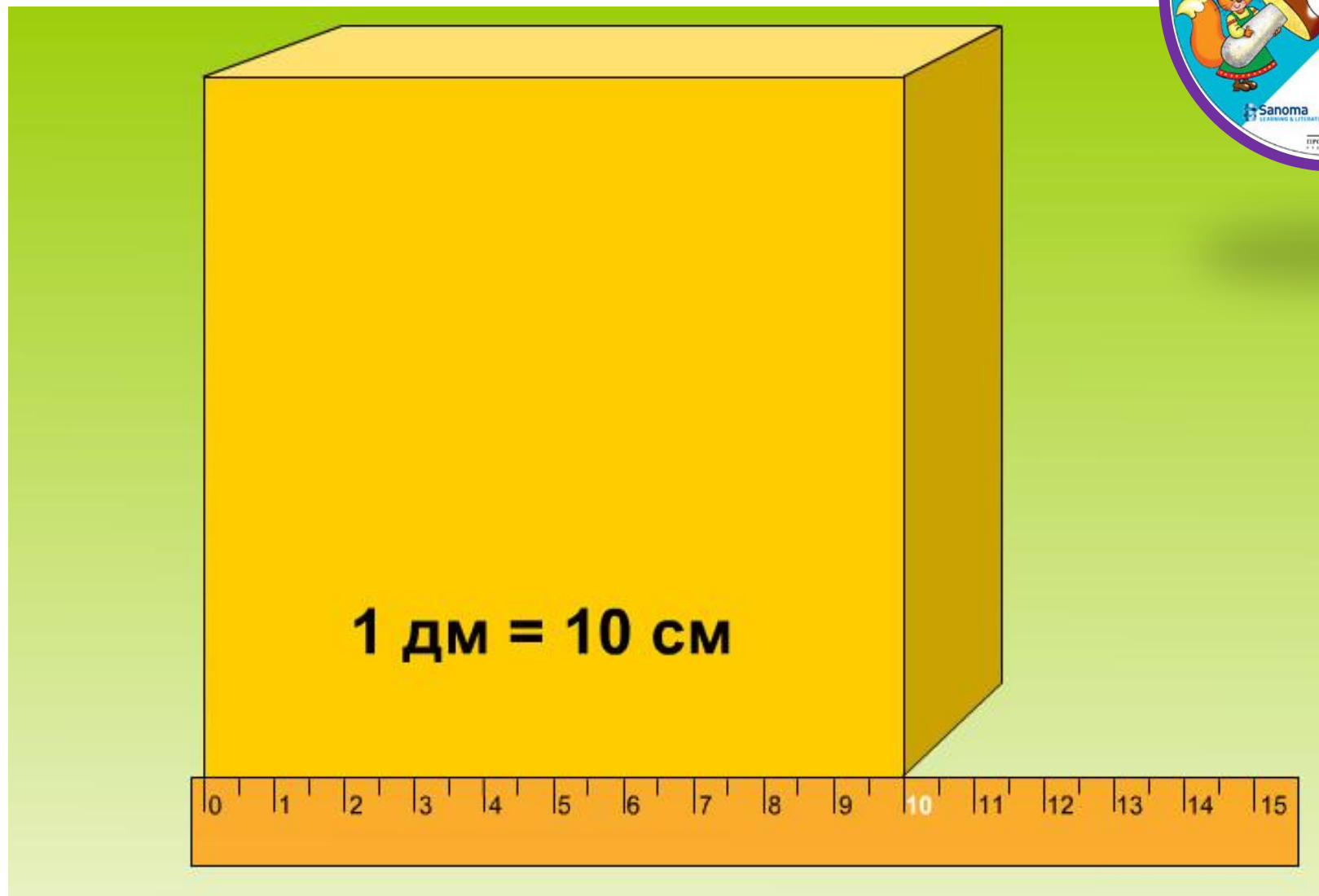
Напиши в тетрадке числа в порядке от меньшего к большему через клетку, а под ними буквы, которые им соответствуют.

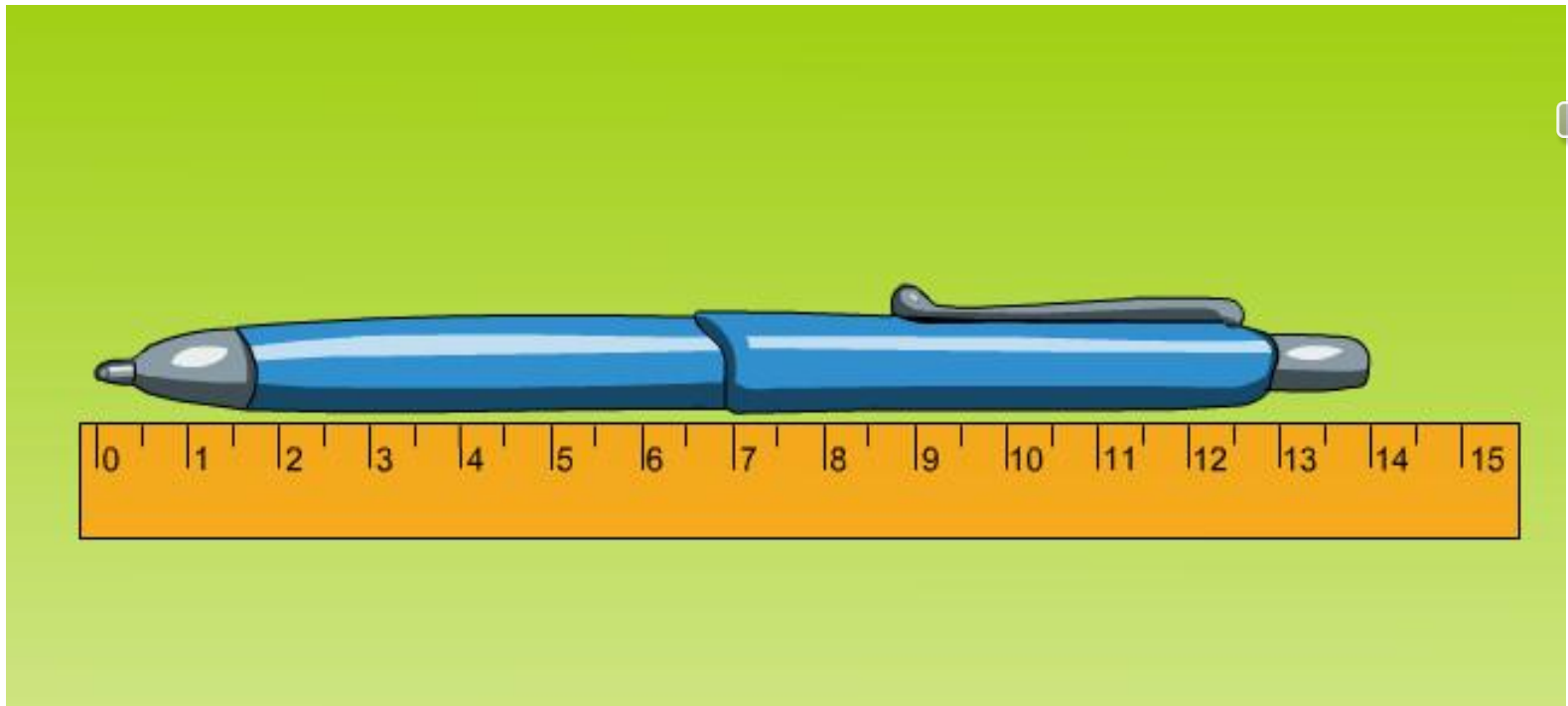
1	12	14	15	17	18	19	20
д	е	ц	и	м	е	т	р



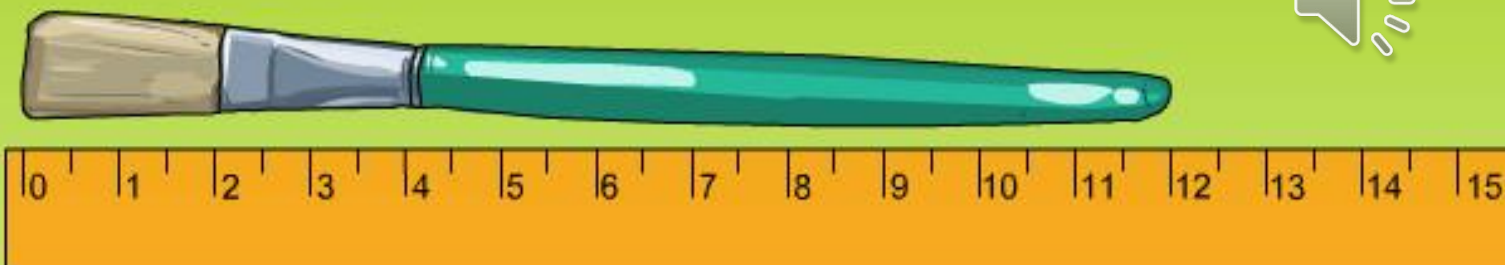
Проверь себя.

Дециметр





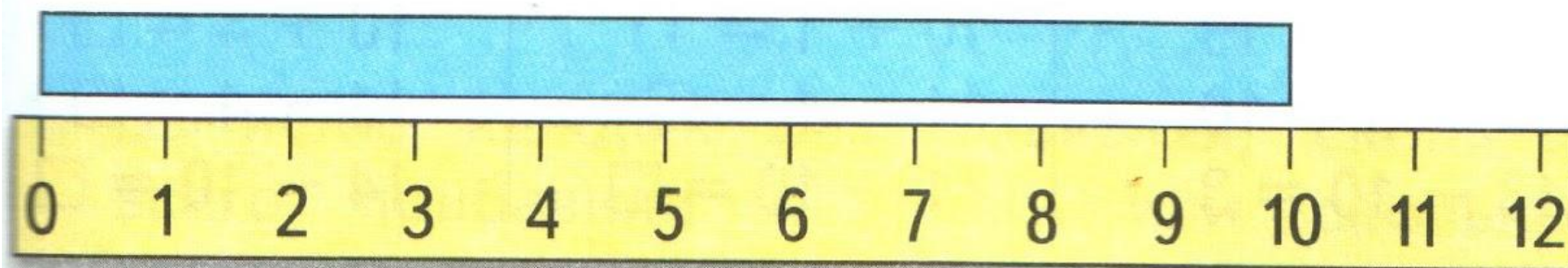
14 см = 1 дм 4 см



1 дм 2 см = 12 см

Узнаем, что есть более крупная, чем сантиметр, единица длины — **дециметр**.


$$1 \text{ дм} = 10 \text{ см}$$




№2 в тетрадку

2. Начерти отрезок длиной 12 см. Сколько это дециметров и сантиметров?

3. У Вити



У Вити



У Коли на 2 рыбки больше. Сколько рыбок у Коли?

У Кати на 2 рыбки меньше. Сколько рыбок у Кати?

5. $3 + 5$
 $9 - 6$

$8 - 6$
 $4 + 4$

$10 - 7$
 $10 - 8$

$2 + 5 + 3$
 $9 - 9 + 1$