

# Тест по математике за первое полугодие для 1 класса



[Начать тест](#)

# Задание 1

Помощь

Найди сумму со значением 4



## Задание 2

Помощь

Найди сумму, в которой первое слагаемое равно **3**



# Задание 3

Помощь

Найди разность со значением 1



## Задание 4

Помощь

Найди разность, в которой уменьшаемое равно **5**



## Задание 5

Выбери запись, в которую вместо «снежинки» нужно вставить знак ( > ) «больше»



## Задание 6

Куда нужно вставить знак ( < ) «меньше» ?



## Задание 7

Отметь равенство





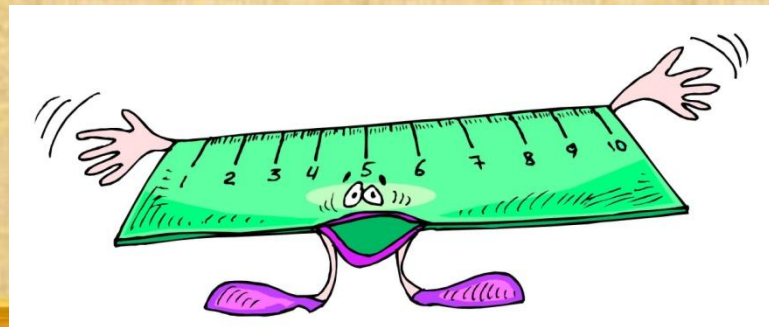
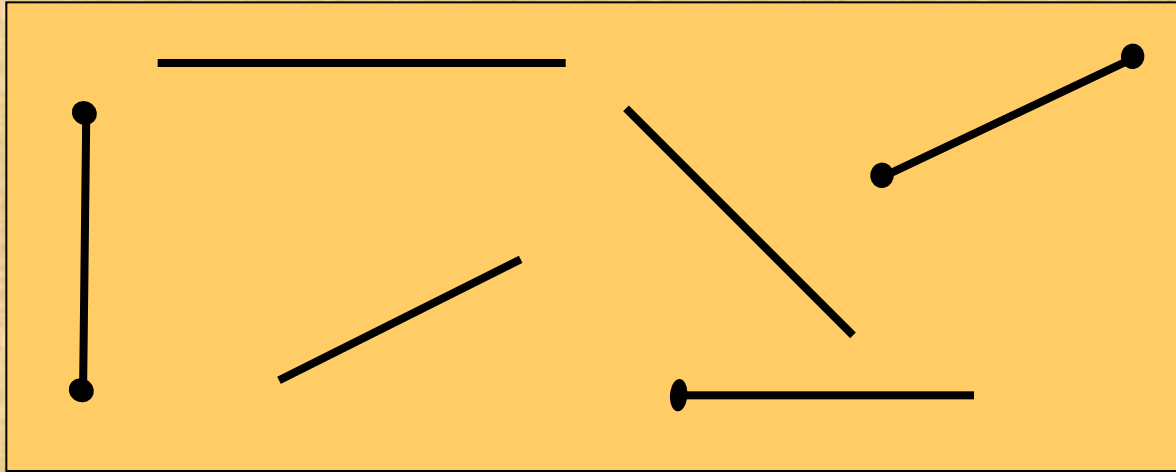
## Задание 8

Найди **натуральный** ряд чисел



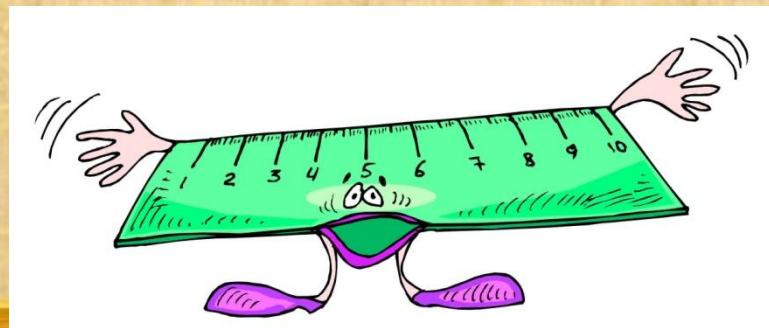
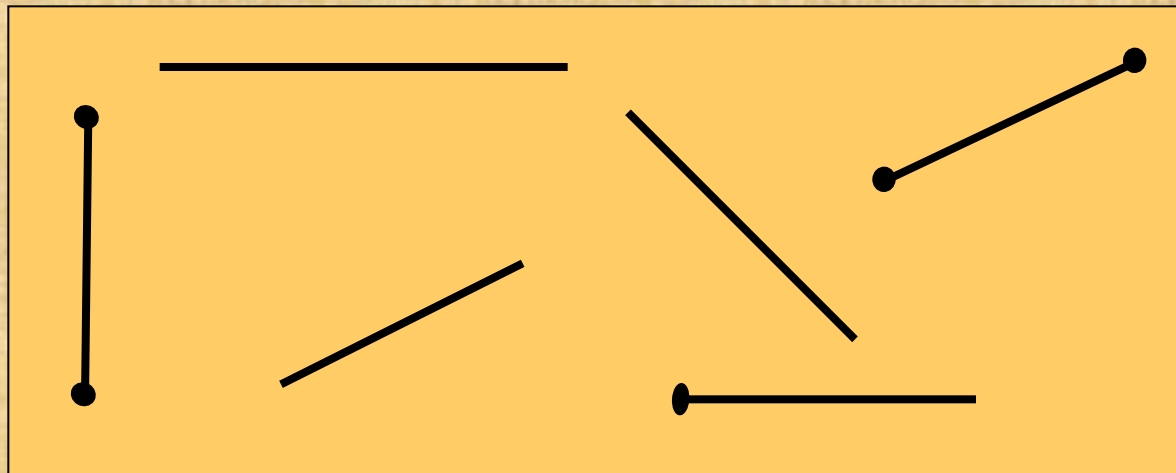
## Задание 9

Сколько на рисунке **отрезков**?



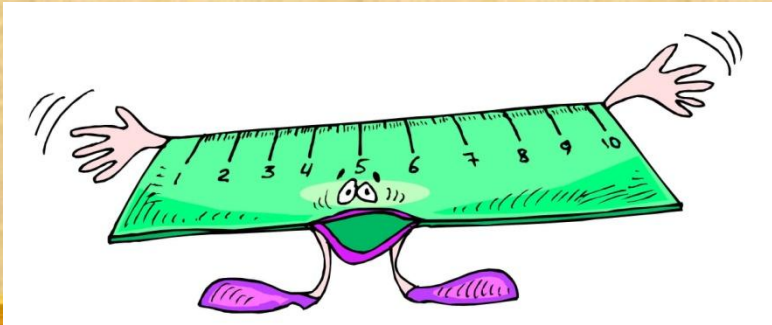
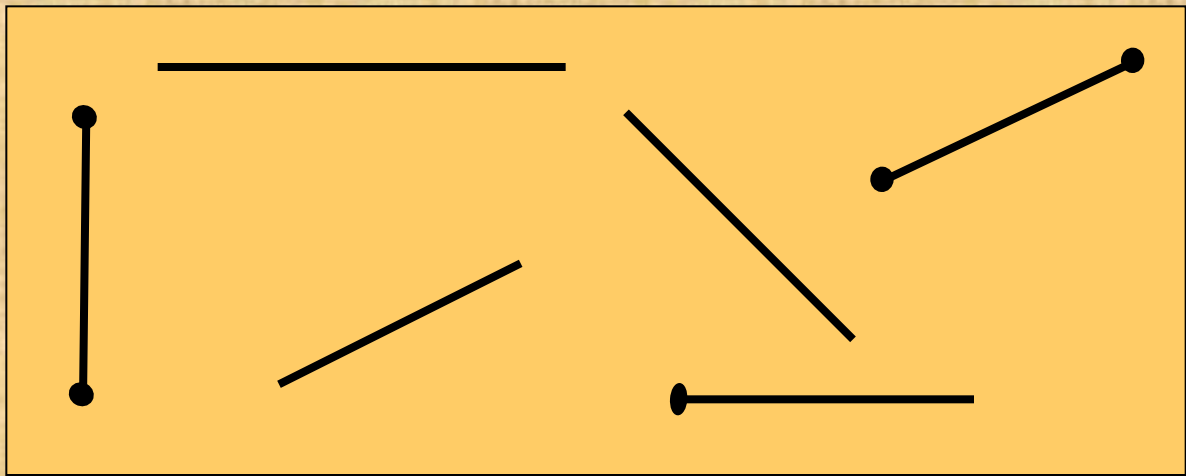
## Задание 10

Сколько на рисунке **лучей**?



# Задание 11

Сколько на рисунке **прямых**?



## Задание 12

Помощь

В какое равенство вместо «снежинки» нужно вставить **знак сложения**?



## Задание 13

Помощь

В каком равенстве пропущен **знак вычитания**?



## Задание 14

Выбери верное решение задачи  
**Сколько снежинок всего?**



## Задание 15

Выбери верное решение задачи  
Сколько Снегурочек осталось?







**Всего заданий выполнено**

**Выполнено верно**

**Процент выполнения**

**Оценка**

Сложение обозначают знаком «+» (плюс)

сумма

**a**

**+**

**b**

**=**

**c**



**первое  
слагаемое**



**второе  
слагаемое**



**значение  
суммы**



Вычитание обозначают знаком «-» (минус)

разность

$$a - b = c$$

уменьшаемое

вычитаемое

значение  
разности

