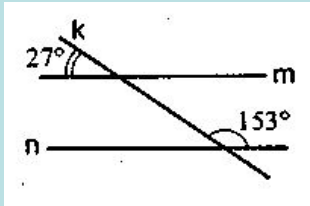
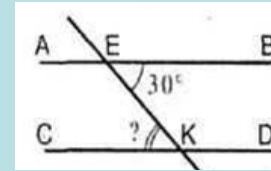


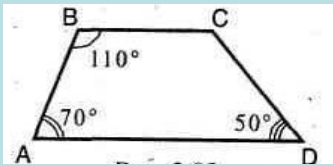
1. Параллельны ли прямые m и n ?



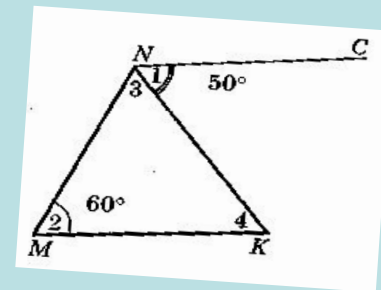
2. Дано: $AB \parallel CD$.
Найдите $\angle K$



3. Найдите $\angle C$



4. На рисунке $NC \parallel MK$.
Найдите $\angle 3$ и $\angle 4$



5. На рисунке $DM \parallel CE$,
луч DE – биссектриса угла CDM ,
 $\angle 4 = 110^\circ$. Найдите углы треугольника CDE .

