



5



7



3



Тес

«Весёлые задачи»

Введите фамилию и имя



Всего заданий

10

Начать тестирование

Время тестирования

5

мин.



5



7



3



Дорогой друг!

Читай внимательно задачи и записывай
ответы в специальные окошки.

Для того, чтобы перейти
к следующему вопросу, нажми «Далее».

В конце ты увидишь результат своих
ответов.

Желаю удачи!



Далее





5



7



3



Реши задачу и запиши ОТВЕТ

Ёжик по лесу шёл,
На обед грибы нашёл:
Два — под берёзой,
Один — у осины,
Сколько их будет
В плетёной корзине?



Введите ответ:

Задание

1

1 бал.



Далее



5



7



3



Реши задачу и запиши ОТВЕТ

У Егорки- малыша
четыре есть карандаша.
У его сестрёнки Иры
Тоже столько же - четыре.
Сколько всех карандашей?



Введите ответ:

Задание

2

1 бал.



Далее



5



7



3



Реши задачу и запиши

ответ

Семь ребят каталось с горки.
Убежал домой Егорка,
А потом ушел Вадим
И Сережа вслед за ним.
Сколько на горке осталось
детей?
Кто посчитал, отвечайте
скорей!



Введите ответ:

Задание

3

1 бал.



Далее



5



7



3



Реши задачу и запиши

ответ

Сливы на столе лежали.
Дети в комнату вбежали.
Положили еще две.
Стало десять на столе.
Сколько было слив сначала,
Пока детвора не прибежала?



Введите ответ:

Задание

4

1 бал.



Далее



5



7



3



Реши задачу и запиши

ответ

Как под ёлкой встали в круг
Зайка, белка и барсук,
Встали ёжик и енот,
Лось, кабан, лиса и кот.
А последним встал медведь,
Сколько всех зверей?
Ответ!



Введите ответ:

Задание

5

1 бал.



Далее



5



7



3



Реши задачу и запиши

ответ

3 ромашки – желтоглазки,
2 весёлых василька
Подарили маме дети.
Сколько же цветов в
букете?




Введите ответ:





5



7



3



Реши задачу и запиши

ОТВЕТ

На прогулку из яслей
Вышло десять малышей.
Пять из них на травку сели,
Остальные - на качели.
Сколько ребят село на
качели?



Введите ответ:

Задание

7


1 бал.



Далее



5



7



3



Реши задачу и запиши

Сидят рыбаки, стерегут поплавки:
Рыбак Корней поймал трех окуней,
Рыбак Евсей - четырех карасей.
А рыбак Михаил двух сомов
изловил.
Сколько рыб из реки натаскали
рыбаки?



Введите ответ:

Задание

8

1 бал.



Далее



5



7



3



Реши задачу и запиши

По тропинке в лесок **ответ**

Покатился колобок.

Встретил серого зайчишку,

Встретил волка, встретил мишку

Да плутовку лису

Повстречал он в лесу.

Отвечай поскорей,

Сколько встретил колобок зверей?




Введите ответ:





5



7



3



Реши задачу и запиши

Мы **большущая**
семья.

Самый младший –
это я.

Таня есть и Вася
есть,

Юра, Шура, Зина,
Маша,

И Наташа тоже наша.

Введите ответ:

**Сколько детей в
семье?**



Задание

10

1 бал.



Итоги



Результаты тестирования

5



7



3




Оценка

Правильных ответов

Набранных баллов

Ошибки в выборе
ответов на задания:



Всего заданий

бал.

Снова

Выход

Затрачено времени