



Решение задач


Урок математики

2 класс

- $26 - \boxed{4} = 22$
- $43 - \boxed{3} = 13$
- $\boxed{3} - 10 = 25$
- $\boxed{5} - 40 = 32$
- $64 + \boxed{3} = 67$
- $\boxed{5} - 30 = 21$
- $78 + \boxed{2} = 80$
- $50 - \boxed{2} = 25$
- $\boxed{5}$






Какая фигура лишняя?



Задача:

- В вазе лежали 4 яблока и три груши, а слив столько, сколько яблок и груш вместе.
- **Вопрос: сколько слив было в вазе?**





Решение:

$$4 + 3 = 7 \text{ (с)}$$

Ответ : 7 слив.

$$60 - 27 =$$

$$50 - 46 =$$

$$70 - 8 =$$

$$(80 - 20) - 9 =$$

$$100 - (4 + 36) =$$

$$90 - (53 - 50) =$$

$$70 - 38 =$$

$$94 - 20 =$$

$$80 - 53 =$$

$$(73 - 70) + 17 =$$

$$54 + (18 - 8) =$$

$$67 - (17 + 3) =$$

Молодцы!

