

# Викторина по курсу технологии

7 класс



# Интерьер жилого дома



# Загадка

---

Интерьер жилого дома

В этой комнате на полке,  
Куклы, зайчики и волки.  
Мчится поезд по ковру,  
Малышей зовёт в игру.  
Дочки, сыновья и внуки  
Тут совсем не знают скуки.



# Загадка

---

Интерьер жилого дома

В этой комнате на полке,  
Куклы, зайчики и волки.  
Мчится поезд по ковру,  
Малышей зовёт в игру.  
Дочки, сыновья и внуки  
Тут совсем не знают скуки.

Детская



Так называют разделение пространства на  
отдельные зоны

О	И	Н	З	Р	А	В	Н	О	Е	И
---	---	---	---	---	---	---	---	---	---	---

Так называют разделение пространства на  
отдельные зоны

О	И	Н	З	Р	А	В	Н	О	Е	И
---	---	---	---	---	---	---	---	---	---	---

З	О	Н	И	Р	О	В	А	Н	И	Е
---	---	---	---	---	---	---	---	---	---	---

# Задание

---

Интерьер жилого дома

Установите верное соответствие между зонами комнаты-подростка и обязательными элементами мебели, которые должны в них располагаться.

1 Спальная зона.

2 Рабочая зона.

3 Зона отдыха и приёма гостей.

А Кресла или стулья.

Б Кровать.

В Стол.

# Задание

Интерьер жилого дома

Установите верное соответствие между зонами комнаты-подростка и обязательными элементами мебели, которые должны в них располагаться.

Спальная зона. 1 → Б Кровать.

Рабочая зона. 2 → В Стол.

Зона отдыха и приёма гостей. 3 → А Кресла или стулья.



# Кулинария



# Загадка

---

И уха он, и бульон,  
Щи, рассольник — тоже он.  
Он гороховый, капустный  
И, конечно, очень вкусный.



# Загадка

---

Кулинария

И уха он, и бульон,  
Щи, рассольник — тоже он.  
Он гороховый, капустный  
И, конечно, очень вкусный.

Суп



Так называют мясо телёнка, возраст которого  
от 2-х недель до 3-х месяцев

Е	И	Н	Т	Т	А	Л	Я
---	---	---	---	---	---	---	---

# Анаграмма

---

Так называют мясо телёнка, возраст которого  
от 2-х недель до 3-х месяцев

Е	И	Н	Т	Т	А	Л	Я
---	---	---	---	---	---	---	---

Т	Е	Л	Я	Т	И	Н	А
---	---	---	---	---	---	---	---

# Задание

Составьте верное соответствие между видом рыбы и температурой тушки:

1 - 8 °С... - 6 °С.

2 - 1 °С... + 5 °С.

А Охлаждённая.

Б Мороженная.

# Задание

Составьте верное соответствие между видом рыбы и температурой тушки:

- 8 °С... - 6 °С. **1** → **Б** Мороженая.

- 1 °С... + 5 °С. **2** → **А** Охлаждённая.

# Создание изделий из текстильных материалов





# Загадка

---

Создание изделий из текстильных материалов

На поляне шерстяной  
Пляшет тонконожка.  
Из-под туфельки  
стальной  
Выползает стёжка.



# Загадка

---

Создание изделий из текстильных материалов

На поляне шерстяной  
Пляшет тонконожка.  
Из-под туфельки  
стальной  
Выползает стёжка.

Швейная машина



Учёным удалось заменить шерстяное  
волокно химическим. Как оно называется?

Т	И	Н	Н	Р	О
---	---	---	---	---	---

# Анаграмма

---

Создание изделий из текстильных материалов

Учёным удалось заменить шерстяное волокно химическим. Как оно называется?

Т	И	Н	Н	Р	О
---	---	---	---	---	---

Н	И	Т	Р	О	Н
---	---	---	---	---	---

# Задание

---

Создание изделий из текстильных материалов

Укажите верное соответствие между толщиной ткани и способом пришивания пуговицы.

1 Толстая ткань.

А Пуговицу надо пришивать вплотную.

2 Тонкая ткань.

Б Пуговицу надо пришивать на стойке.

# Задание

---

Создание изделий из текстильных материалов

Укажите верное соответствие между толщиной ткани и способом пришивания пуговицы.

Толстая ткань. 1 → Б Пуговицу надо пришивать на стойке.

Тонкая ткань. 2 → А Пуговицу надо пришивать вплотную.

# Художественные ремёсла



# Загадка

---

Художественные ремёсла

Две стройные сестрицы  
В руках у мастерицы.  
Весь день ныряли в петельки...  
И вот он – шарф для Петеньки.





# Загадка

---

Художественные ремёсла

Две стройные сестрицы  
В руках у мастерицы.  
Весь день ныряли в петельки...  
И вот он – шарф для Петеньки.

Спицы



Так называют приспособление, которое используют для того, чтобы отметить определённое место в вязании крючком, например, в месте прибавления петель или наоборот убавления.

А	М	Е	К	Р	Р
---	---	---	---	---	---

# Анаграмма

---

Так называют приспособление, которое используют для того, чтобы отметить определённое место в вязании крючком, например, в месте прибавления петель или наоборот убавления.

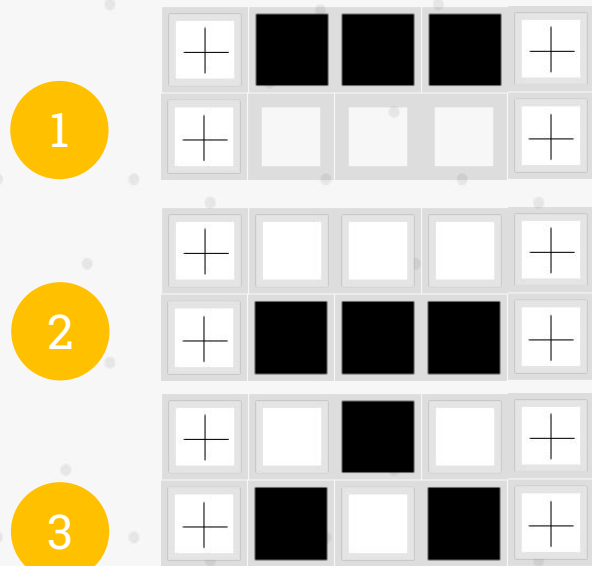
А	М	Е	К	Р	Р
---	---	---	---	---	---

М	А	Р	К	Е	Р
---	---	---	---	---	---

# Задание

Художественные ремёсла

Установите верное соответствие между схемами и названиями видов вязания на спицах.




- А Жемчужный узор.
- Б Лицевая гладь.
- В Изнаночная гладь.

# Задание

Художественные ремёсла

Установите верное соответствие между схемами и названиями видов вязания на спицах.



1 → Б Лицевая гладь.

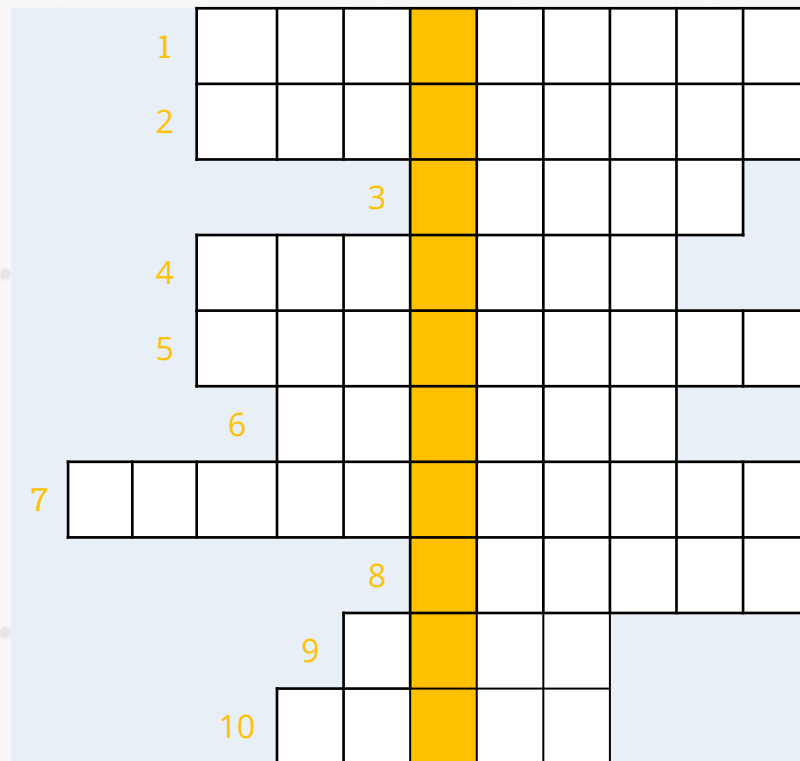
2 → В Изнаночная гладь.

3 → А Жемчужный узор.

# Кроссворд

Какое слово является ключевым?

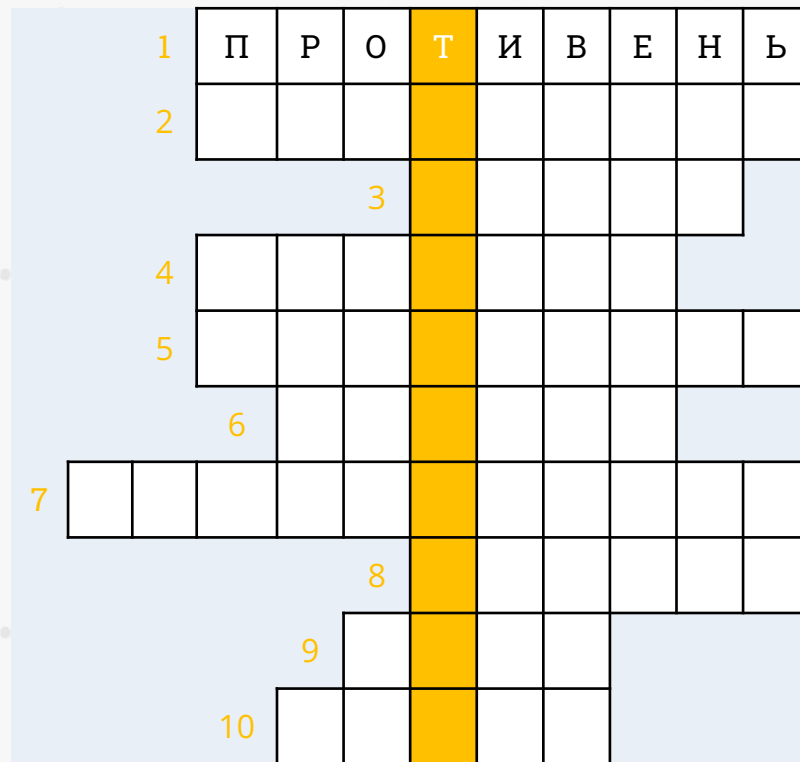
## Вопрос 1



# Кроссворд

Какое слово является ключевым?

## Вопрос 1



# Кроссворд

Какое слово является ключевым?

## Вопрос 2

Как называется перенос растения в другой горшок с сохранением кома земли?





# Кроссворд

Какое слово является ключевым?

## Вопрос 2

Как называется перенос растения в другой горшок с сохранением кома земли?



# Кроссворд

Какое слово является ключевым?

## Вопрос 3



# Кроссворд

Какое слово является ключевым?

## Вопрос 3



# Кроссворд

Какое слово является ключевым?

## Вопрос 4

Как называется часть жилого дома или квартиры?



# Кроссворд

Какое слово является ключевым?

## Вопрос 4

Как называется часть жилого дома или квартиры?



# Кроссворд

Какое слово является ключевым?

## Вопрос 5

Как называется устройство для автоматического полива растений?



# Кроссворд

Какое слово является ключевым?

## Вопрос 5

Как называется устройство для автоматического полива растений?



# Кроссворд

Какое слово является ключевым?

## Вопрос 6



1	П	Р	О	Т	И	В	Е	Н	Ь
2	П	Е	Р	Е	В	А	Л	К	А
			3	Х	У	Р	М	А	
4	К	О	М	Н	А	Т	А		
5	А	В	Т	О	П	О	Л	И	В
			6						
7									
				8					
				9					
				10					



# Кроссворд

Какое слово является ключевым?

## Вопрос 6



1	П	Р	О	Т	И	В	Е	Н	Ь
2	П	Е	Р	Е	В	А	Л	К	А
			3	Х	У	Р	М	А	
4	К	О	М	Н	А	Т	А		
5	А	В	Т	О	П	О	Л	И	В
			6	П	Я	Л	Ь	Ц	Ы
7									
				8					
				9					
				10					

# Кроссворд

Какое слово является ключевым?

## Вопрос 7

Как называется процесс разделки рыбы на филе?



# Кроссворд

Какое слово является ключевым?

## Вопрос 7

Как называется процесс разделки рыбы на филе?



# Кроссворд

Какое слово является ключевым?

## Вопрос 8

Как называется густая часть супа?







# Кроссворд

Какое слово является ключевым?

## Вопрос 9

Как называется часть тушки птицы, показанная на рисунке?



1	П	Р	О	Т	И	В	Е	Н	Ь		
2	П	Е	Р	Е	В	А	Л	К	А		
			3	Х	У	Р	М	А			
4	К	О	М	Н	А	Т	А				
5	А	В	Т	О	П	О	Л	И	В		
			6	П	Я	Л	Ь	Ц	Ы		
7	П	Л	А	С	Т	О	В	А	Н	И	Е
					8	Г	А	Р	Н	И	Р
					9	Ф	И	Л	Е		
					10						

# Кроссворд

Какое слово является ключевым?

## Вопрос 9

Как называются нитки,  
показанные на рисунке?



1	П	Р	О	Т	И	В	Е	Н	Ь		
2	П	Е	Р	Е	В	А	Л	К	А		
			3	Х	У	Р	М	А			
4	К	О	М	Н	А	Т	А				
5	А	В	Т	О	П	О	Л	И	В		
			6	П	Я	Л	Ь	Ц	Ы		
7	П	Л	А	С	Т	О	В	А	Н	И	Е
					8	Г	А	Р	Н	И	Р
						9	Ф	И	Л	Е	
						10					



# Кроссворд

Какое слово является ключевым?

## Вопрос 9

Как называются нитки,  
показанные на рисунке?



1	П	Р	О	Т	И	В	Е	Н	Ь			
2	П	Е	Р	Е	В	А	Л	К	А			
			3	Х	У	Р	М	А				
4	К	О	М	Н	А	Т	А					
5	А	В	Т	О	П	О	Л	И	В			
			6	П	Я	Л	Ь	Ц	Ы			
7	П	Л	А	С	Т	О	В	А	Н	И	Е	
					8	Г	А	Р	Н	И	Р	
						9	Ф	И	Л	Е		
							10	П	Р	Я	Ж	А

