

Математика



Учитель:

Иванова Н. М.

**НОВЫЙ
ГОД!**



Тема урока:

«Сложение и вычитание

видов: 3□ , 2□ , $1\pm\text{□}$ ».

Закрепление.



ГЕОМЕТРИЧЕСКОЕ ЗАДАНИЕ





ФИЗ. МИНУТКА






$$6 - 2 = 4 (\text{п.})$$

Работа по учебнику



Задача



$$3+3=6(\text{ш.})$$

Ответ: 6 шаров.



Работа по учебнику



САМОСТОЯТЕЛЬНАЯ РАБОТА

$5+3=8$

$10-1=9$

$6+2=8$




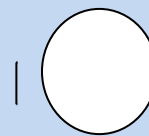

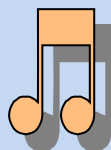

$7-2=5$

$9+1=10$

$9-3=6$

Итог урока

- Какой этап урока вам понравился больше?
- Какое задание оказалось для вас трудным?
- Какой знак соответствовал вашему настроению на уроке? Почему?



спасибо
за
урок!



молодцы!