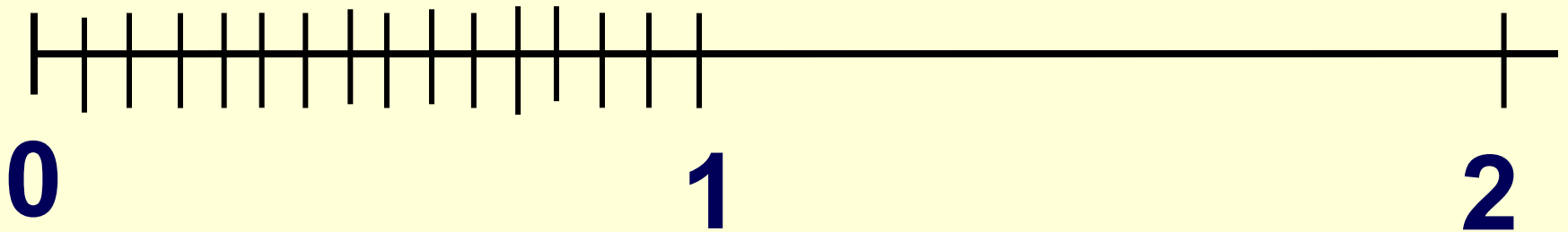


# 1. Отметь на числовом луче доли

$\frac{1}{15}$  ,  $\frac{1}{5}$  ,  $\frac{1}{3}$  .



Пользуясь схемой, составьте выражение к задаче. Сделайте вывод.




«В классе **a** учеников.

**1**

**$\frac{1}{n}$**  часть всех учеников класса учится на 5.  
Сколько учеников этого класса учатся на 5?»

1 – a уч.



$\frac{1}{n}$  - ? уч.

Пользуясь схемой, составьте выражение к задаче. Сделайте вывод.




«В классе **24** ученика.

**1**

**$\frac{1}{4}$**  часть всех учеников класса учится на 5.

Сколько учеников этого класса учатся на 5?»

1 – 24 уч.



$\frac{1}{4}$  - ? уч.


«В классе **a** учеников.

**1**

**$\frac{1}{n}$**  часть всех учеников класса учится на 5.  
Сколько учеников этого класса учатся на 5?»



1 – a уч.



$\frac{1}{n}$  - ? уч.





