





**Внеклассное мероприятие по
теме: "Путешествие в царство
математики"**



**Добро пожаловать
в счётное королевство.**



Его величество
Король **Число**.

Её величество
Королева **Цифра**.

- Сколько карандашей на рисунке?
- Сколько книг на полке?
- Сколько парт в классе?
- Сколько курточек на рисунке?

4

14

8

14

Натуральные числа.

Какие цифры вы знаете?



1

6

7

2

8

4

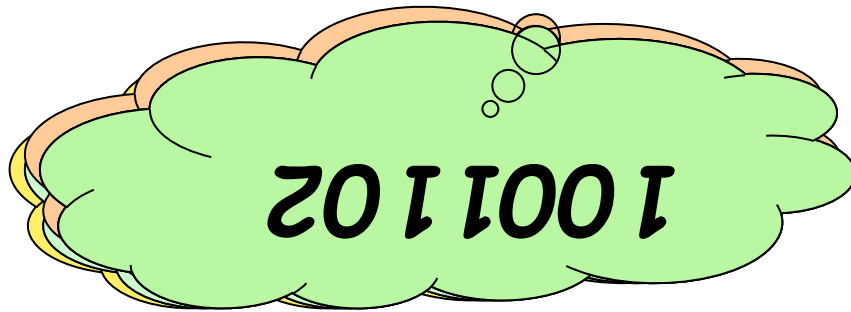

3

5

9

Однозначные числа.

Прочитайте числа:






Сложение и вычитание натуральных чисел.



*Как нету на свете без ножек столов,
Как нету на свете без рожек козлов,
Котов без усов и без панцирей раков,
Так нет в арифметике
действий без знаков.*



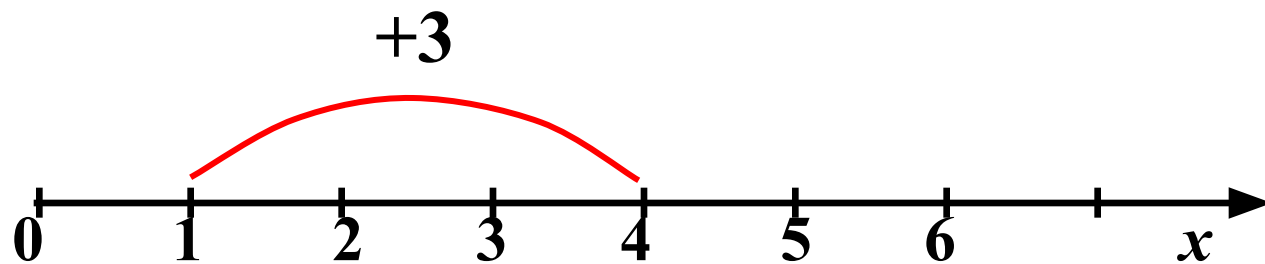
$$26 + 13 = 39$$



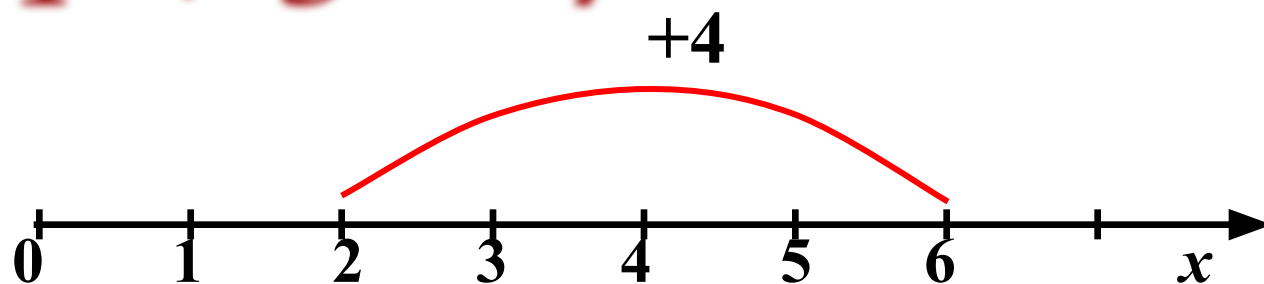
Сумма

Слагаемые





$$1 + 3 = 4$$



$$2 + 4 = 6$$

Сложение чисел можно изобразить на координатном луче.



Найдите результат сложения:

$$1 + 0 = .1$$

$$0 + 24 = 24$$


$$12 + 0 = 1.2$$

$$0 + 71 = 7.1$$



*С вычитанием ты тоже хорошо знаком.
Думаю, ты не забыл еще, что вычитание –
это действие обратное сложению.*

$$26 - 15 = 11$$



Уменьшаемое

Вычитаемое

Разность



Найдите разность:

$$19 - 4 = .5$$

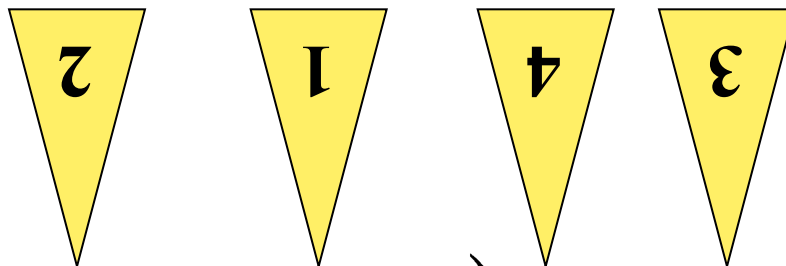
$$22 - 3 = 1.9$$

$$42 - 30 = 1.2$$


$$98 - 27 = 7.1$$



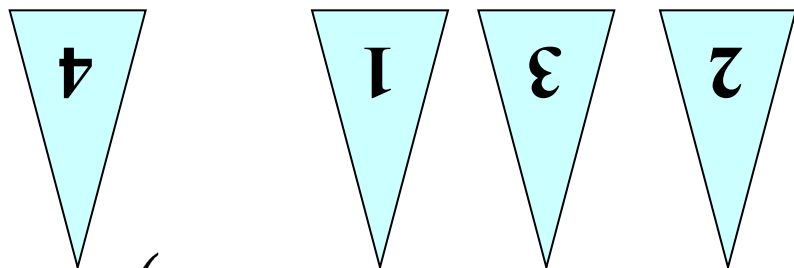
Укажите порядок действий в
примерах:




a) $(41201 - 305 : 35) + 21 \cdot 3$



Укажите порядок действий в примерах:



$$б) 4235 + (4121 : 21 - 42 \cdot 590)$$



$$140 : 2 = 70$$

+
5
0

$$120$$

:
4

$$30$$

-
2
9

$$1$$

×
8

$$560 +$$


4
4

$$1000^0$$

:
1
0

$$100$$

+
101



Выполните действия:



$$a) 57369 + 2947 = 60316$$

$$б) 97343 - 2089 = 95254$$

$$в) 123 \cdot 305 = 37515$$

$$г) 5220 : 145 = 36$$

$$д) 49 \cdot 23 + 3920 : 28 =$$

1267





Баба Яга утверждает что
Змей Горыныч не пролетит 1000 км
без дозаправки. Кощей Бессмертный
поспорил с ней на бочку кваса, что
пролетит Змей Горыныч
пролетел 4 часа со скоростью
247 км/ч и, совершив
вынужденную посадку, съел
Ивана царевича. Проиграла
Баба Яга. Не пролетела
или

Не
пролетела

988км

Проиграла!

- *Иллюзионисту для фокусов необходим прямоугольный лист бумаги. Найдите периметр и площадь данного листа, если его стороны 4 дм и 9 дм.*

Периметр:


26 дм

Площадь:

36 кв.дм

4 дм

9 дм






**Найди правильный
ответ:**

6

36

Произведение
чисел 18 и 3
равно



54

15

**Выбери и укажи правильный вариант
ответа.**



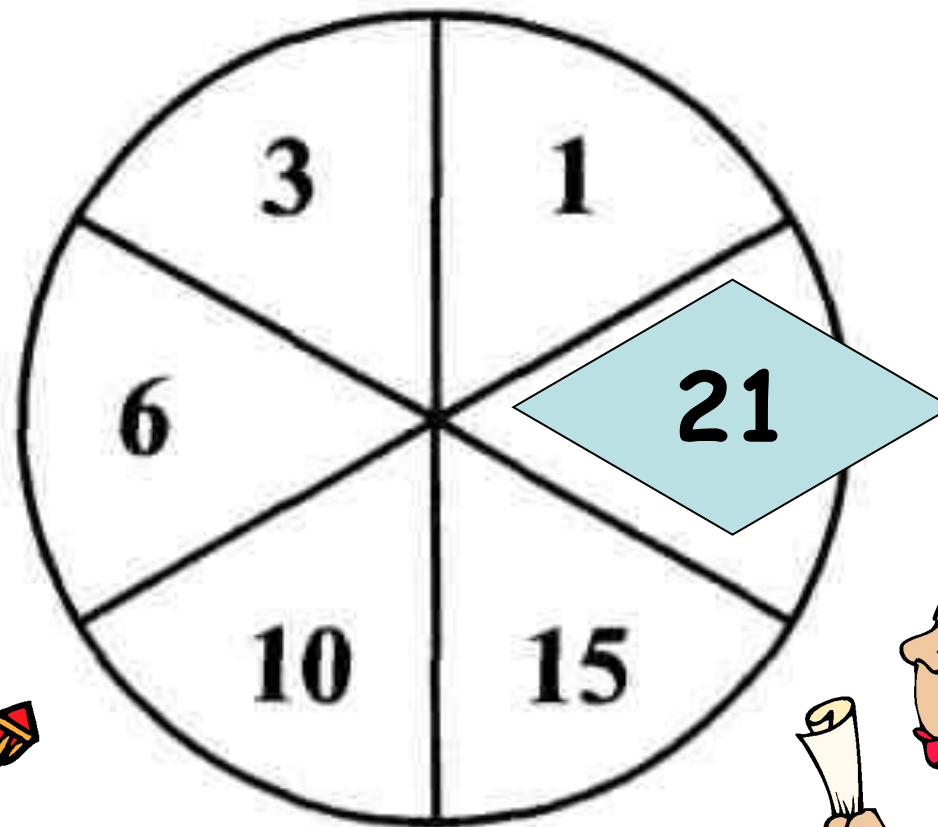
10015
м

1015 м

10 км 15 м

10150
м

Определи неизвестное число.



Запись числа в виде суммы разрядных слагаемых.

- Запишите число в виде суммы разрядных слагаемых:

а) $2070003810 = 2000000000 + 700000000 + 3000 + 800 + 10$

б) $940030614 =$

в) $1450807 =$

г) $20607 =$



