

# Математик диктантлар



Балалар, әйдәгез, математика фәне белән дус яшик!



Безнең хакта мәсьәлә төзе




# Тычкан баласы Митиньын сораулары



Беренче кушылучы 2, икенче кушылучы 3. Сумманы тап.




# Тычкан баласы Митиньын сораулары



9 һәм 4 саннарын  
аермасын тап.




# Тычкан баласы Митиньң сораулары



1 не 5 кә арттыр.




# Тычкан баласы Митиньң сораулары



5 не 2 гә к




# Тычкан баласы Митиньң сораулары



9 саны 5 санына  
ничәгә зуррак?



# Тычкан баласы Митиньң сораулары




6 саны 2 дән ничәгә э






# Тычқан баласы Митиньң сораулары



10 ны 3 кө




# Тычкан баласы Митиньң сораулары



9 саны килеп чыксы  
10 ны ничәгә кимет  
кирәк?



# Тычкан баласы Митиньң сораулары



Ике санның суммасы  
тигез. Кушылучылар  
булырга мөмкин?



# Тычкан баласы Митинин сораулары



Буш шакмак урыны  
санны куй  
 $5 + [] < 8$



# Тычкан баласы Митиньң сораулары



Суммасы 4 кә тиге  
булган саннарны я



**Молодцы!**



# Тычкан баласы Мотинның сораулары



Кимүче 7, киметүч  
Аерманы табыгыз.



# Тычкан баласы Мотинның сораулары



Ике санның суммасын тап  
тигез. Беренче кушылуычы 4.  
Икенче кушылуычыны табарга.





# Тычкан баласы Мотиннын сораулары



Кайсы дөре

$1 < 3$     $7 > 1$     $2 = 3$



# Тычкан баласы Мотинанын сораулары



7 дән 2 гә зуррак с



# Тычкан баласы Мотинның сораулары



8 не 6 га



# Тычкан баласы Мотинанын сораулары



7 не 2 гә ар



Сез шәп беләсез!





# Леопольдтан Математик диктант

10 ны 5 кә кечерәйтергә, килеп  
чыккан санны 4 кә зурайтырга.





# Леопольдтан

## Математик диктант

Иң зур берурынлы санны яз.





# Леопольдтан

## Математик диктант

6 ны 4 кә зурайт.







# Леопольдтан МАТЕМАТИК ДИКТАНТ

8 не 3кә кечерәйт





# Леопольдтан

## Математик диктант

4 тән 5 кә зуррак санны тап





# Леопольдтан

## Математик диктант

4 тэн нэм 3 тэн торган санны яз.





# Леопольдтан Математик диктант

Бер сыйныфта 10 укучы,  
икенчесендә 3 кә кимрәк. Икенче  
сыйныфта ничә укучы бар?



Математиканы  
яратыгыз!  
Математиканы  
өйрәнегиз!

