


Занимательные и нестандартные
задачи

Математика в первом классе

Денисова Светлана Васильевна

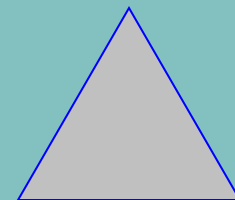
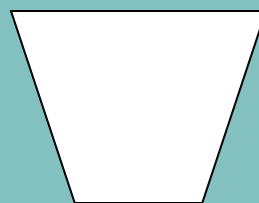


Учитель начальных классов ВКК

МОУ СОШ № 12




Воронеж 2005 год



Какую фигуру загадал Вова. Она не маленькая, не белая,
не круг, не треугольник.




Катя. Петя и Вова начертили круг, треугольник и прямоугольник.


Катя не чертила ни круг, ни прямоугольник. Вова не чертил ни треугольник, ни круг. Кто какую фигуру начертил?








Катя. Петя и Вова начертили круг, треугольник и прямоугольник.
Катя не чертила ни круг, ни прямоугольник. Вова не чертил ни
треугольник, ни круг. Кто какую фигуру начертил?



Катя




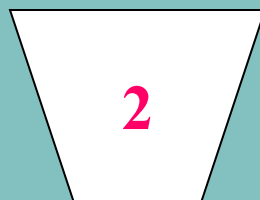



Петя




Вова


Про какую фигуру можно сказать: это четырёхугольник, у него все углы прямые, это не квадрат?



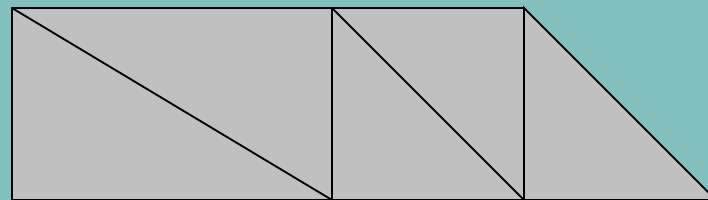
*Сколько прямоугольников
на каждом рисунке?*



3



9



3


Петя сделал фигуру из проволоки длиной 10 см, а Вова из проволоки длиной 8 см. Кто какую фигуру сделал?



Петя


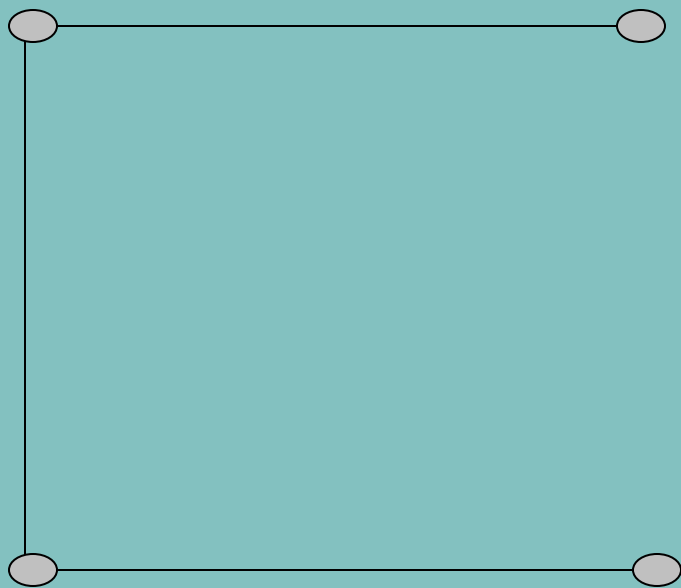


??



Вова

Вова начертил ломаную. Какая фигура получится, если замкнуть эту ломаную?



Вова начертил ломаную. Какая фигура получится, если замкнуть эту ломаную?

