


МБОУ «Новообинцевская СОШ»

# Урок математики в 1 классе

Разработчик презентации учитель  
начальных классов  
Кавылина Надежда Васильевна



A colorful illustration of a village scene. On the left, a girl with a red hood, yellow dress, and blue skirt carries a basket. In the center, a dog sits. On the right, a girl in a purple headscarf and blue dress waves from a window. The background features a house, palm trees, and sunflowers.
$$2+2= 4$$

$$3+2= 5$$

$$5+1= 6$$

$$9-2= 7$$

$$10-1= 9$$

$$3-2= 1$$

4	9	
		5
6	8	
7		1

Мама дала Красной Шапочке 6 пирожков, чтобы она отнесла их бабушке. По дороге её встретил Волк.

Она дала ему 1 пирожок. Сколько пирожков осталось у Красной Шапочки?

$$6 - 5 =$$

(п.)






Какая тропинка  
короче?

$$8+2 > 5+1$$

$$4+2 < 5+3$$



Три зайчонка, пять ежат  
Ходят вместе в детский  
сад.

Посчитать мы вас  
попросим,

Сколько **3+5=8** малышек в саду?



**Больше**

**или**

**меньше**


**?**

**10 > 9**


**7 > 5**

**3 > 1**

**6 < 8**



Я нашел в дупле у  
белки  
Пять лесных  
орехов мелких.  
Вот ещё лежит  
один.  
Ну и белка!  
Вот хозяйка!  
Ты орешки  
5 + 1 = 6  
считай!



0,1, 2, 3,4,5,  
6,7,8,9,10.

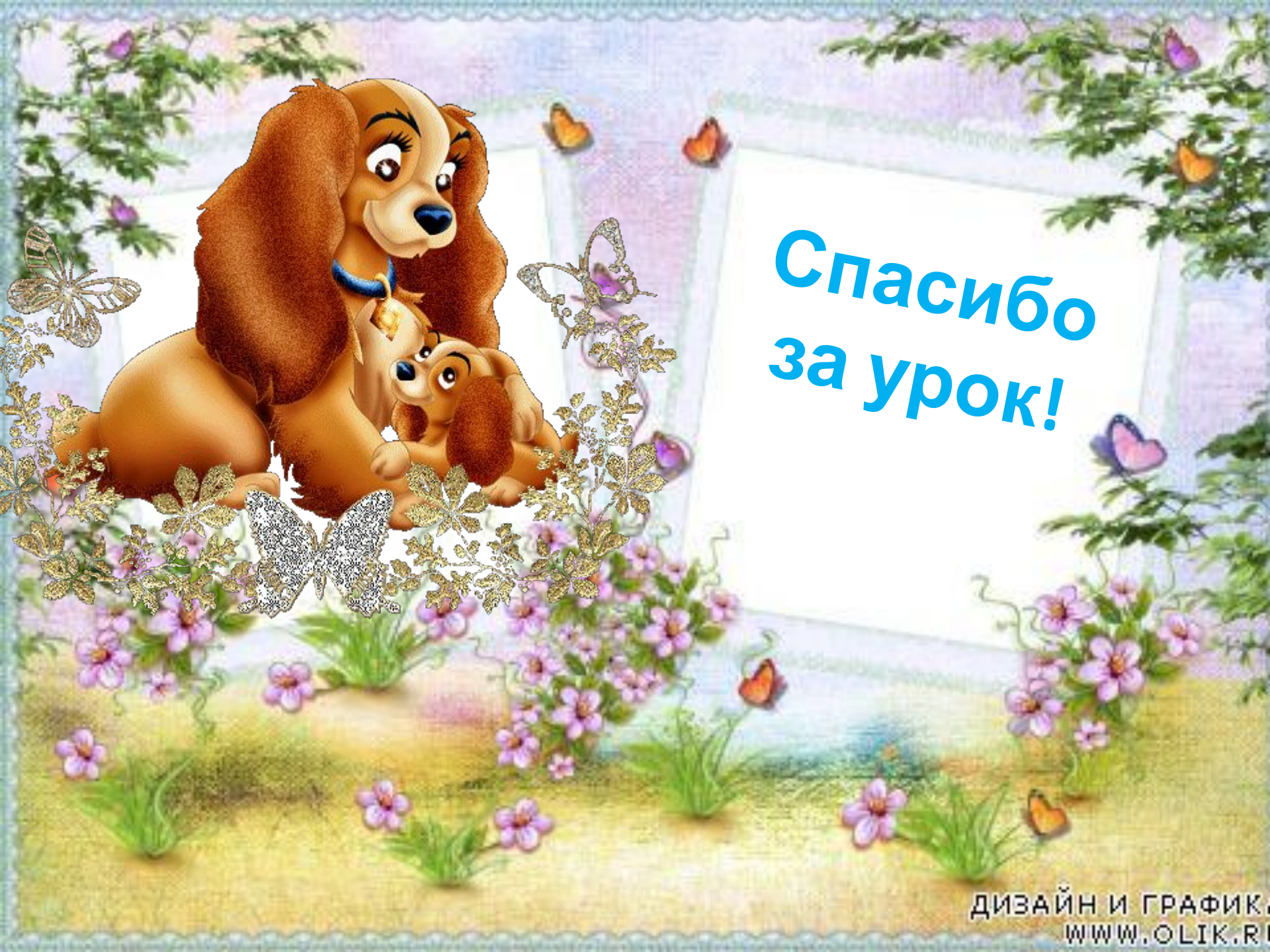
Вставьте  
пропущенное

число  
 $8 - 1 = 7$

$$5 + 1 = 6$$

$$8 - 2 = 6$$





**Спасибо  
за урок!**