

# Мэсьэлэ 1

Чэй, кофе, кабартма, печенье, вафлядан 1 төр эчемлектэн һәм 1 төр ризыктан торырлык итеп ничэ төрлө иртэнге чэй эзерлэп була?



1 бирем

2 бирем

3 бирем

4 бирем




















## 1 нче бирем

Мәсьәләнең шартына туры килерлек итеп таблица төзе. Синең ничә төрле иртәнге чәй килеп чыкты? ?



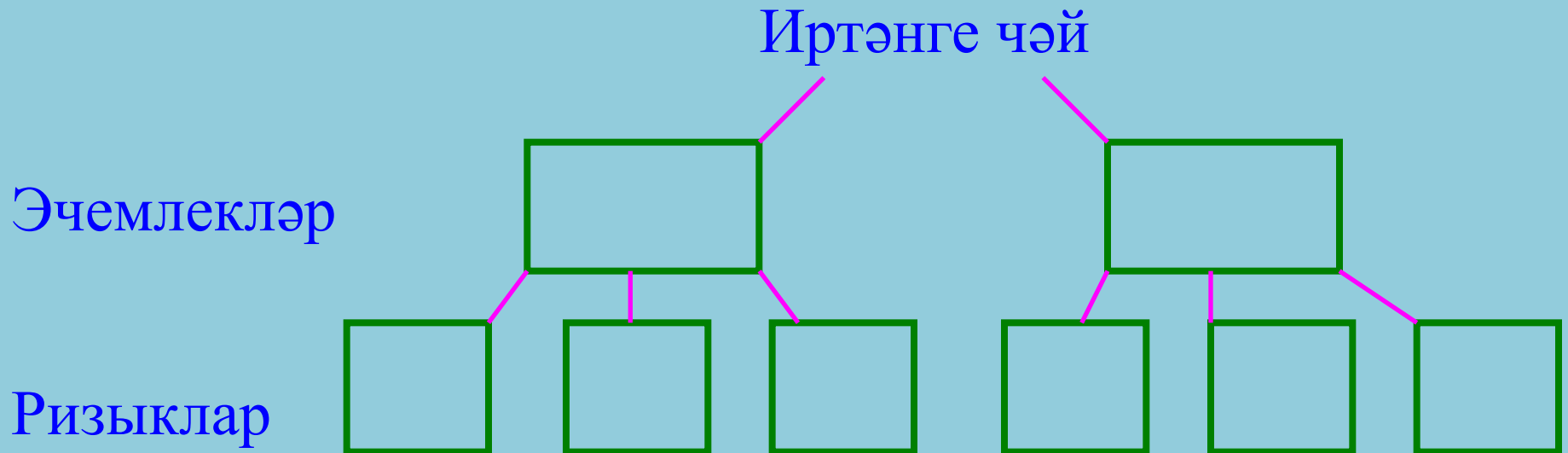
# 1 нче бирем

Эчемлекләр Ризыклар		
	 	 
	 	 
	 	 

6 төрле

# 2 нче бирем

Мәсьәләнең шартына туры килерлек итеп, агач тармакларында вариантларны күрсәт.



Ничә төрле иртәнге чәй килеп чыкты?


## 2 нче бирем

### Иртэнге чэй

Эчемлекләр



Ризыклар



6 төрле

# 3 нче бирем

Мәсьәләнең шартына туры килерлек итеп, граф төзе  
Ничә төрле иртәнге чәй килеп чыкты?



# 3 нче бирем



6 төрле



## 4 нче бирем

1, 2, 3 нче биремнәрдә килеп чыккан нәтижәләреңне чагыштыр



# 4 нче бирем

Жаваплар бертөрле.



# Таблица кулланып чишү

1 көнлек норма	Көн саны	Барлык центнер
805 ц	5	1) * ? ? 3) +
805 ц	4	2) * ? ?