

Задача


Маша и Саша собирали в лесу грибы. После того как корзинки наполнились, ребята решили отправиться домой. Для этого им надо было выйти на шоссе, так как с тяжелой корзиной по лесу идти довольно трудно. Но тут у них возник спор - в какую сторону идти, чтобы быстрее выйти из леса. Помогите ребятам найти более короткий путь до шоссе.





РАССТОЯНИЕ ОТ ТОЧКИ ДО ПРЯМОЙ.

К уроку математики в 5 классе.



Вычислите устно:

Н. $16 \cdot 2 - 32$

К. $18 - 51 : 3$

Л. $36 : 2 - 48 : 3$

И. $17 \cdot 3 - 24 \cdot 2$

Д. $14 \cdot 3 - 111 : 3$

П. $72 - 17 \cdot 4$

Я. $103 \cdot 2 - 99 \cdot 2$

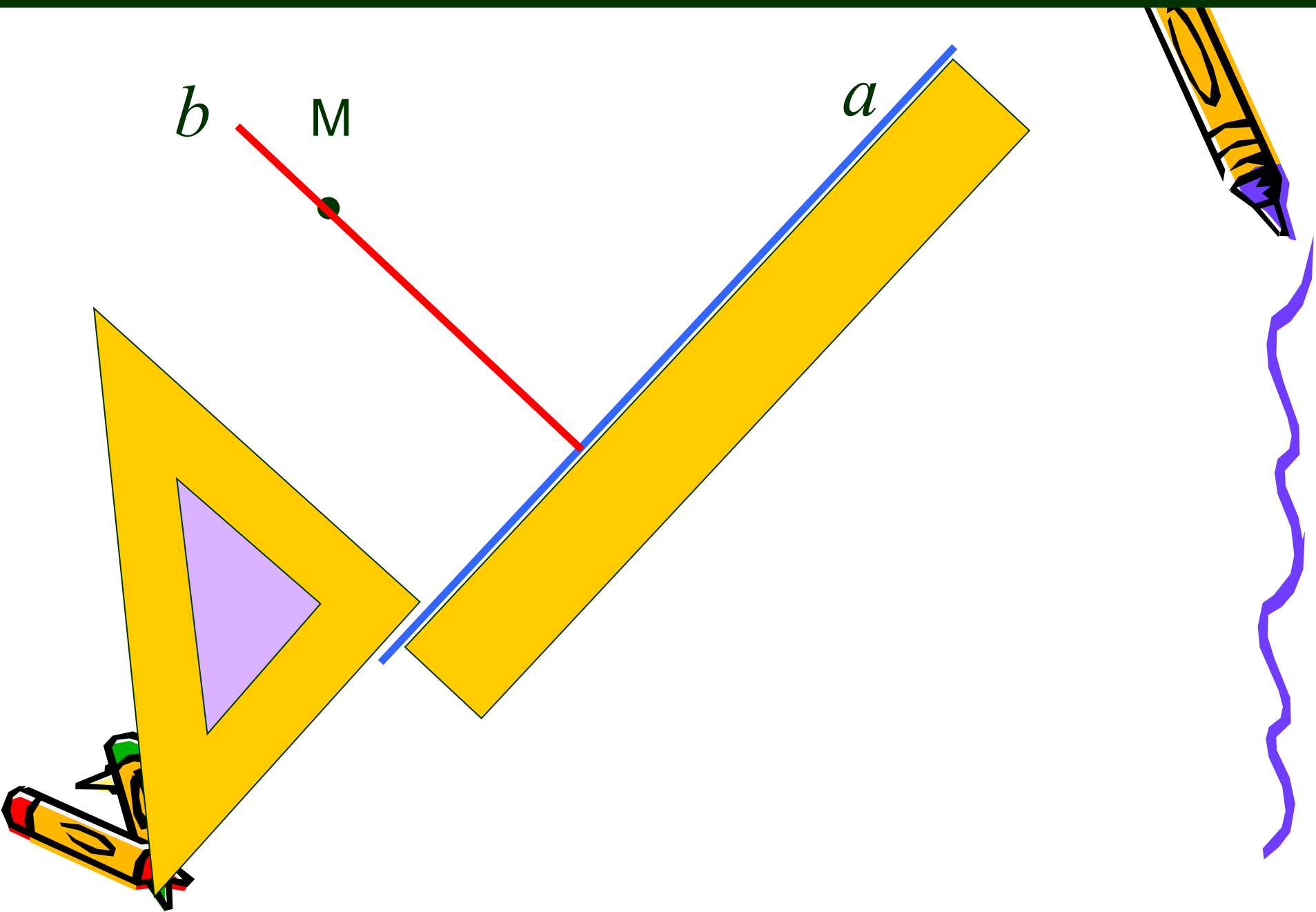
У. $16 \cdot 4 - 116 : 2$


Р. $35 \cdot 2 - 7 \cdot 9$


Е. $(28 + 26) : 6$



Построение перпендикуляра к прямой a из точки M








Определить вид получившегося угла:

$35^\circ + 26^\circ$; $35^\circ + 62^\circ$; $43^\circ + 47^\circ$; $11^\circ + 93^\circ$;



$80^\circ - 34^\circ$; $101^\circ - 9^\circ$; $130^\circ - 21^\circ$; $45^\circ - 23^\circ$.

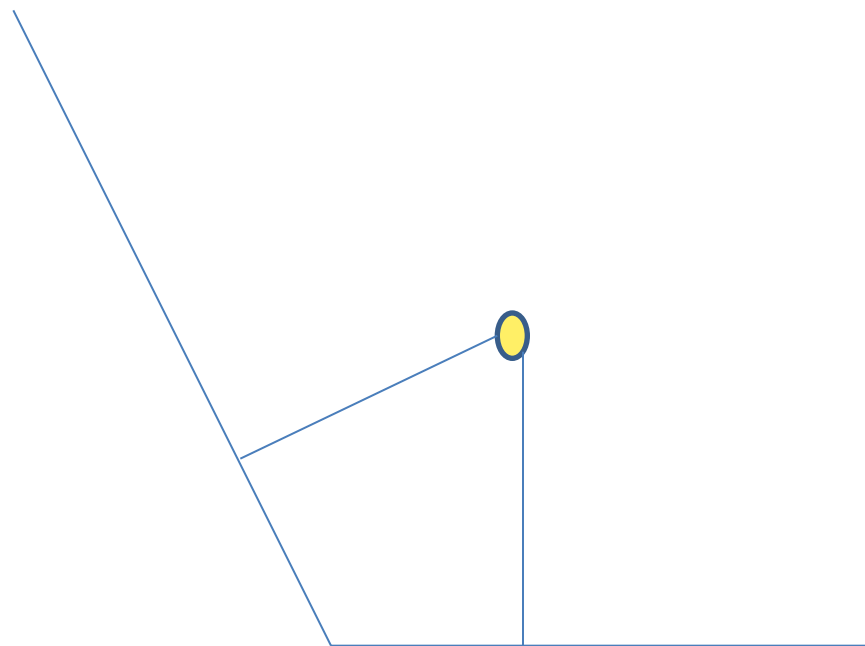
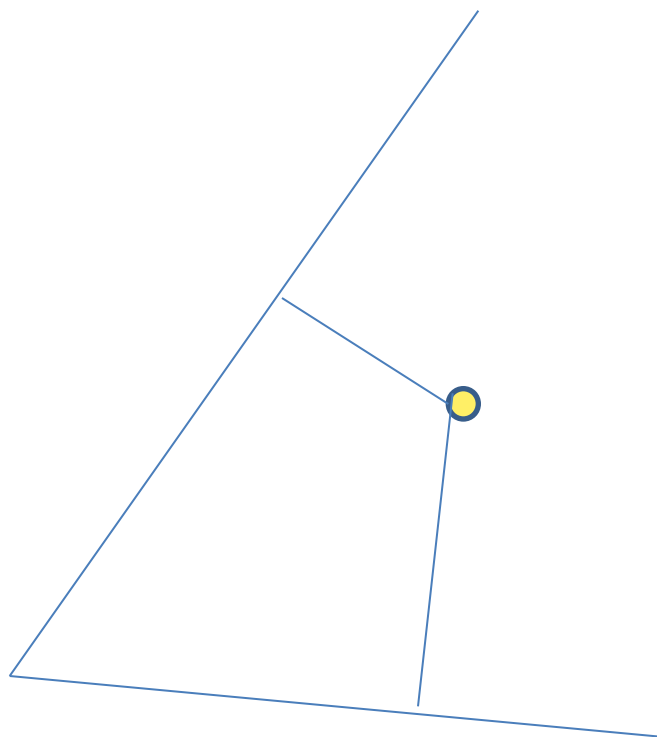


Выполните самостоятельно

- № 612 (вариант 1)
- № 613(а) (вариант 2)



Проверьте себя :



Домашняя работа

- п.35 № 611, № 617

