

КГБС(К)ОУ «Тальменская специальная (коррекционная)  
общеобразовательная школа – интернат VIII вида

**Тема: Умножение числа 2.**

**Класс: 3**

**Учитель: Кузнецова Марина Егоровна**




Возьмите:


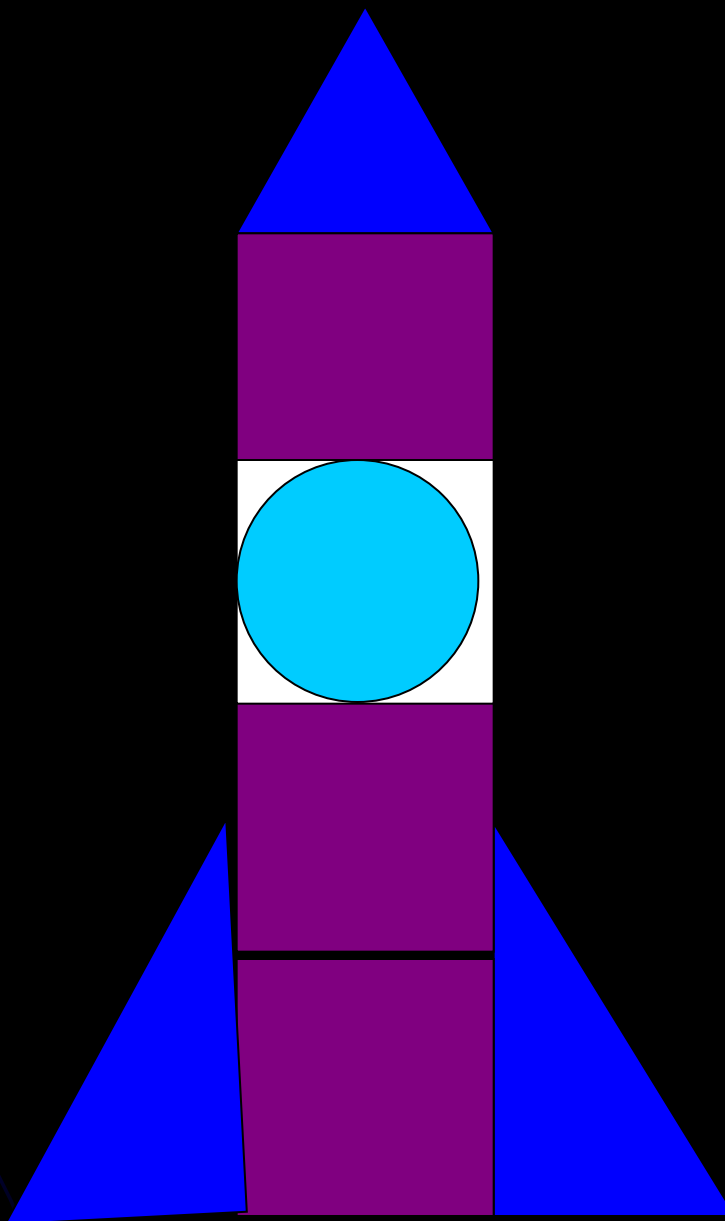

4-



3-

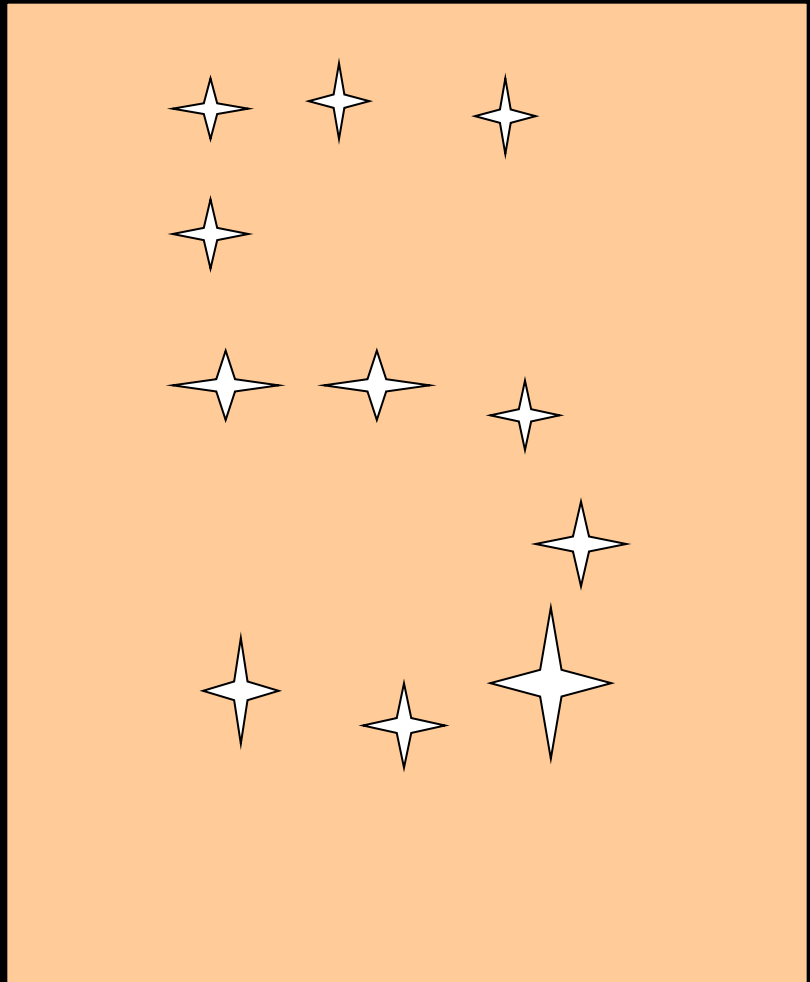



1-



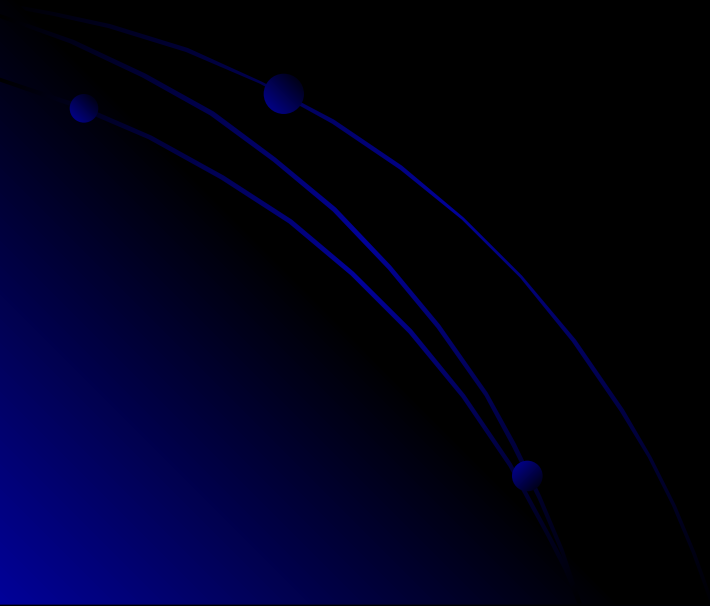






Цель.

Запомнить таблицу  
умножения числа 2.



# Солнцу



Впиши в таблицу умножения числа 2  
пропущенные числа.

$$2 \times \mathbf{2} = 2$$

$$2 \times \mathbf{6} = 12$$

$$2 \times 2 = \mathbf{4}$$

$$2 \times 7 = \mathbf{14}$$

$$2 \times 3 = \mathbf{6}$$

$$2 \times 8 = \mathbf{16}$$

$$2 \times \mathbf{4} = 8$$

$$2 \times \mathbf{9} = 18$$

$$2 \times 5 = \mathbf{10}$$

$$2 \times 10 = \mathbf{20}$$




# Нептун

Самая холодная планета



# *Марс*

***На этой планете самые высокие горы.***



Около 2 новых звезд появляется в нашей галактике каждый месяц.

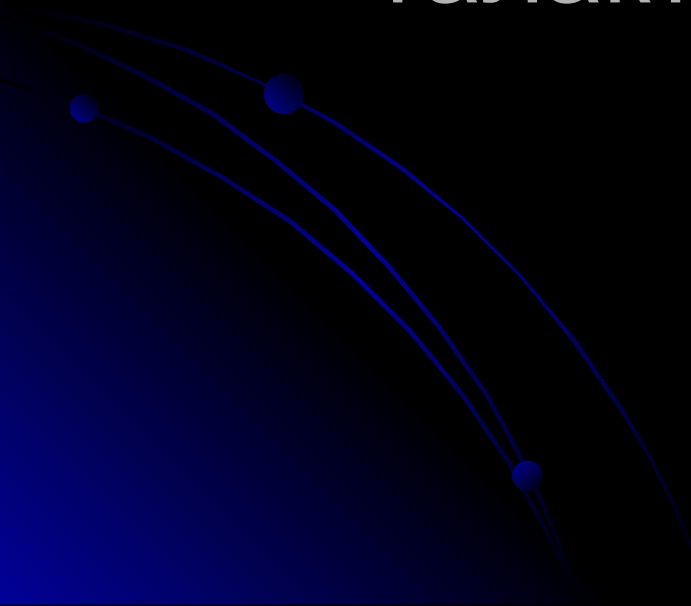


Сколько звёзд  
появится в  
нашей галактике  
за 3 месяца?

Решение.


$$2 \times 3 = 6(\text{з.})$$

Ответ: 6 звёзд появится в нашей  
галактике за 3 месяца.



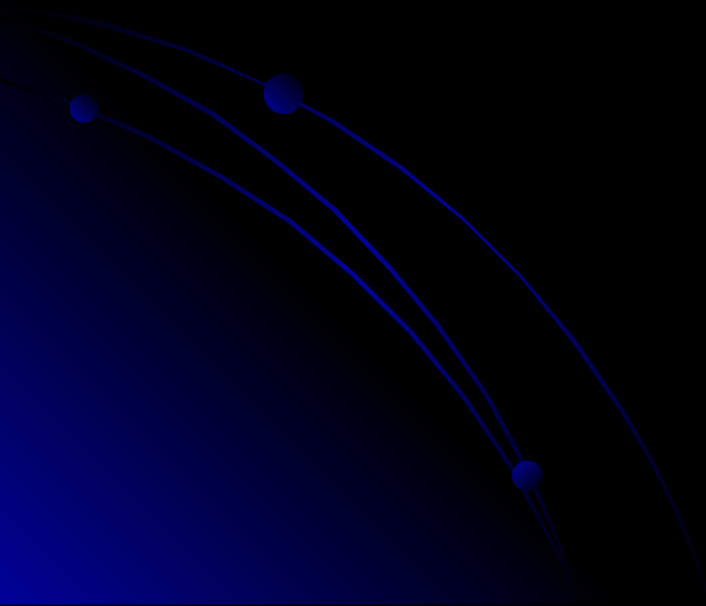
# *Юпитер*

**Самая крупная планета.**




**Физминутка для глаз**

**«Космическая»**





Уран



Венера





# Вариант 1.


Представь, что ты готовишь экипажи кораблей в полёт. Каждому члену экипажа нужно положить по два тюбика консервов. Заполни таблицу. В верхней строке количество членов экипажа.



5	7	3	10	2	8	6	9	4
10	14	6	20	4	16	12	18	8

# Вариант 2

-Представь что ты капитан корабля. Тебе нужно провести свой корабль по заранее проложенному курсу. Реши примеры и соедини пункты по порядку ответов.



# Вариант 3



В Цветочном городе герои сказки «Про Незнайку и его друзей» готовятся к полету на Луну. Знайка произвёл нужные расчеты. Но подул ветер и все листы разлетелись. Помоги Знайке восстановить расчеты. Для этого соедини пример с правильным ответом.

20	8	14	6	18	16	10	12	4
$2 \times 5$	$2 \times 3$	$2 \times 8$	$2 \times 2$	$2 \times 7$	$2 \times 10$	$2 \times 6$	$2 \times 9$	$2 \times 4$

The image shows a matching exercise. A grid contains multiplication problems in the bottom row and their corresponding products in the top row. Colored arrows connect each problem to its correct product:  $2 \times 5$  to 10,  $2 \times 3$  to 6,  $2 \times 8$  to 16,  $2 \times 2$  to 4,  $2 \times 7$  to 14,  $2 \times 10$  to 20,  $2 \times 6$  to 12,  $2 \times 9$  to 18, and  $2 \times 4$  to 8.

# Земля





5



4

постарайся



3

# Домашнее задание

Вариант 1, 2 - № 19, с.59

Вариант 3 - № 19(а), с.59

Учить таблицу умножения числа 2.



# Интернет – ресурсы:

<http://readmas.ru/mir/kosmos/planeta-venera.html> - Венера

<http://www.astronews.ru/cgi-bin/mng.cgi?page=astrofoto&id=44> - Нептун

<http://wallpaperswide.ru/photo/24-0-505-3> - Солнечная система

<http://foto-sputnik.rutxt.ru/node/248> - Юпитер

[http://planeta.moy.su/blog/27\\_sentjabrja\\_planeta\\_zemlja\\_izmenitsja\\_navsegda/2011-09-25-7093](http://planeta.moy.su/blog/27_sentjabrja_planeta_zemlja_izmenitsja_navsegda/2011-09-25-7093)

[galspace.spb.ru](http://galspace.spb.ru) – Планеты солнечной системы

