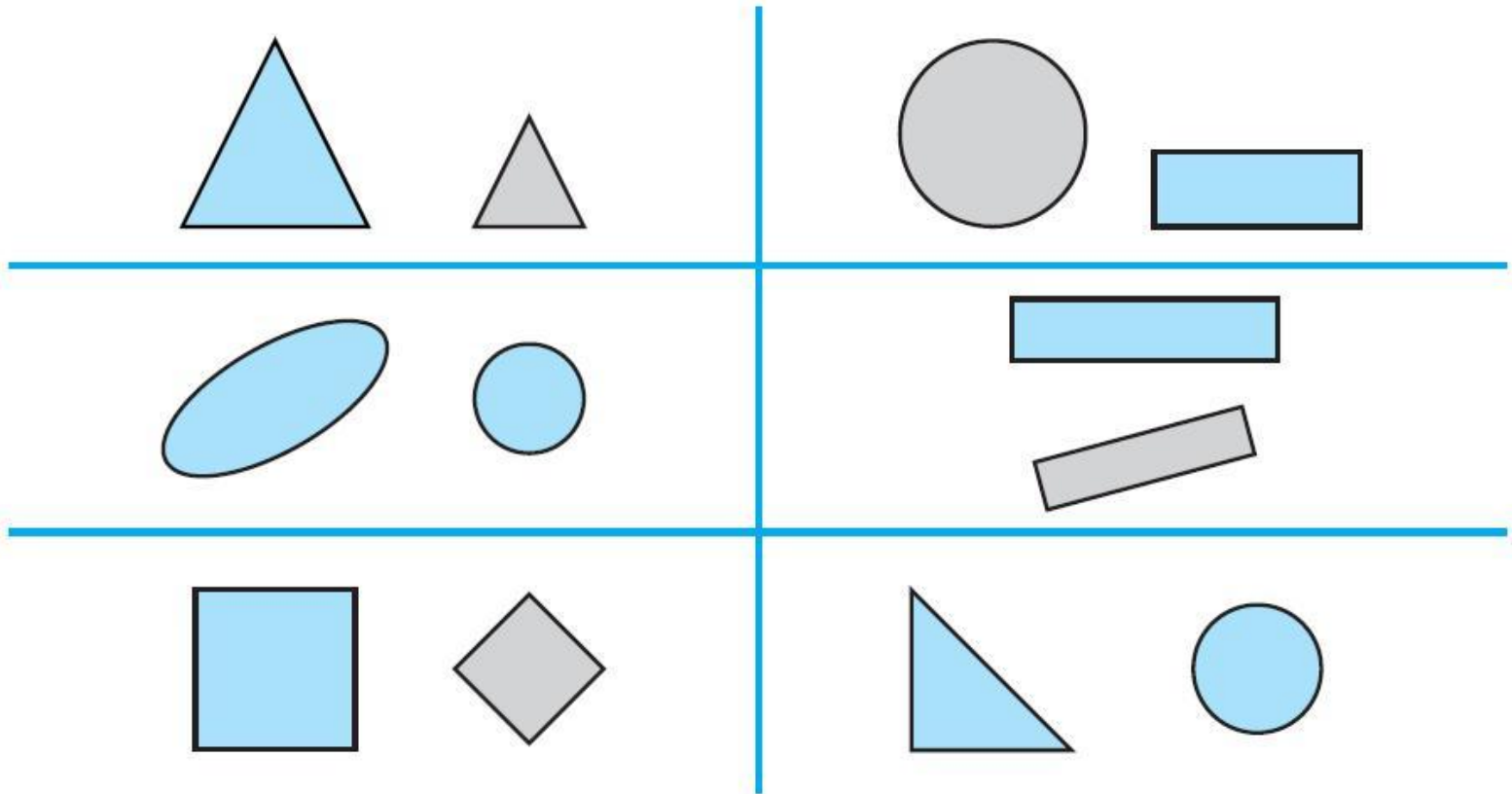


**10.** Обведи линией пару фигур, у которых:

1) одинаковая форма;



**11.** Раскрась круги так, чтобы:

1) перед каждым зелёным кругом был красный;



2) перед каждым синим было два красных;



3) за каждым синим был зелёный круг;



4) между двумя зелёными был красный;



5) между двумя синими было два красных.



**14.** Раскрась яблоки, которые расположены между грушами.



**15.** Раскрась рисунок, если:

1) справа красный квадрат, а слева – зелёный;




2) слева синий треугольник, а справа – зелёный.

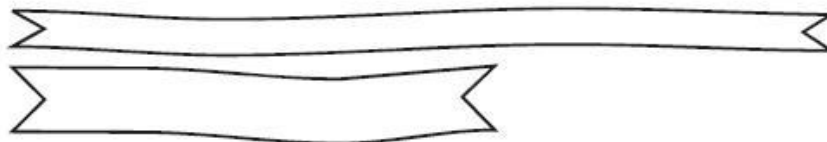


**17.** Раскрась предметы, если:

1) красный карандаш длиннее, чем синий;



2) синяя лента уже, чем зелёная;



3) жёлтая кружка ниже, чем синяя.

