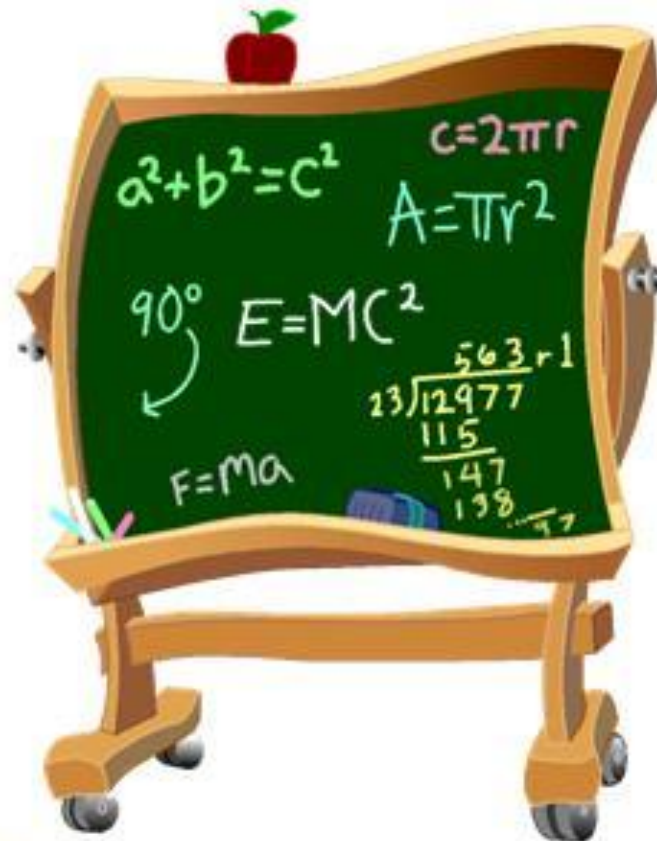





# УСТНЫЙ СЧЁТ





$$8+3$$



$$10+6$$




$$6+6$$




$$9+8$$




$$9+6$$



$$9+9$$



$$6+7$$



$$7+7$$

11 12 13 14 15 16 17 18 19 20

# Вспомните правила!

Чтобы найти неизвестное  
слагаемое, надо из.....

... к разности прибавить  
вычитаемое.

Чтобы найти неизвестное  
вычитаемое, надо из.....

...суммы вычесть известное  
слагаемое.

Чтобы найти неизвестное  
уменьшаемое, надо к.....

...уменьшаемого вычесть  
разность



Найди число, в котором 8 дес.

10

80

9

1 2

4 5

**Найди число, в котором  
4 дес. 8 ед.**

**40**

**84**

**48**


**Вставь пропущенное число:  
80...100.**

90

31

49

**Закончи фразу: длина  
спички 40...**



**М**

**ММ**

**СМ**

# Закончи фразу: толщина книги 7...



СМ

ММ

ДМ



**1 дм = ... см = ... мм?**

**1 дм=10см=100мм**

**1 дм=100см=10 мм**

**1 рубль = ....копеек?**

**100 копеек**

**10 копеек**

**Длина комнаты 5м, а ширина на 2м меньше. Чему равна ширина?**

**3м**

**7м**

**3дм**

### Задача 1. (данная)

Было – 8 к.

Взяли – 3 к.

**Осталось - ? к.**

$$8 - 3 = 5 \text{ (к.)} - \text{осталось}$$

### Задача 2. (обратная данной)

**Лежало – ? к.**

Взяли – 3 к.

Осталось – 5 к.

$$5 + 3 = 8 \text{ (к.)} - \text{лежало}$$

### Задача 3. (обратная данной)

Лежало – 8 к.

**Взяли – ? к.**

Осталось – 5 к.

$$8 - 5 = 3 \text{ (к.)} - \text{взяли}$$