

Математика в подготовительной группе

ПОСЧИТАЙ ЦИФРЫ В ПРЯМОМ ПОРЯДКЕ.
ПОСЧИТАЙ В ОБРАТНОМ ПОРЯДКЕ.
НАЧНИ СЧИТАТЬ С НАЗВАННОГО ЧИСЛА.
НАЗОВИ СОСЕДЕЙ ЧИСЛА...



ПЕРЕСЧИТАЙ КАРТИНКИ.

КАКИМ ПО СЧЕТУ СТОИТ ВЕРТОЛЕТ? АВТОБУС? ГРУЗОВИК?
НА КАКОМ МЕСТЕ СТОИТ ВЕЛОСИПЕД? ПАРОХОД? ВОЗДУШНЫЙ ШАР?

1 2 3 4 5 6 7 8 9 10




ЧТО БУДЕТ, ЕСЛИ К ПЯТИ ПРИБАВИТЬ ОДИН?
ЕСЛИ ОТ СЕМИ ОТНЯТЬ ОДИН?
КАК ПОЛУЧИТЬ ЧИСЛО ВОСЕМЬ, ЕСЛИ ЕСТЬ ЧИСЛО ДЕВЯТЬ?

1 2 3 4 5 6 7 8 9 10



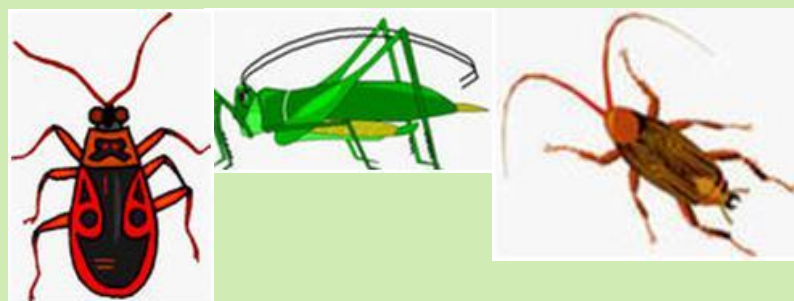

СОСТАВЬ И РЕШИ ЗАДАЧУ



СОСТАВЬ РЕШИ ЗАДАЧУ НА СЛОЖЕНИЕ

$$3+4=...$$

$$5+3=...$$



СОСТАВЬ И РЕШИ ЗАДАЧУ НА ВЫЧИТАНИЕ

$$6-2= \dots$$



СОСТАВЬ И РЕШИ ЗАДАЧУ НА ВЫЧИТАНИЕ

$$7-3= \dots$$



ВЫБЕРИ ЛЮБУЮ ЦИФРУ. НАЗОВИ ДЕНЬ НЕДЕЛИ, КОТОРЫЙ ЕЙ
СООТВЕТСТВУЕТ

ЕСЛИ СЕГОДНЯ СРЕДА, КАКОЙ ДЕНЬ БУДЕТ ЗАВТРА?

СЕГОДНЯ ЧЕТВЕРГ, ЗНАЧИТ ВЧЕРА БЫЛ...







СЕГОДНЯ СУББОТА, А ПОЗАВЧЕРА БЫЛ...?



НАЗОВИ ГЕОМЕТРИЧЕСКИЕ ФИГУРЫ

КАКИЕ ФИГУРЫ ОТНОСЯТСЯ К МНОГОУГОЛЬНИКАМ? СКОЛЬКО
ЗДЕСЬ МНОГОУГОЛЬНИКОВ?

ЧЕМ ОТЛИЧАЮТСЯ КРУГ И ОВАЛ? ЧЕМ ОНИ ПОХОЖИ?








КАКАЯ ФИГУРА РАСПОЛОЖЕНА В ЦЕНТРЕ?

ГДЕ НАХОДИТСЯ ТРЕУГОЛЬНИК?


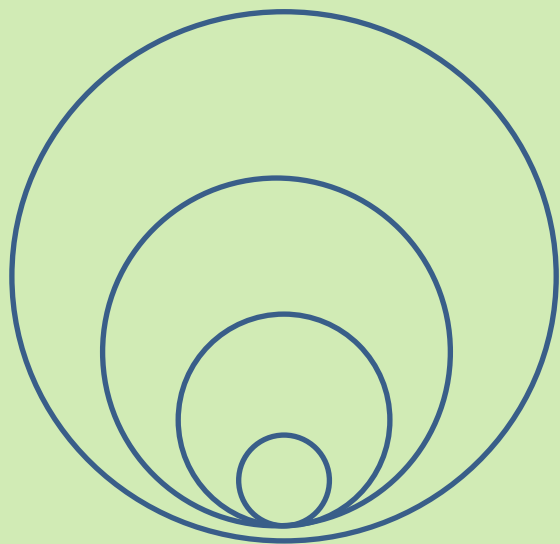
В ЛЕВОМ ВЕРХНЕМ УГЛУ НАХОДИТСЯ ...

ПЯТИУГОЛЬНИК РАСПОЛОЖЕН В ...

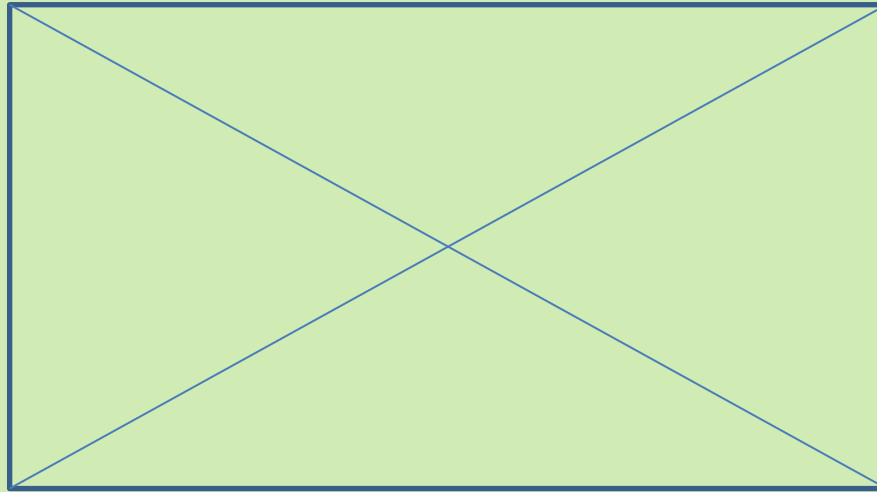
КАКОЙ ПРЯМОУГОЛЬНИК НАХОДИТСЯ ВНИЗУ?



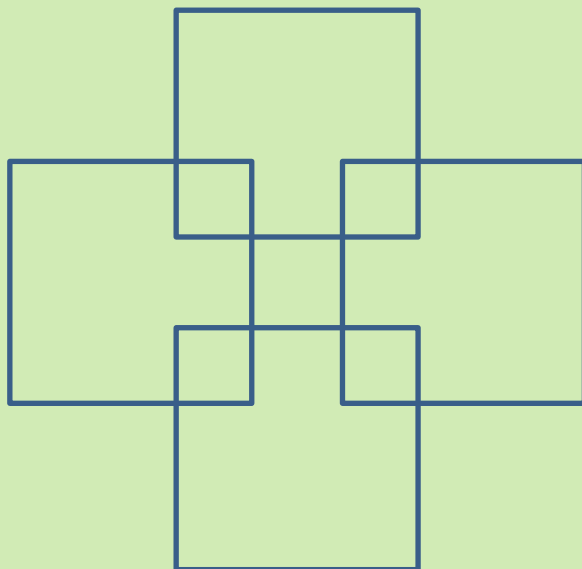
ГДЕ КРУГОВ БОЛЬШЕ? СПРАВА ИЛИ СЛЕВА?












ПОСЧИТАЙ, СКОЛЬКО ЗДЕСЬ ТРЕУГОЛЬНИКОВ?




СКОЛЬКО ЗДЕСЬ КВАДРАТОВ?



Заполни таблицу





Молодцы!