



Использование тестовых заданий на уроках в начальной школе





**Тест – система специальных
стандартизированных
заданий, применяемая в
сочетании с определённой
методикой измерения и
оценки результата**



Подходы к созданию тестовых заданий



□ **нормативно – ориентированный**

□ **критериально - ориентированный**



Функции тестов:

- Социальная
- Образовательная
- Воспитательная
- Развивающая
- Контролирующая
- Занимательная
- Функция творческого роста учителя



«Тесты – правила»

Вставьте в правило пропущенные слова:

Имя существительное - это _____, которая отвечает на вопросы _____ и обозначает _____. Если к имени существительному _____ можно подставить слова **ОН, МОЙ, ЭТОТ**, то существительное относится к _____. Если к имени существительному _____ можно подставить слова _____, то существительное относится к женскому роду. Если к имени существительному _____ можно подставить слова **ОНО, МОЁ, ЭТО**, то существительное относится к _____.

Заполните таблицы:

к	5	12	43	50	37
5 + к					
50 - к					

Слагаемое	6	3	
Слагаемое	4		7
Сумма		11	15

Уменьшаемое	13		12
Вычитаемое	6	9	
Разность		7	4



Тесты «Верю – не верю»

1	2	3	4	5	6	7	8	9	10	11	12	13	14	15





Тесты «Сделай свой выбор»



Ветер – это ...

- a) Воздушная оболочка Земли**
- b) Движение воздуха**
- c) Прибор для измерения давления воздушных масс**
- d) Бурное ненастье с громом и молнией**

1) b



Тест «Кто хочет стать отличником?»

	А	Б	В	Г
1				
2				
3				
4				
5				
6				
7				
8				
9				
10				
11				
12				





Тест «Найди меня»

Найдите среди записей уравнение:

1) $30 - x = 21$

2) $47 - 4 = 43$

3) $50 + x > 20$

4) $60 - a = 10$

5) $y - 4 = 9$

6) $16 - 3 < 54$

7) $a + b = 18$

8) $21 - x = 16$


9) $18 - 10 = 80$

10) $15 = k + 5$





«Авиагонки»



Тест «Цветные карандаши»

Реши и раскрась.

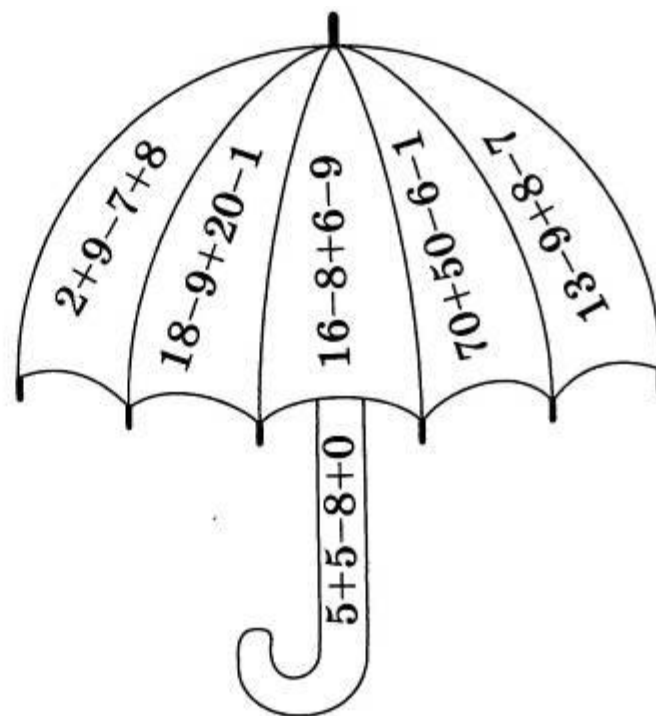
28 – жёлтый

12 – зелёный

5 – синий

25 – красный

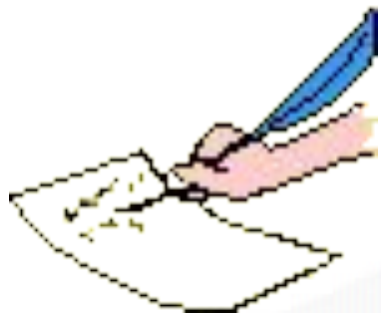
2 – коричневый



Тесты «Дешифровщик»

Л	$17 - 9 + 3 =$	11	О	$17 - (38 - 30) =$	9
И	$(49 + 1) - 30 =$	20	Б	$28 - 20 + 5 =$	13
В	$72 - 2 + 0 =$	70	Е	$75 - 30 - 10 =$	35
Ш	$(14 - 8) + 40 =$	46	Н	$12 - 9 + 40 =$	43
К	$100 - 50 - 20 =$	30			

70	9	11	46	35	13	43	20	30
В	О	Л	Ш	Е	Б	Н	И	К





Тесты «Мы - учителя»

Исправьте, где есть ошибку:

$$30 + 31 < 60 - 40$$

$$12 + 6 = 20 - 2$$

$$20 - 20 > 5 - 0$$

$$54 + 32 = 32 + 45$$

ягода, мишенька,

Волга, Петербург,

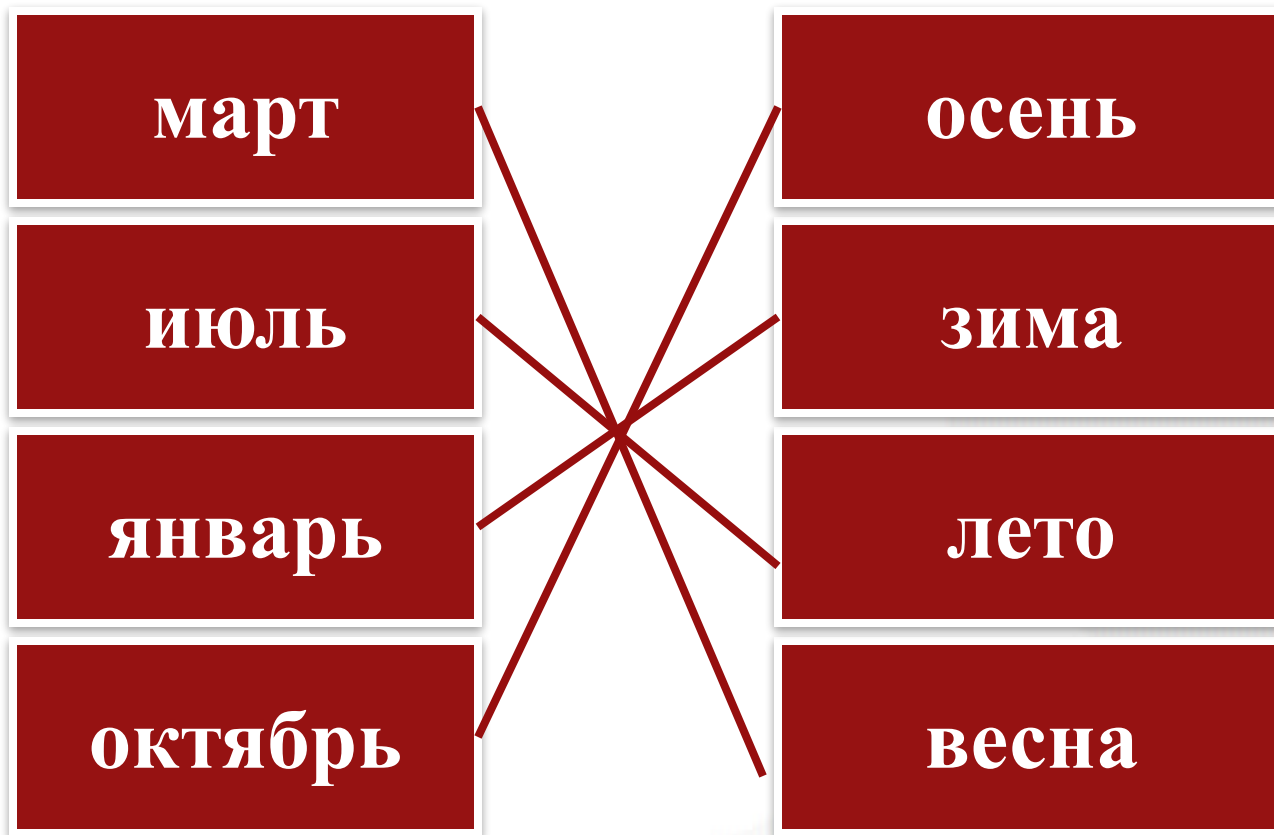
Маша, Василий

иванович, кукушкин,

собака, Дедушка



Тесты «Установим связь»





Решение задачи

Условие задачи

Вопрос задачи

ответ

**Бабушке 60 лет. Мама
моложе её на 30 лет**

Сколько лет маме?

Маме 30 лет

$60 - 30 = 30$ (лет)





Тесты «Продолжи ряд»

Установите закономерность и продолжите ряд:

21 34 47 86 ...

Завод девочка арбуз ... циркуль ... абажур ...

/// // * /////

/// *** ///

\ ***** \



Тест «Перевертыши»

Расположите органы пищеварения в правильном порядке по ходу поступления пищи в организм:

- 3 **желудок**
- 1 **рот**
- 4 **кишечник**
- 2 **пищевод**
- 5 **кишка**



Тесты «Резинка – хулиганка»

Вставьте пропущенные знаки:

$$63 * 20 * 7 = 50$$

$$26 * 30 * 8 * = 48$$

$$34 * 7 * 7 = 20$$

$$78 * 9 * 9 = 60$$

$$6 + 7 - * = 11$$

$$8 - * + 9 = 13$$

$$* + 7 + 8 = 20$$

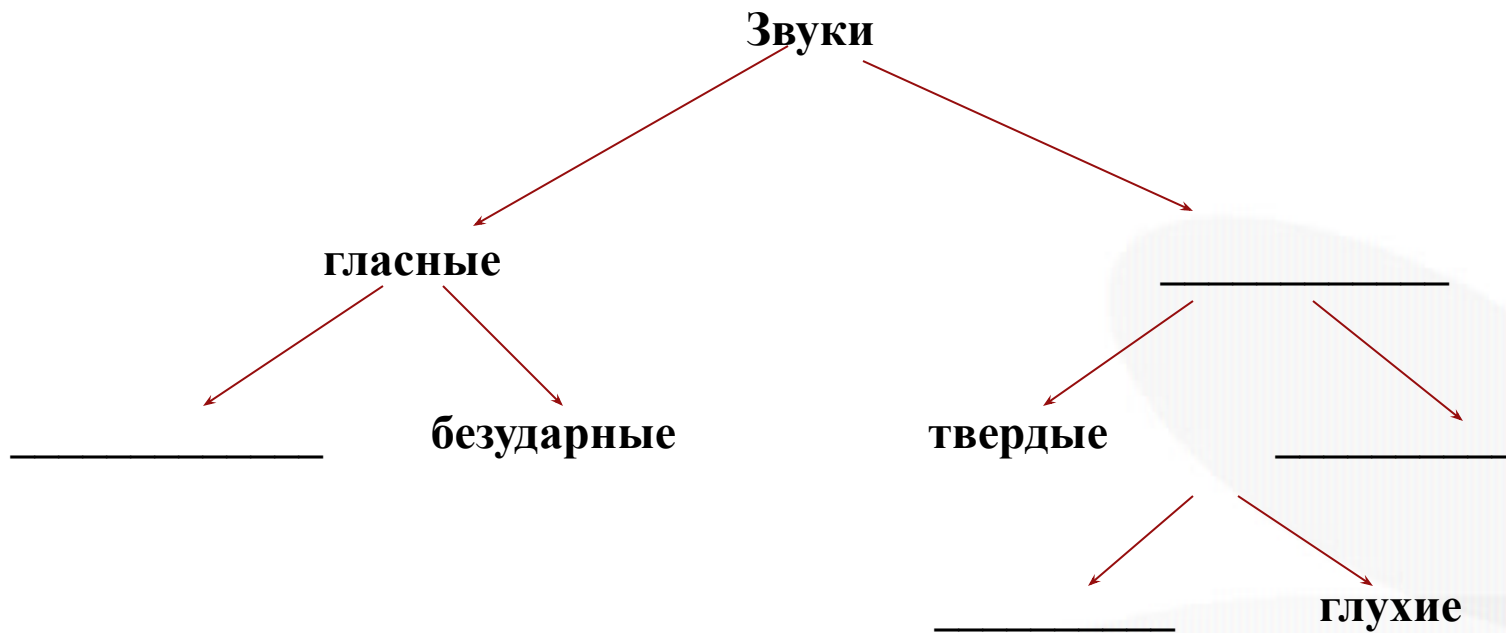
$$3 + * - 7 = 5$$





Тест «Схема – прятки»

Вставьте в схему пропущенные понятия:



Требования к составлению тестовых заданий

При конструировании тестов необходимо учитывать следующее:

- тестовые задания должны легко читаться;
- задания не должны повторять формулировок, данных в учебнике;
- они должны быть независимыми;
- формулировка задания не должна содержать двусмысленности;
- тестовые задания должны выполняться без громоздких вычислений;
- постановка вопроса и предлагаемые варианты ответов должны максимально исключать возможность угадывания ответа.





**Творческих успехов
в работе!
Спасибо за внимание!**

