



# Тема: Сравнение дробей с одинаковыми

## знаменателями

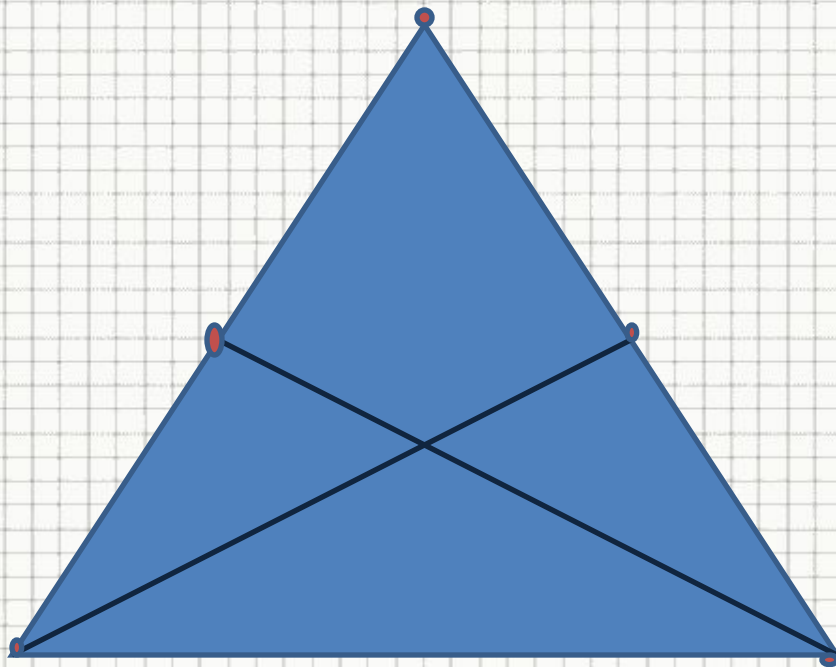
Автор: учитель математики Наталья Александровна  
Чёрная Екатерина Сергеевна  
МОУ СОШ №2 им. Героя Советского  
Союза А.В. Ляпидевского  
Г.Ейска МО Ейский район



# УСТНЫЙ

## СЧЁТ

Сколько отрезков с  
отмеченными концами  
можно найти на рисунке?





- Садовод заготовил 250 г семян астр и 240 г семян настурций. Семена астр он упаковал в пакеты по 5 г, а семена настурций – по 8 г.
- Объясните, что обозначают выражения:
  - $250:5$
  - $240:8$
  - $250:5+240:8$



# Настурц

ИЯ



# Прочитайте дроби



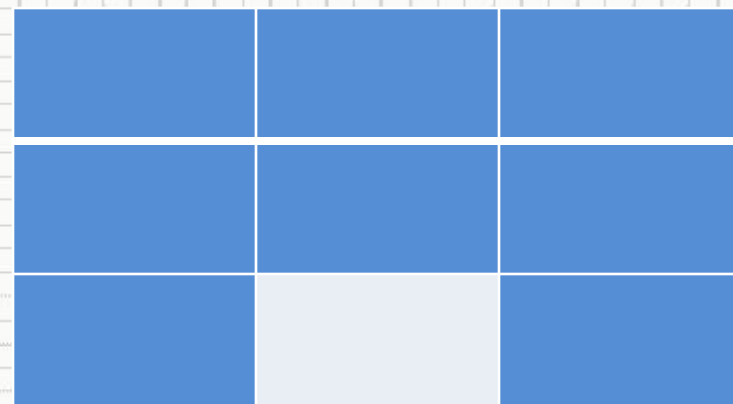
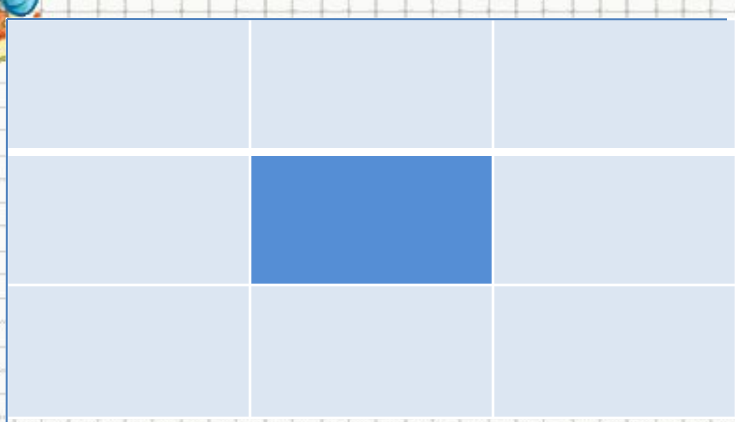
$$\frac{1}{5}$$

$$\frac{3}{6}$$

$$\frac{4}{8}$$



# Сравните дроби



$$\frac{1}{9}$$

<

$$\frac{8}{9}$$



# Общий

## ВИД



Если  $a > b$ ,  $\frac{a}{c} > \frac{b}{c}$   
то



# Сравните

## дроби



• 9

$$\frac{1}{5}$$

$$\frac{3}{5}$$

$$\frac{8}{9}$$

$$\frac{6}{9}$$

$$\frac{7}{12}$$

$$\frac{9}{12}$$

5

5

9

9

12

12





№

421



28км

? км

8

ДНЕЙ




25км

? км

9

ДНЕЙ





Что нового вы  
узнали?

