

Занятие 3



# Интеллектуальный марафон

3 класс

Русский язык, математика,  
окружающий мир, литературное чтение  
УМК любой



Автор-составитель: Фокина Лидия Петровна,  
учитель начальных классов МКОУ «СОШ ст. Евсино»  
Искитимского района Новосибирской области  
2015



# Ребята!



Перед вами интеллектуальный марафон.  
Выбирайте предмет, отвечайте на вопросы  
и набирайте баллы. Проверить себя можно,  
нажав на карточку «ответ». Кто наберёт  
наибольшее количество баллов,  
тот будет победителем.

## Удачи!





**Русский язык**

**Математика**

**Окружающий мир**

**Литературное чтение**



# Русский язык




С какой частью речи не употребляются предлоги?

**Имя существительное, имя прилагательное, глагол.**

**ОТВЕТ**

Глагол – **1 б.**



# Русский язык



Из каждого ряда выпиши слово,  
относящееся к другой части речи.

**Берег, огород, красивый, обед.**


**Деревня, лошадь, бежать, девочка.**

**Я, мы, друг, он.**

**Быстрый, скорый, тишина, проворный.**

**ОТВЕТ**

Красивый, бежать,  
друг, тишина – 4 б.



# Русский язык



Найди и выпиши лишние пары слов.

**робкий – смелый**

**скучный – весёлый**

**широкий – узкий**

**глубокий – мелкий**

**громкий – сильный**


**хороший – красный**

**маленький – большой**

**тёмный – светлый**

**ОТВЕТ**

**Громкий – сильный,  
хороший – красный – 2 б.**



# Математика



У Кати имеется 10 трёхкопеечных монет,  
а у сестры 8 пятикопеечных монет.  
Сколько монет должна отдать сестра Кате,  
чтобы у них денег стало поровну?

**ОТВЕТ**

- 1)  $10 \times 3 = 30$  (коп) – у Кати
- 2)  $8 \times 5 = 40$  (коп) – у сестры
- 3)  $40 - 5 = 35$  (коп)

Ответ: 1 монету должна отдать  
сестра Кате – **26**.



# Математика



Три сестры накопили вместе 9 рублей.  
Младшая накопила на 1 рубль меньше,  
а старшая на 1 рубль больше, чем средняя.  
Сколько денег накопила каждая сестра?


**ОТВЕТ**

1)  $9 : 3 = 3$  (руб.)

2)  $3 + 1 = 4$  (руб.)

3)  $3 - 1 = 2$  (руб.)

Ответ: 2, 3, 4 рубля – **2 б.**





# Математика




Нужно сделать из цветной бумаги 10 закладок. Каждая закладка имеет длину 2 дм, ширину 3 см. Сколько квадратных сантиметров потребуется для изготовления этих закладок?

**ОТВЕТ**

1)  $20 \times 3 = 60$  (кв.см)

2)  $60 \times 10 = 600$  (кв.см)

Ответ: 600 кв. см – **2 б.**



# Окружающий мир




Какое место надо выбрать для костра, чтобы не навредить природе?

- ❖ Открытую поляну
- ❖ Берег реки
- ❖ Одинокое стоящее дерево
- ❖ Хвойный молодняк
- ❖ Берёзовую рощу

**ОТВЕТ**

Берег реки – **1 б.**




# Окружающий мир



Почему кустарник дикой розы  
называют шиповником?

**ОТВЕТ**

Кустарник получил такое название  
за шипы, которыми густо усыпаны  
его ветки – **1 б.**



# Окружающий мир



Тощим или жирным  
ложится медведь в берлогу?

**ОТВЕТ**

Жирным. Жир греет и питает  
спящего медведя – **1 б.**



# Литературное чтение



Кто автор этих строк?  
Как называется произведение,  
из которого этот отрывок?

**Одеяло убежало,  
Улетела простыня...**

**ОТВЕТ**

**«Мойдодыр» К. Чуковский – 2 б.**



# Литературное чтение



Назови девочку, которая упорно  
училась прыгать через скакалочку.

**ОТВЕТ**

Лидочка. «Верёвочка» А. Барто  
– **1 б.**



# Литературное чтение



Какие звери решили организовать свой уличный оркестр?

**ОТВЕТ**

Осёл, собака, кот, петух.  
«Бременские музыканты» братьев  
В. и Я. Гримм – **4 б.**



# Информационные источники



❖ Максимова Т. Н. Интеллектуальный марафон: 1-4 классы. – М.: ВАКО, 2009 (Мастерская учителя)

❖ Картинка

<http://s59.radikal.ru/i163/0901/03/86d53b16c6e1.png>

