



# Возникновение Олимпийских игр.



Олимпийские игры возникли в Древней Греции. Легенды утверждают, что в Олимпии состоялись соревнования по бегу. И будто бы их организовал сам Зевс. Даже если шли войны, то их прекращали на время игр. Перед состязаниями каждый атлет давал клятву соблюдать правила честной спортивной борьбы.



# Возникновение Олимпийских игр



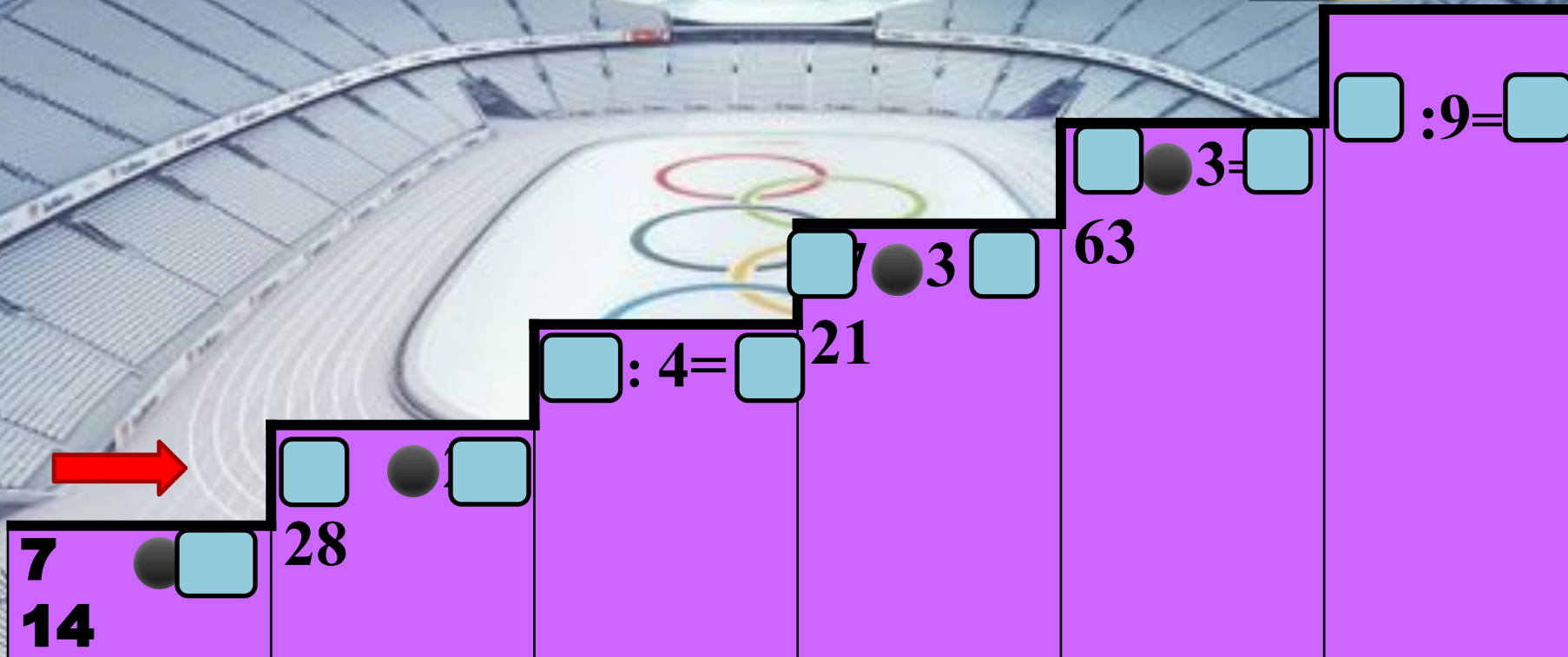
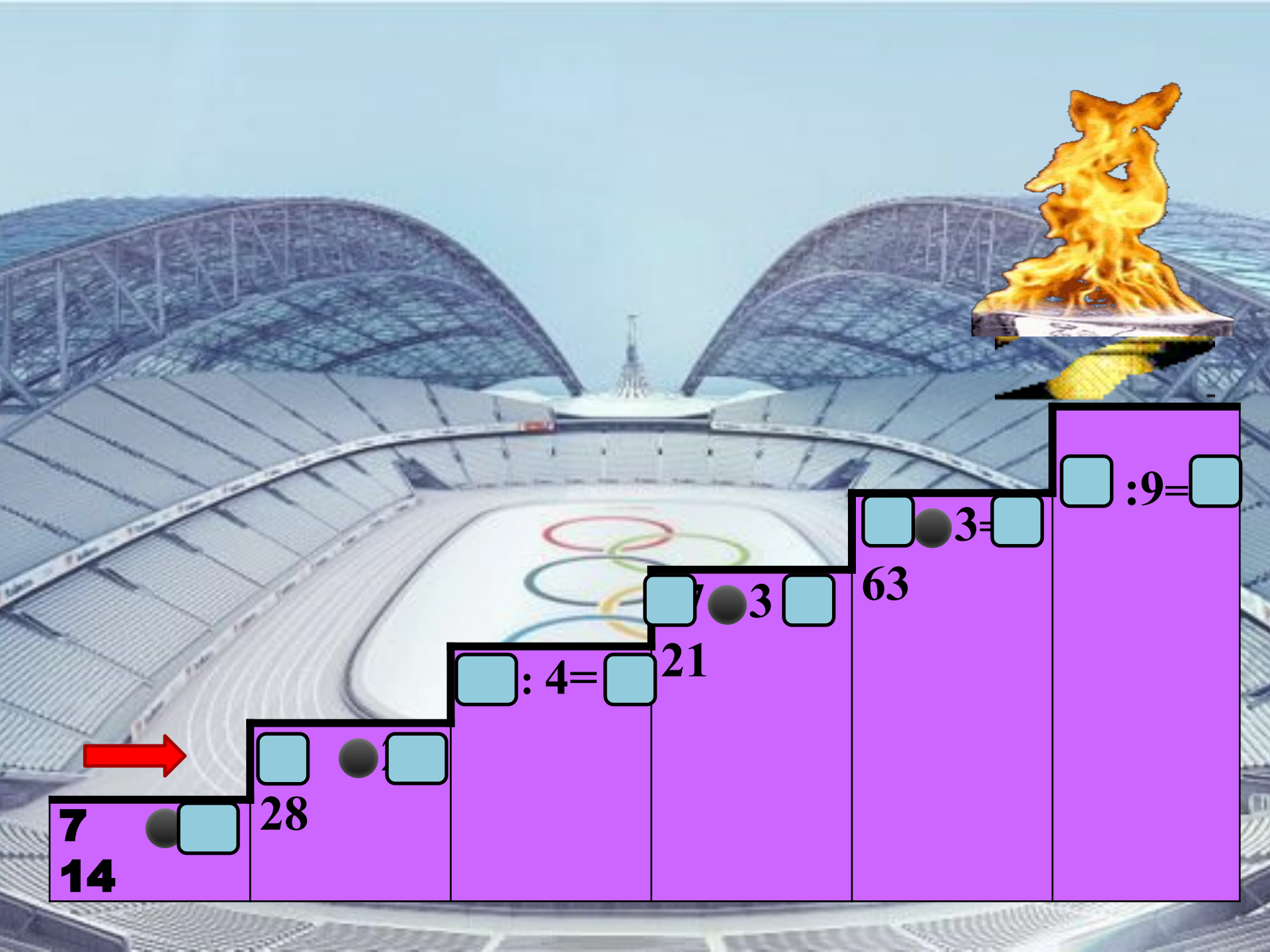
Победитель состязаний в Олимпии удостоивался венка из ветвей священного оливкового дерева, чести, почета. Им воздвигали статуи, чеканили монеты



## Олимпийская символика



Цвет колец в верхнем ряду — голубой для **Европы**, чёрный для Африки, красный для **Америки**, в нижнем ряду — жёлтый для **Азии**, зелёный для **Австралии**.



# Кто из этих животных – талисманы Олимпиады в Сочи?

ЛЕОПАР  
Д

БЕЛЫЙ МИШКА

ЗАЙКА



# sochi 2014





$$(62 + 18) : 8 =$$

$$(36 + 27) : 9 =$$

$$(40 + 16) : 7 =$$

$$(30 + 24) : 9 =$$







Можно вычислить  и   
ее на число.

Можно разделить на число каждое   
и полученные результаты .



# Работа в учебнике Стр. 14 № 2



Тамсиены	.....
О конкурсе	.....
История тамсиенов	.....
Наказы	.....





## Биатлон

Вид спорта, сочетающий лыжную гонку со стрельбой из винтовки по мишеням.



# Закрой мишени




№ 3

$1\text{ см}^2$    $100\text{ мм}^2$

$95\text{ см}$    $9\text{ дм}$

$6\text{ дм } 8\text{ см}$    $70\text{ см}$

$7\text{ м } 3\text{ дм}$    $71\text{ дм}$






# Лист самоконтроля

$$1 \text{ см}^2 = 100 \text{ мм}^2$$

$$95 \text{ см} > 9 \text{ дм}$$

$$6 \text{ дм } 8 \text{ см} < 70 \text{ см}$$

$$7 \text{ м } 3 \text{ дм} > 71 \text{ дм}$$





# Фигурное катание





12 м

$S - ? \text{ м}^2$


8 м



$$S = 12 * 8 = 96 (\text{м}^2)$$

Ответ: площадь катка – 96 м<sup>2</sup>

# Хоккей







**Всем спасибо за внимание !**

**Закон**

**Я узнал**

**Мне понравилось**

**Было трудно...**

