



«Математику
изучать надобно,
поскольку она в
порядок ум
приводит» (М. В.
Ломоносов)



Задание № 1

Вместо точек вставь нужные наименования:

$$800 \text{ см} = 80 \underline{\hspace{1cm}}$$

$$9 \text{ м } 80 \text{ см} = 98 \underline{\hspace{1cm}}$$

$$6 \underline{\hspace{1cm}} = 6000 \text{ м}$$




Задание № 1

Проверяем себя:

$$800 \text{ см} = 80 \text{ дм}$$

$$9 \text{ м } 80 \text{ см} = 98 \text{ дм}$$

$$6 \text{ км} = 6000 \text{ м}$$




Задание № 2

Вставь в окошко числа, чтобы равенства были верными:

$$480 = 16 * 5 + \square$$

$$870 = 800 + 14 * \square$$

$$260 = \square + 12 * 5$$



Задание № 2

Проверяем себя:

$$480 = 16 * 5 + 400$$

$$870 = 800 + 14 * 5$$

$$260 = 200 + 12 * 5$$




Задание № 3

Из чисел 78, 90, 24, 60, 84, 96 выбери те, которые можно подставить в окошко.

Составь неравенство:

$$600 + \square : 6 < 612$$




Задание № 3

Проверяем себя:

$$600 + 24 : 6 < 612$$


$$600 + 60 : 6 < 612$$



Задание № 4

Продолжите последовательность:

129, 138, 147, 156...



Задание № 4

Проверяем себя:

129, 138, 147, 156,
165, 174, 183, 192.



Задание № 5

Запиши числа и продолжи ряд:


56, 5 566, 555 666...



Задание № 5

Проверяем себя:

56, 5 566, 555 666,
55 556 666, 5 555
566 666.



Задание № 6

Прочитай числа. Какое число лишнее?

40 150 763 007, 507 040 г, 5 000 007.






Задание № 6

Проверяем себя:

507 040 г – это именованное число.





1 T = ? Г

1 T = ? Ц

1 T = ? КГ





$$1 \text{ Т} = 1000 \text{ 000 Г}$$

$$1 \text{ Т} = 10 \text{ Ц}$$

$$1 \text{ Т} = 1000 \text{ КГ}$$



Самостоятельная работа № 1

$$50*80$$

$$2000*70$$

$$30*30$$

$$18*9$$

$$7200*90$$

$$1700*10$$

$$6300*70$$

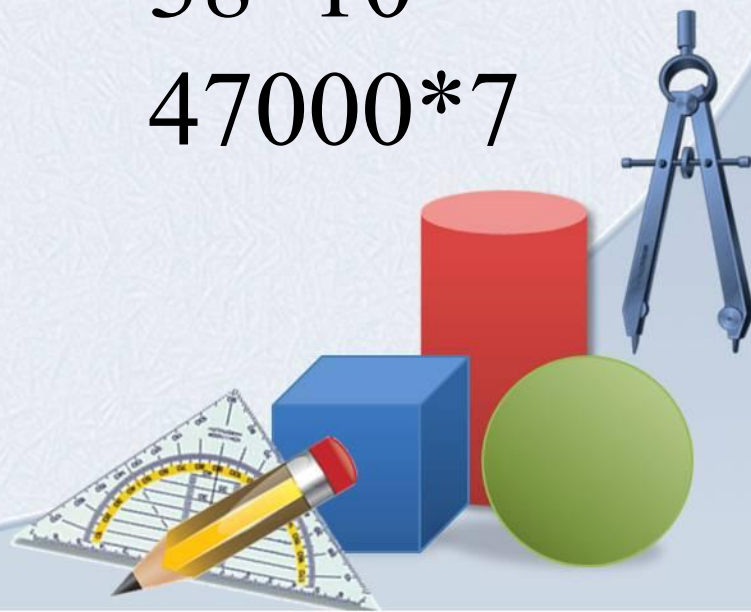
$$90*90$$

$$38*10$$

$$70*80$$

$$17*100$$

$$47000*7$$



Самостоятельная работа № 1

$$50 * 80 = 4000$$

$$18 * 9 = 162$$

$$6300 * 70 = 441\ 000$$

$$70 * 80 = 5600$$

$$30 * 30 = 900$$

$$1700 * 10 = 17\ 000$$

$$38 * 10 = 380$$

$$47000 * 7 = 329\ 900$$



$$2000 * 70 = 140\ 000$$

$$7200 * 90 = 648\ 000$$


$$90 * 90 = 8\ 100$$

$$17 * 100 = 1700$$



Объясни приём умножения круглых чисел:

$$9000 * 30 = (9 * 1000) * (3 * 10) = (9 * 3) * (1000 * 10) = 27 * 10\ 000 = 270\ 000$$



Задание №2 стр. 6 под буквой а).
Реши в столбик, комментируя.

$$7\ 200 * 8 =$$

$$530 * 700 =$$

$$47\ 000 * 7 =$$




Задание №2 стр. 6 под буквой а).

Проверяем себя:

$$7\ 200 * 8 = 57\ 600$$

$$530 * 700 = 371\ 000$$

$$47\ 000 * 7 = 329\ 000$$



Задание № 3 стр. 6 под буквой а)

$$19\ 200 * 90 = 1\ 728\ 000$$



Самостоятельная работа № 2

$$3\ 800 * 9 =$$

$$7\ 040 * 60 =$$

$$520 * 4\ 000 =$$


$$90\ 500 * 80 =$$

$$5\ 683 * 200 =$$

$$9\ 042 * 30 =$$

$$5\ 556 * 800 =$$

$$9\ 052 * 40 =$$



Самостоятельная работа № 2

$$3\ 800 * 9 = 34\ 200$$

$$5\ 683 * 200 = 1\ 136\ 600$$

$$7\ 040 * 60 = 422\ 400$$

$$9\ 042 * 30 = 271\ 260$$

$$520 * 4\ 000 = 2\ 080\ 000$$

$$5\ 556 * 800 = 4\ 444\ 800$$


$$90\ 500 * 80 = 7\ 240\ 000$$

$$9\ 052 * 40 = 362\ 080$$



Задача № 1

В пяти кабинетах стояло по 10 компьютеров. 20 из них сломались к концу учебного года из-за небрежного отношения. Сколько компьютеров осталось?




Задача № 1

1) $5 * 10 = 50$ (к.) всего


2) $50 - 20 = 30$ (к.)

Ответ: 30 компьютеров осталось.



Задача № 2

Бальными танцами занимаются в студии 45 мальчиков. Это в 5 раз меньше, чем девочек. Сколько всего детей занимается в студии бальных танцев?




Задача № 2

1) $45 * 3 = 225$ (д.) занимаются балетом.

2) $225 + 45 = 270$ (д.)

Ответ: 270 детей занимаются балетом.



Ресурсы:

www.futajik.ru

www.liveinternet.ru

allday2.com

Составила:
Кузьмина Д.С.

