

**Урок математики.
2 класс.**

**Задачи на разностное
сравнение.**

Сравните числа.

6 и 10

18 и 10

44 и 30

13 и 8

19 и 5

40 и 2

80 и 6

48 и 20

59 и 9

**Составь задачу на
разностное сравнение.**

Учебник стр.71 з.2

Решите задачу.

**На одном дереве сидит 10 грачей,
а на другом 14 грачей.**

**На сколько меньше грачей сидит
на первом дереве?**

**Чтобы узнать на сколько одно
число больше или меньше
другого нужно ...**


Трудная задача.

Учебник стр.72 з.4

**Сделаем из трудной
простую задачу.**

У Тани - 8 од.

У Светы- 7 од.



Реши самостоятельно примеры.

$62-8$

$34-5$

$45-7$

$78-9$

$81-3$

$14-8$

Проверь соседа.

54


29

38

69


78

8



Задание из геометрической
страны.

**Начертите прямоугольник со
сторонами
3 см и 4 см.**



**Возьми одну сторону
прямоугольника и начерти
квадрат.**

Домашнее задание.

Р.Т. стр.30 з.1,2.

Учебник с.72 з.5

