

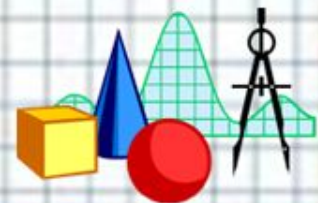


Математик

а


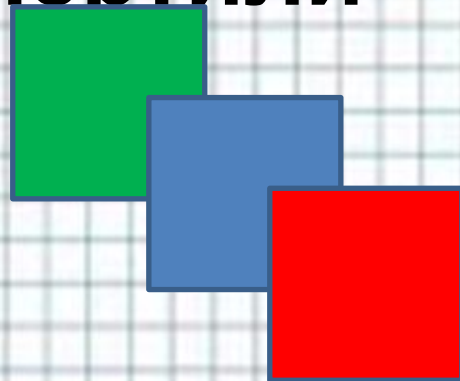


2 класс





Коля начертил в тетради 4 квадрата, а Петя на 6 квадратов больше. Сколько всего квадратов начертили мальчики?





Паук- тарантул умеет плавать. Четырьмя передними ножками он гребёт под водой, несколькими над водой, а задние 2 ножки вытянуты, как поплавки.

Сколькими ножками паук гребёт над водой, если всего у паука 8 ног?






Весной от зимнего стада оленей сначала отделились 3 оленя, а потом на 2 оленя больше, чем вначале. Сколько оленей было в стаде, если в нём осталось 10 оленей?





**Бабочка бражник делает 50
взмахов крыльями в секунду,
майский жук на 10 взмахов
меньше, а навозный жук делает
столько взмахов, сколько
бражник и майский жук вместе.
На сколько чаще машет**

**крыльями навозный жук, чем
майский?**





**Цветок камелия из 30 дней в месяце
5 дней бывает красного цвета, а
остальные дни – белого. На
сколько дней меньше камелия
бывает красного цвета, чем
белого?**

