

Внеклассное  
мероприятие  
по математике  
"СВОЯ  
ИГРА"



Выполнила учитель ГС(К)ОУ "С(К)ОШ №11 VIII вида г.Балашова"  
Шумарина Вера Алексеевна






# Правила игры

Игра проводится среди учащихся 7,8,9 классов. В игре принимают участие 2 команды по 4 человека. Остальные учащиеся распределяются на две команды болельщиков. Обе команды имеют название и выбирают капитана. Команде- победительнице в выполнении отборочного задания, предлагается первой выбирать категорию и вопрос на игровом поле (слайд3). На обдумывание ответа команде даётся не более 30 секунд. При неправильном ответе возможность ответить передаётся другой команде. Если ни одна команда не ответила правильно, то предлагается ответить командам болельщиков. Победителем становится команда, набравшая наибольшее количество баллов.

По щелчку мыши учителем на указанную ячейку совершается переход к слайду с вопросом. После правильного ответа, по щелчку мыши на управляющую стрелку, осуществляется возврат к основному слайду №3 и выбор вопросов продолжается.



# Игровое поле

Соображайка	10	20	30	40	50
 Танцуйка	10	20	30	40	50
Решайка 	10	20	30	40	50
 Думайка	10	20	30	40	50
Прочитайка	10	20	30	40	50



На дереве сидели три птички, к ним прилетели ещё две птички. Кот подкрался и схватил одну птичку. Сколько птичек осталось сидеть на дереве?



Сколько горошин может войти в один стакан?



На березе росло три апельсина и две груши. Сколько всего фруктов росло на березе?



Рядом стоят две курицы: одна – головой к северу, другая – головой к югу. Могут ли они увидеть друг друга, не поворачивая головы?




**МОТОЦИКЛИСТ ЕХАЛ В ПОСЕЛОК. ПО ДОРОГЕ ОН  
ВСТРЕТИЛ ТРИ ЛЕГКОВЫЕ МАШИНЫ И ГРУЗОВИК. СКОЛЬКО  
МАШИН ШЛО В ЭТОТ ПОСЕЛОК?**





Крышка стола имеет 4 угла. Три из них отпилили.  
Сколько углов стало?



Двое играли в шахматы 2 часа.  
Сколько играл каждый?




На Руси шахматы появились в 820 году.



**Хозяин дома, гуляя по парку сделал 160 шагов.  
Сколько шагов он сделал левой ногой?**



В комнате 4 угла.  
В каждый угол Катя посадила по кукле.  
Против каждой куклы сидят ещё три куклы.  
Сколько всего кукол у Кати?





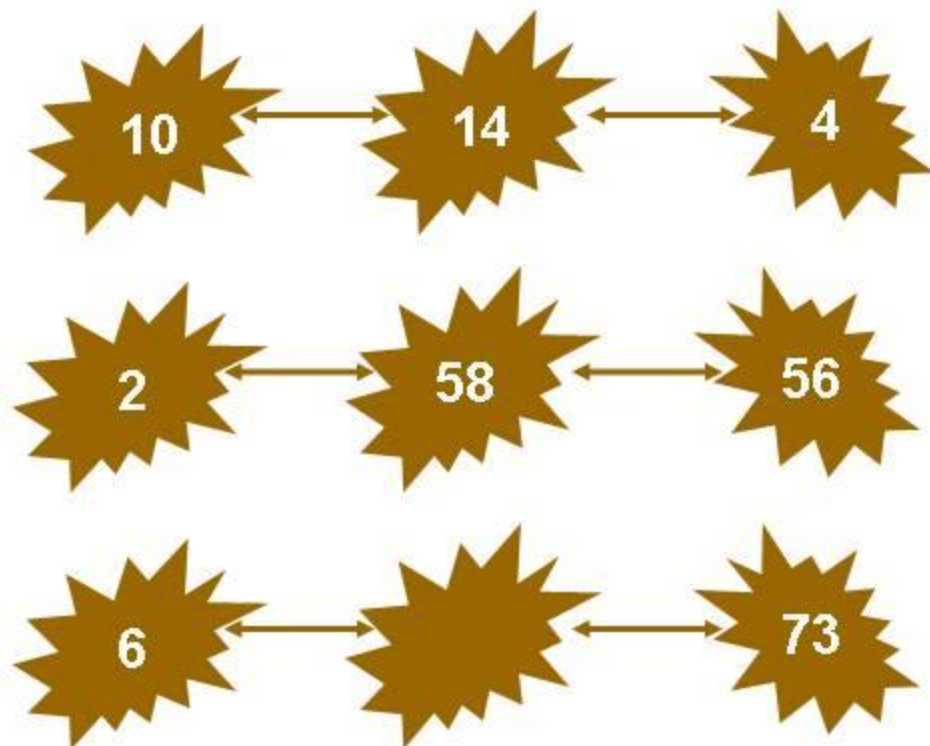
Сколько спряталось  
слов?

о	т	р	е	з	о	к
ж	м	и	н	у	с	д
г	б	г	р	а	м	м
у	в	т	с	т	о	о
в	е	с	о	к	у	б
е	г	р	а	д	у	с
к	о	к	о	н	у	с

Проверка.  
Кликай сюда 9  
раз




Найди закономерность и определи число



Какие числа должны быть записаны вместо квадрата, кружка и треугольника?

$$\begin{array}{l} 40 \\ 0 : \\ 10 \\ \text{○} \times 5 \\ = \\ \text{□} \\ -150 \\ = \\ \text{△} \\ + 30 = 80 \end{array}$$




**За неделю в школе сломали 4 стула, за вторую неделю-1стул, за третью-2 стула.**

**Какие убытки несёт школа, если стул стоит 300 рублей?**





Сове, Ослику и Винни-Пуху подарили три воздушных шарика-большой зелёный, большой синий и маленький зелёный. Как они разделят между собой их, если Сове и ослику нравятся большие шарики, Ослик и Винни-Пух любят зелёные шарики?


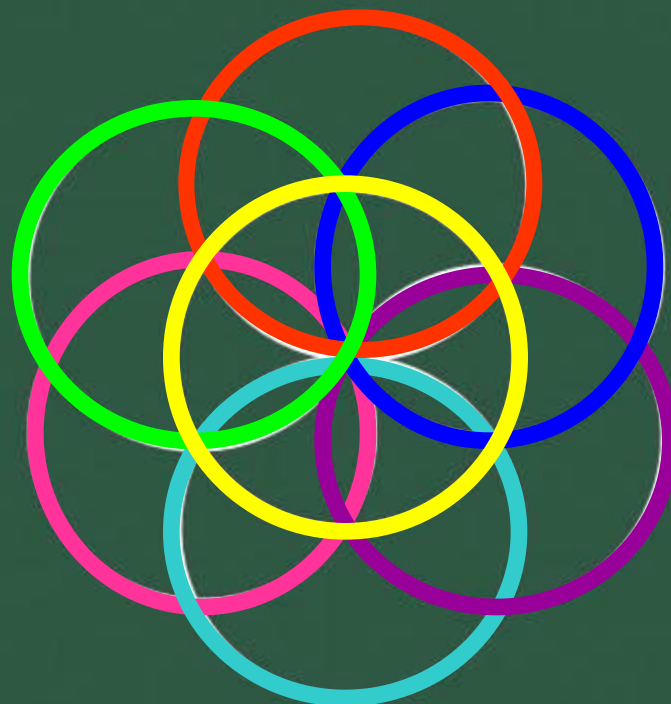




Угол в 30 градусов рассматривают  
в лупу, увеличивающую в 4 раза.  
Какой величины покажется угол?




Сколько окружностей?



Семь







Каких кругов больше:  
-маленьких или красных?  
-больших или синих?



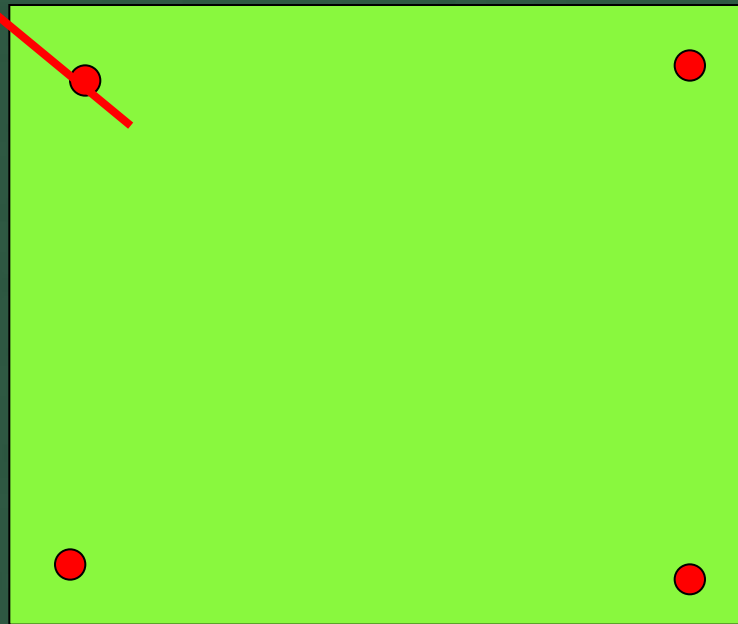
# Танграм- геометрический конструктор





Из семи представленных геометрических фигур составить квадрат



В квадрате выделены 4 точки.  
Можно ли провести отрезок так,  
Чтобы квадрат разбился на две части  
И в каждой из них было по одной точке?



Внимательно посмотри и воспроизведи



Обычно находится в центре города. Выражается квадратным числом. Длина на ширину.







”

К

Б А Н К





ь



ДЕНЬГИ






Ж

ТРИКОТАЖ






” ”



**ПЛАТЕЖИ**



A 3D rendered illustration of a classroom. In the foreground, a green chair with a grey metal frame is positioned to the left of a wooden desk. On the desk, there is a stack of six colorful books (red, blue, yellow, red, white, blue) and an open book. To the right of the desk is a wooden chalkboard on a stand. The word "Молодць" is written in white, italicized Cyrillic script on the chalkboard. The scene is set against a plain white background with soft shadows on the floor.

*Молодць*

## Интернет-ресурсы

- [lenagold.ru/fon/clipart/a/apel.html](http://lenagold.ru/fon/clipart/a/apel.html)
- [lenagold.ru/fon/clipart/g/grush.html](http://lenagold.ru/fon/clipart/g/grush.html)
- [photo.i.ua/user/661804/62485/](http://photo.i.ua/user/661804/62485/)
- [animashky.ru/](http://animashky.ru/)
- [forum.33bru.com/topic1818925\\_50.html](http://forum.33bru.com/topic1818925_50.html)
- <http://klub-drug.ru/blog/smajliki/kartinki-shkola-animacii-knigi-shkolnye.html>
- [www.liveinternet.ru/users/yaze4ok/post104261380/](http://www.liveinternet.ru/users/yaze4ok/post104261380/)
- [www.futajik.ru/geroi-russkix-skazok/](http://www.futajik.ru/geroi-russkix-skazok/)
- [ru.wikipedia.org/wiki/Орловский\\_](http://ru.wikipedia.org/wiki/Орловский_)
- [strana.ru/places/196323\\_хреново](http://strana.ru/places/196323_хреново)
- [mishbanych.livejournal.com/135376.html](http://mishbanych.livejournal.com/135376.html)
- [puzzle-ru.blogspot.com/2008/04/blog-post\\_01.html](http://puzzle-ru.blogspot.com/2008/04/blog-post_01.html)
- [festival.1september.ru/articles/521525/](http://festival.1september.ru/articles/521525/)
- [www.uznaiki.ru/catalog/party\\_i\\_stoly/party\\_i\\_stoly.php](http://www.uznaiki.ru/catalog/party_i_stoly/party_i_stoly.php)
- [www.babylessons.ru/igra-golovolomka-tangram/](http://www.babylessons.ru/igra-golovolomka-tangram/)
- [babylessons.ru](http://babylessons.ru)
- [www.mamochka.kz/article.php?article\\_id=1413](http://www.mamochka.kz/article.php?article_id=1413)
- [anime.toppik.ru/photo/prochee/animacija\\_vopros.../49-0-2275](http://anime.toppik.ru/photo/prochee/animacija_vopros.../49-0-2275)
- [www.kuznetsova.ds8.ru/measures.php-про](http://www.kuznetsova.ds8.ru/measures.php-про)
- [www.13info.jino.ru/?p=744](http://www.13info.jino.ru/?p=744)
- [metaphysicians-gallery.com](http://metaphysicians-gallery.com)