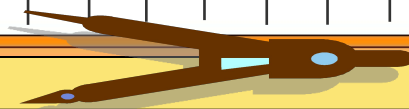





Десятичные дроби

Тест

Учитель математики МБОУ ЕСОШ № 11 ст. Егорлыкская
Душина Л.А.





Запишите в виде десятичной дроби число
*сто одна целая сто одна
десятитысячная*


а) 101,101

б) 101,0101

в) 1011,01

г) 101,00101

Молодец!





Какое из чисел расположено на координатной прямой правее остальных?

Отлично!




5,083

5,1

5,0217

5,0999





Выполните действия:

$$(17,947 - 13,0016 + 1,5094) - (3,816 + 5,14 - 3,99)$$

Здорово!




1,53

1,4888

11,4208

1,496





Округлите число 15,9476 до
СОТЫХ




15,94

16,0

15,95

15,9





Какую цифру можно поставить вместо , чтобы получить верное неравенство $27, \text{}376 < 27,2299$?

Молодец!




0 или 1

таких нет

любую

2





Решите уравнение:

$$3x + 7,4x - 3,6 - 1,5x = 5,834$$




16

1,6

10,6

Молодец! Впиши
верный ответ

другой ответ





Представьте число $4\frac{13}{16}$ в виде десятичной дроби




Отлично!

0,8125

4,125

4,8125

другой ответ





Найдите скорость течения реки, если за 5 ч
катер прошел по течению 96,5 км, а за 4,8 ч
против течения – 81,6 км

Ты гений!
Впиши ответ



1,7 км / ч

другой ответ

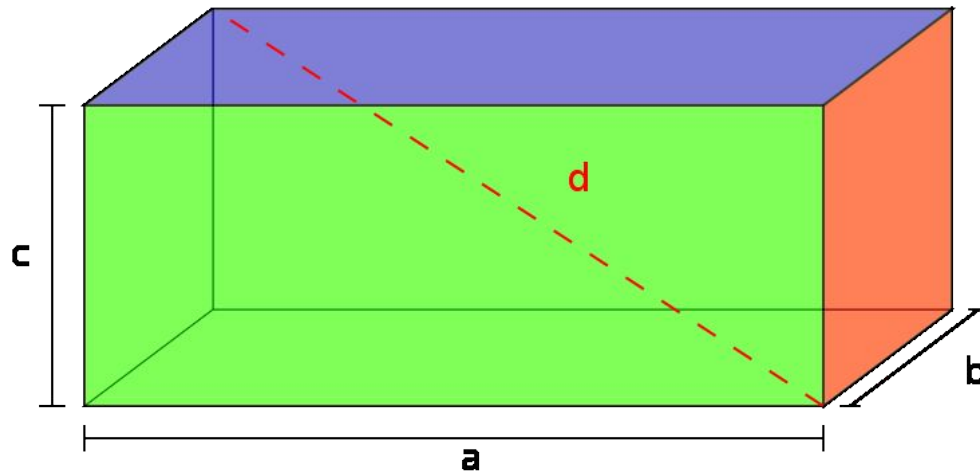
7,45 км / ч

3 км / ч





Найдите объем прямоугольного параллелепипеда, если его длина равна 6,9 см, ширина в 2,5 раза меньше длины, а высота на 0,36 см меньше ширины




45,7056 см³

47,61 см³



47,1 см³

другой ответ





Найдите среднее арифметическое чисел
5,83; 15,76; 14,931 и 23,519




Классно!

30,02

60,04

15,01

240,16





Тест пройден ! Оцени себя!

Если нет
ошибок

Если 3-4
ошибки



Если 1-2
ошибки

Если более
4 ошибок



Повтори теорию и
попробуй ещё раз

