

Тема: Спрос и закон спроса

Цели урока:

1. Определить: что такое спрос и закон спроса?
2. Выяснить какие факторы помимо цен влияют на изменения спроса на товар?
3. Какие бывают виды товаров?

1. Что такое рынок?
2. Функции рынка



Информационная Регулирующая Стимулирующая Санитрующая

3. Причины возникновения рыночной экономики
 - 1) Развитие разделения труда.
 - 2) Частная собственности.

Спрос это потребность покупателей в данном товаре (услуги), выраженная в их покупательной способности.

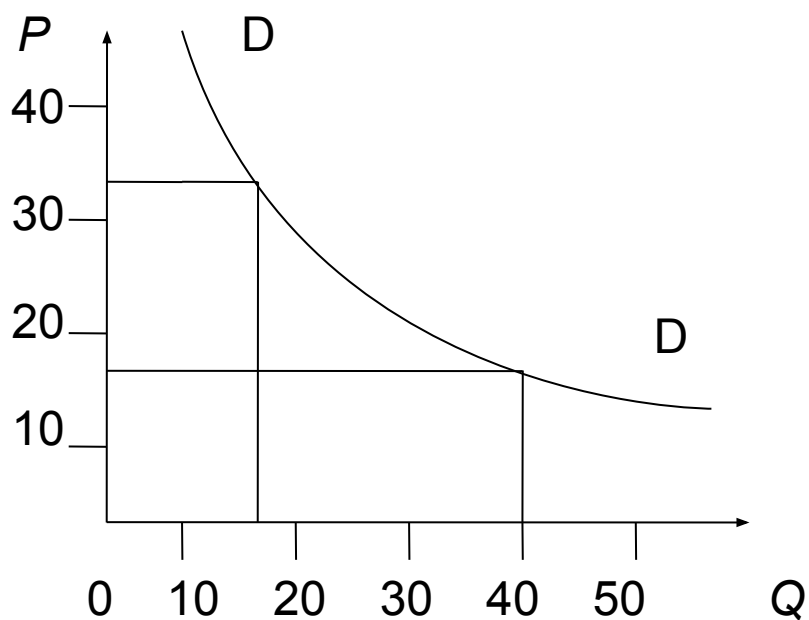
Величина спроса — это количество товара (услуг) которое покупатели готовы купить по данной цене и в определённом месте.

Зависимость величины спроса от цены товара

Шкала спроса

Цена (P) ¹ , ден. ед.	Величина спроса (Q) ² , шт.
10	50
15	40
20	30
25	25
30	20
35	15
40	10

Кривая спроса



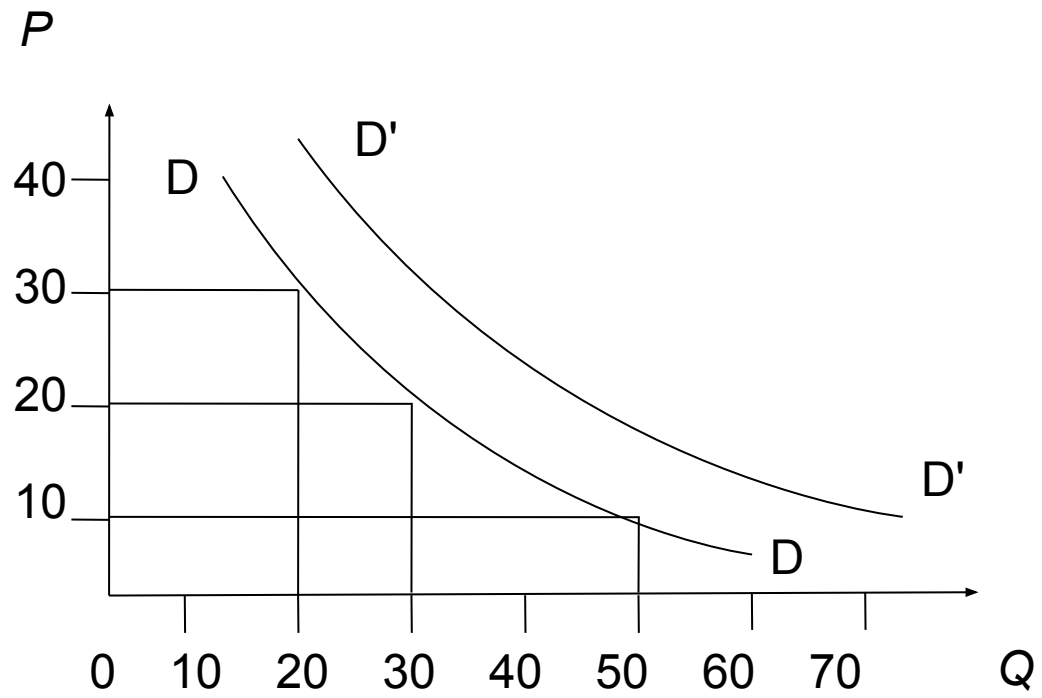
ЗАКОН СПРОСА гласит: при прочих равных условиях величина спроса на товар (услугу) находится в обратной зависимости от цены этого товара.

Зависимость величины спроса от цены товара при возросших доходах покупателей

Шкала спроса

Цена (P) ¹ , ден. ед.	Величина спроса (Q) ² , шт.
10	70
15	60
20	45
25	35
30	28
35	21
40	15

Сдвиг кривой спроса



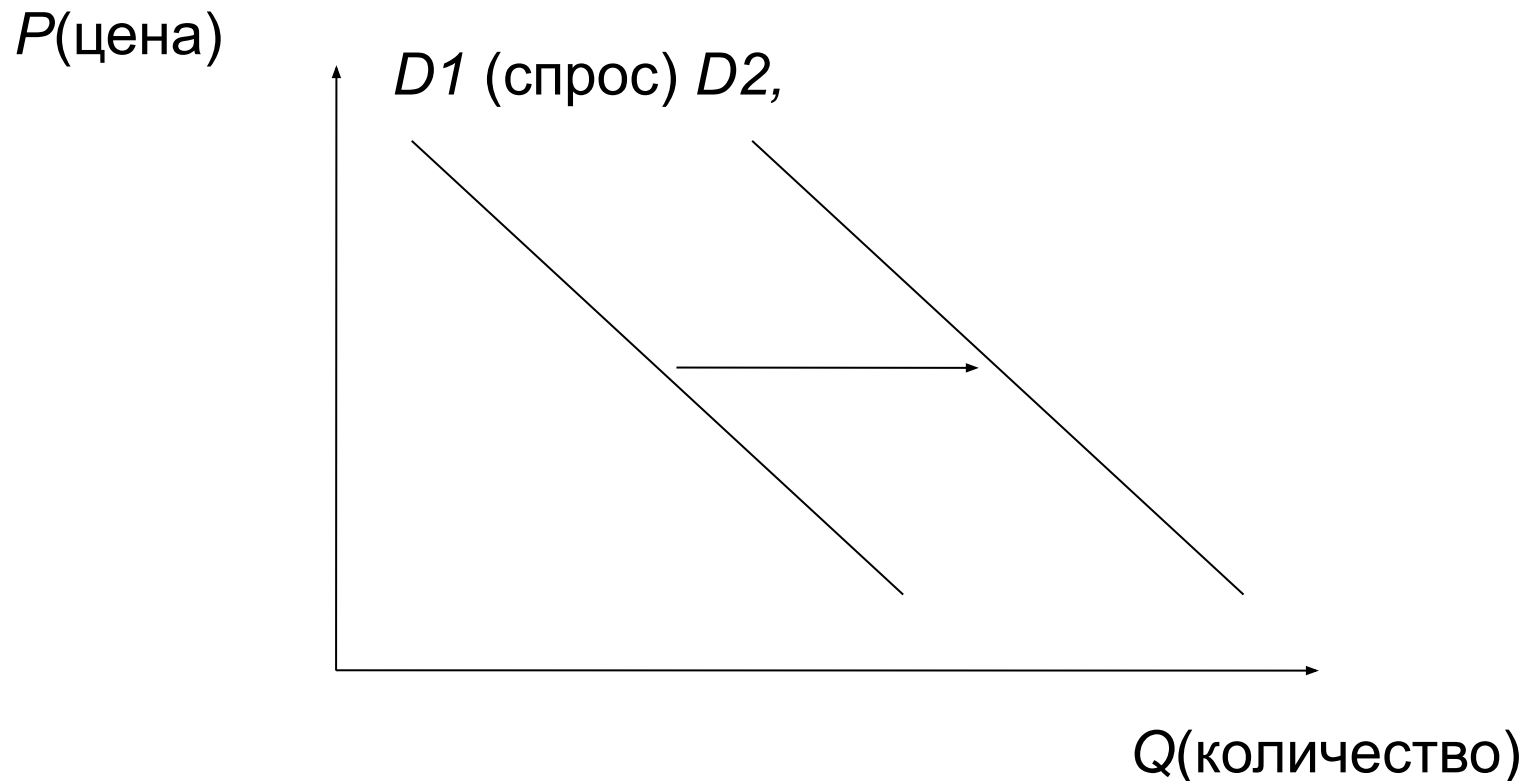
Другие факторы, влияющие на спрос:

1. Уровень дохода покупателей:
 - а) «низшим» товарам
 - б) «Нормальные» товары
2. Вкусы и предпочтения потребителей.
3. Цены на другие товары:
 - а) Взаимозаменяемые товары
 - б) Дополняющие товары
4. Ожидание изменения доходов и цен.
5. Изменение числа покупателей.

Тестовые задачи:

1. Из приведенного ниже списка выберите ситуацию, которая может быть отражена следующим графиком.

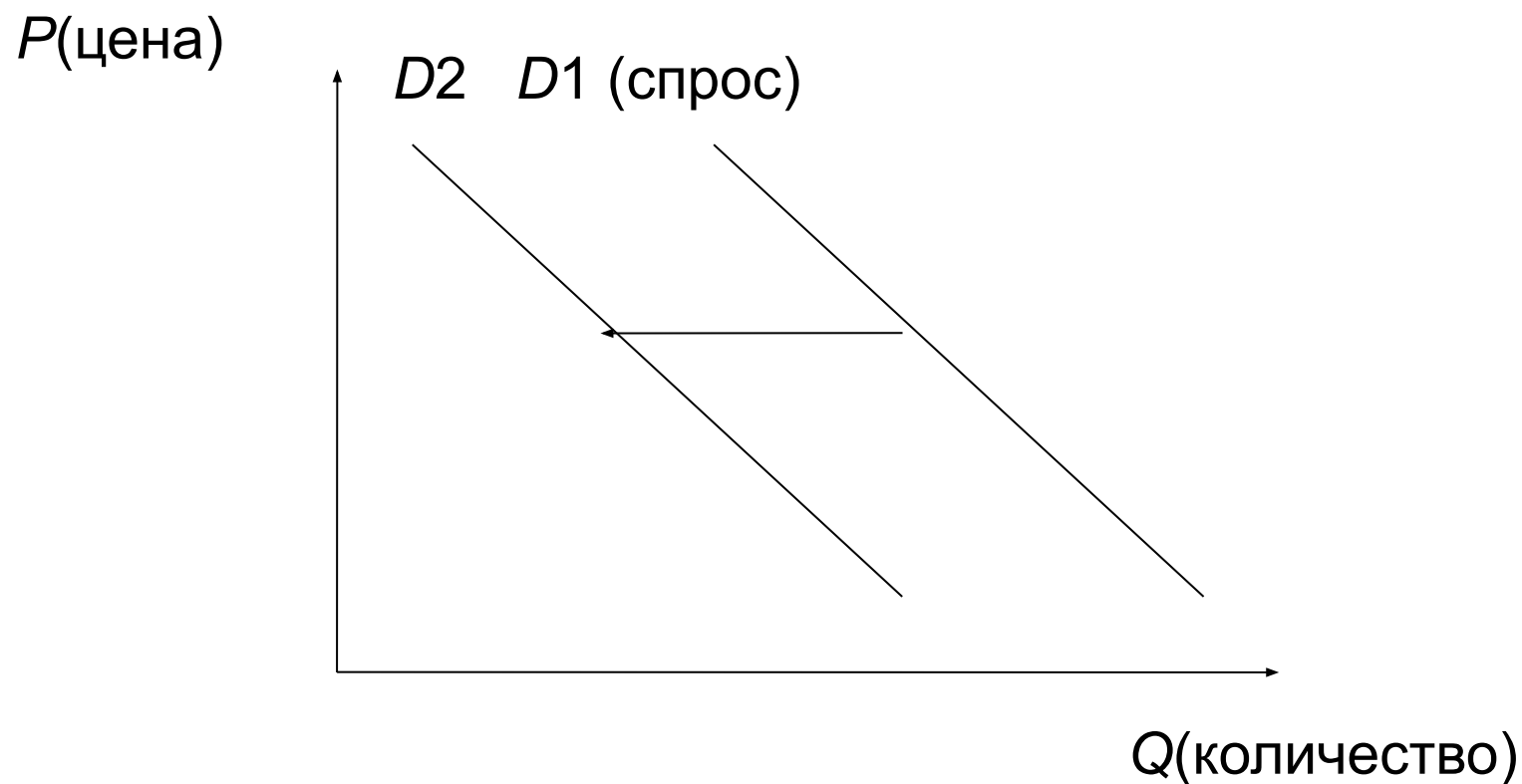
- 1) спрос на бытовую технику при снижении доходов покупателей
- 2) спрос на учебники при демографическом спаде
- 3) спрос на билеты на самолет после ледяного дождя в аэропорту
- 4) спрос на программное обеспечение после снижения цен на компьютеры



2. Из приведенного ниже списка выберите ситуацию, которая может

быть отражена следующим графиком.

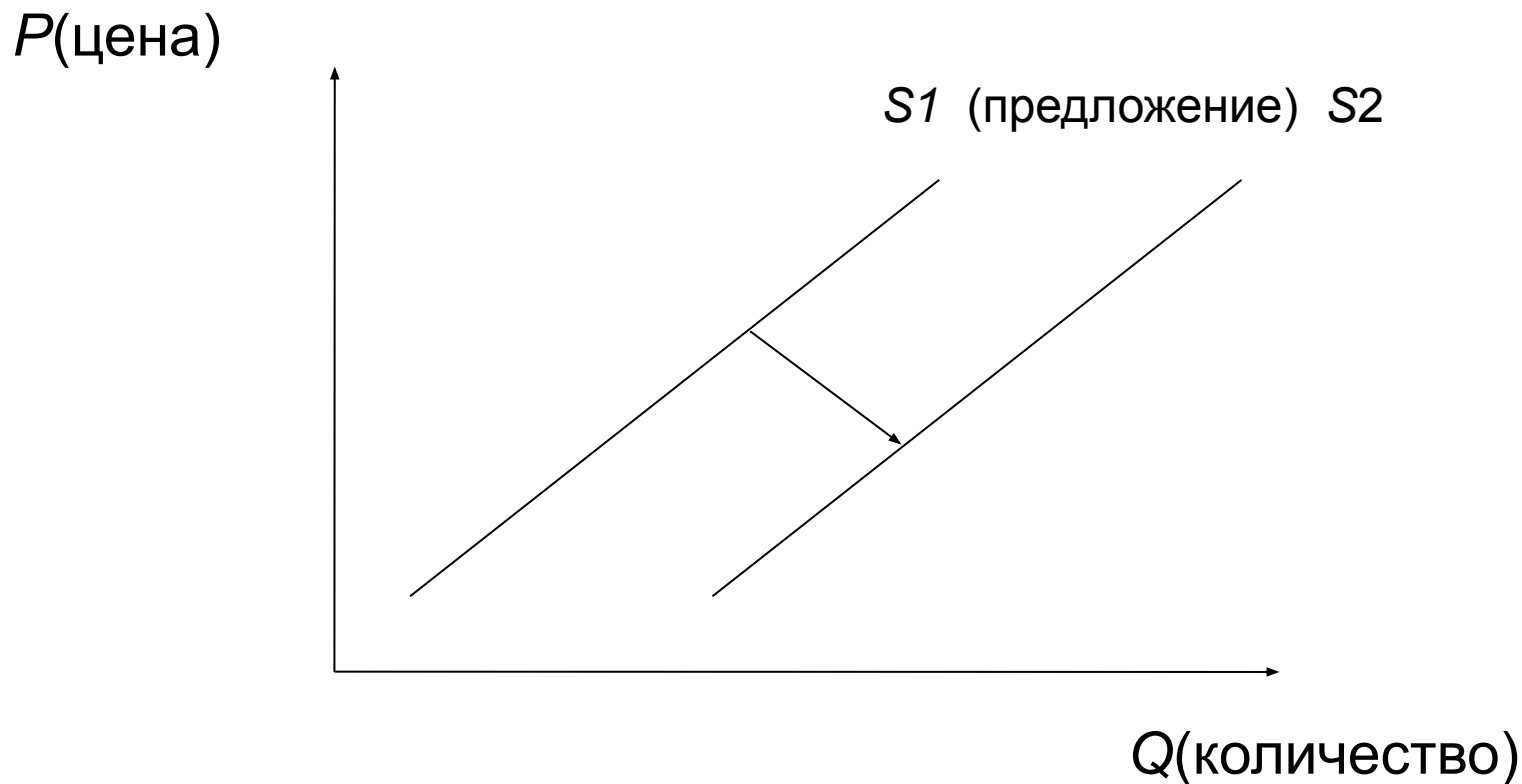
- 1) спрос на кондиционеры при росте доходов покупателей
- 2) спрос на детские коляски при «беби — буме»
- 3) спрос на средиземноморские курорты в условиях политической нестабильности в этих регионах
- 4) спрос на корм для кошек после удачной рекламы этого корма на ТВ



3. Из приведенного ниже списка выберите ситуацию, которая может

быть отражена следующим графиком

- 1) удорожание аренды производственных зданий
- 2) рынок картофеля после аномально засушливого лета
- 3) внедрение на предприятии новых более эффективных технологии
- 4) ожидание продавцами скорого роста цен



4. Какую ситуацию из приведенных ниже отражает график?

1) спрос на услуги детских садов при росте рождаемости

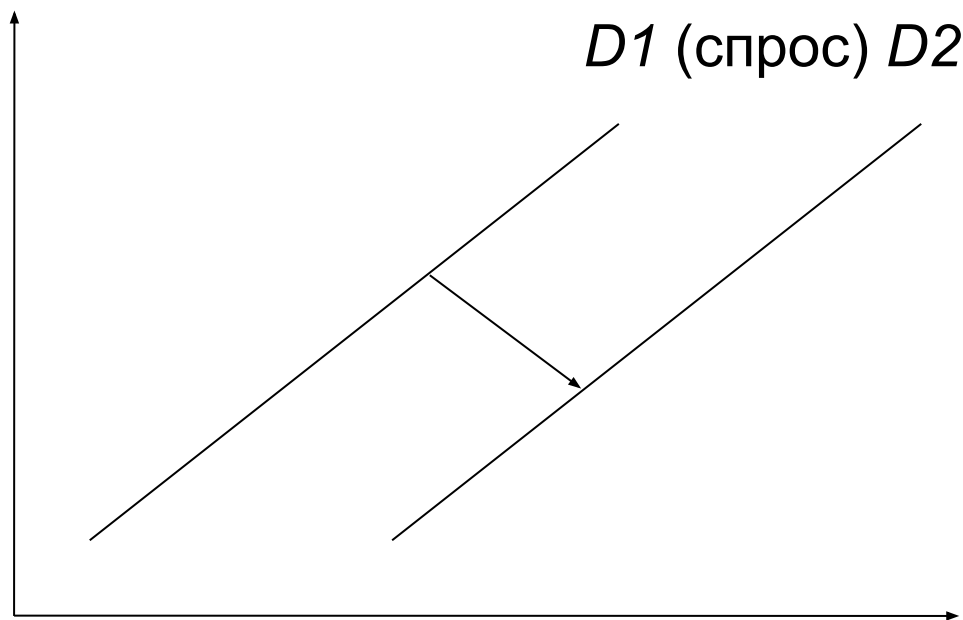
2) спрос на корм для животных после публикации в местной газете

об отравлении животных этим кормом

3) спрос на бытовую технику во время экономического кризиса

4) спрос на импортный товар, для которого перестали продавать запчасти

P (цена)



Q (количество)

5. На рисунке отражена ситуация на рынке производителей косметик: линия предложения S переместилась в новое положение $S1$ (P — цена товара, Q - объём предложения товара). Это перемещение может быть связано в первую очередь с

- 1) увеличением доходов потребителей
- 2) сокращением количества потребителей
- 3) снижением налогов на производителей косметики
- 4) закрытием ряда косметических фирм

