

Урок математики в 1 «В» классе



ТЕМА : «ЧИСЛО ПЯТЬ. ЦИФРА 5»

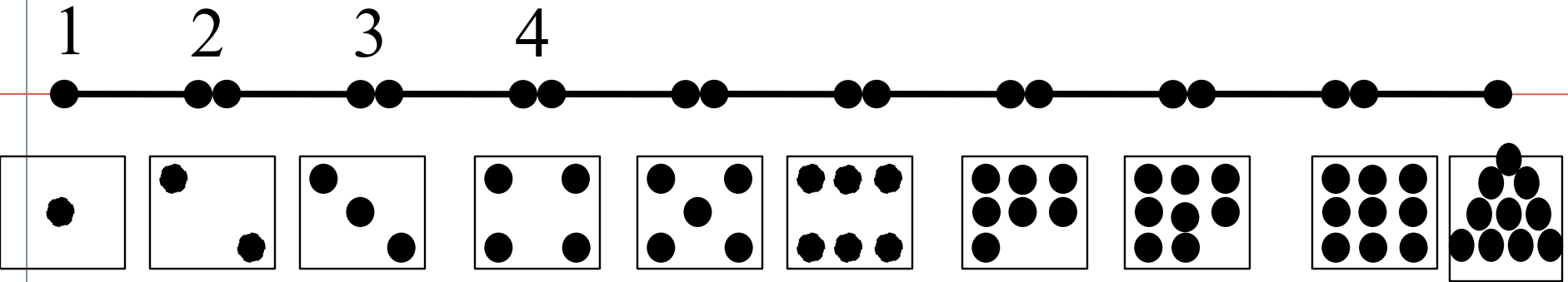
Терещенко Л. Е.

Цели урока:

- закрепить знания детей о составе чисел 1-4, познакомить с числом 5, с получением числа 5 путём прибавления 1 к числу 4 и обозначение его цифрой 5;
- развивать логическое мышление, память, внимание, устную и письменную речь учащихся;
- воспитывать усидчивость, дисциплинированность, аккуратность.

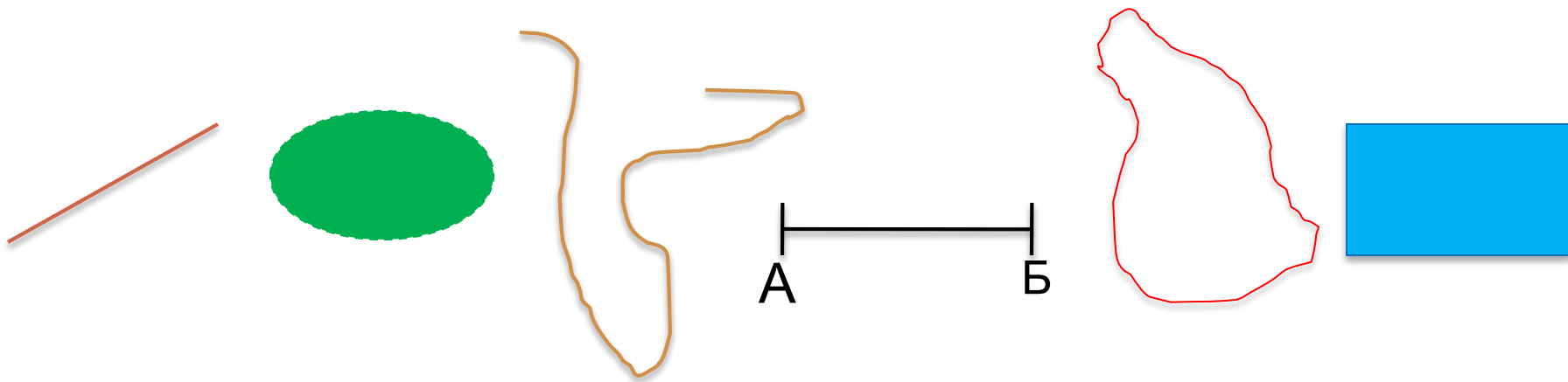
Актуализация знаний.

Счет по числовому отрезку.




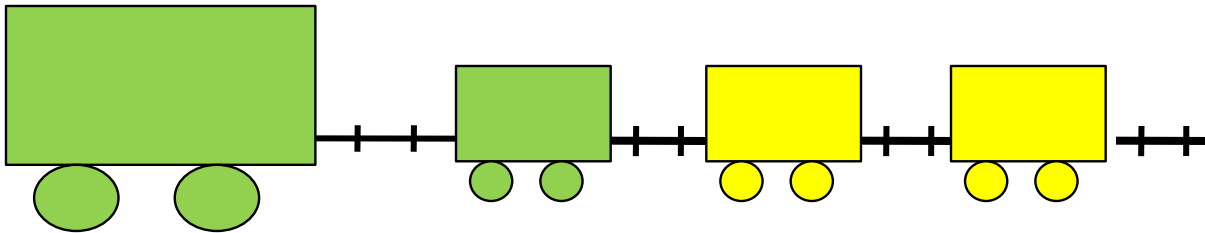
Актуализация знаний.

Назови геометрические фигуры.



1. Помоги Пете ответить на вопросы. Сколько вагонов было?

Сколько станет?









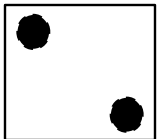

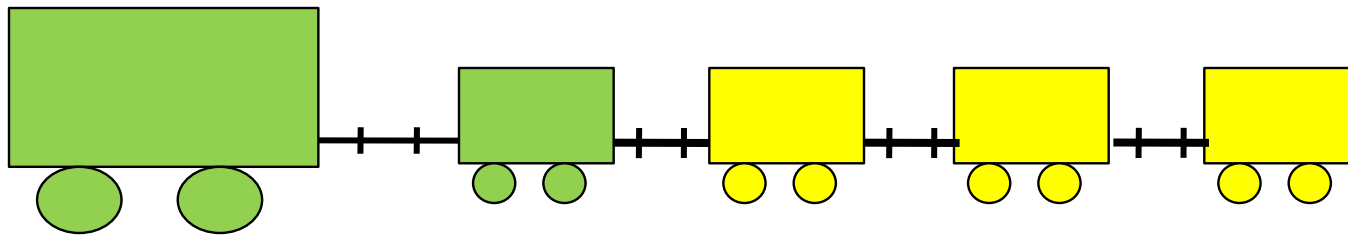


4


Составьте выражение к рисунку:

$$4 + 1$$


2. Сколько точек надо нарисовать Пете на последней карточке?




2. Назови число предметов на каждой карточке.



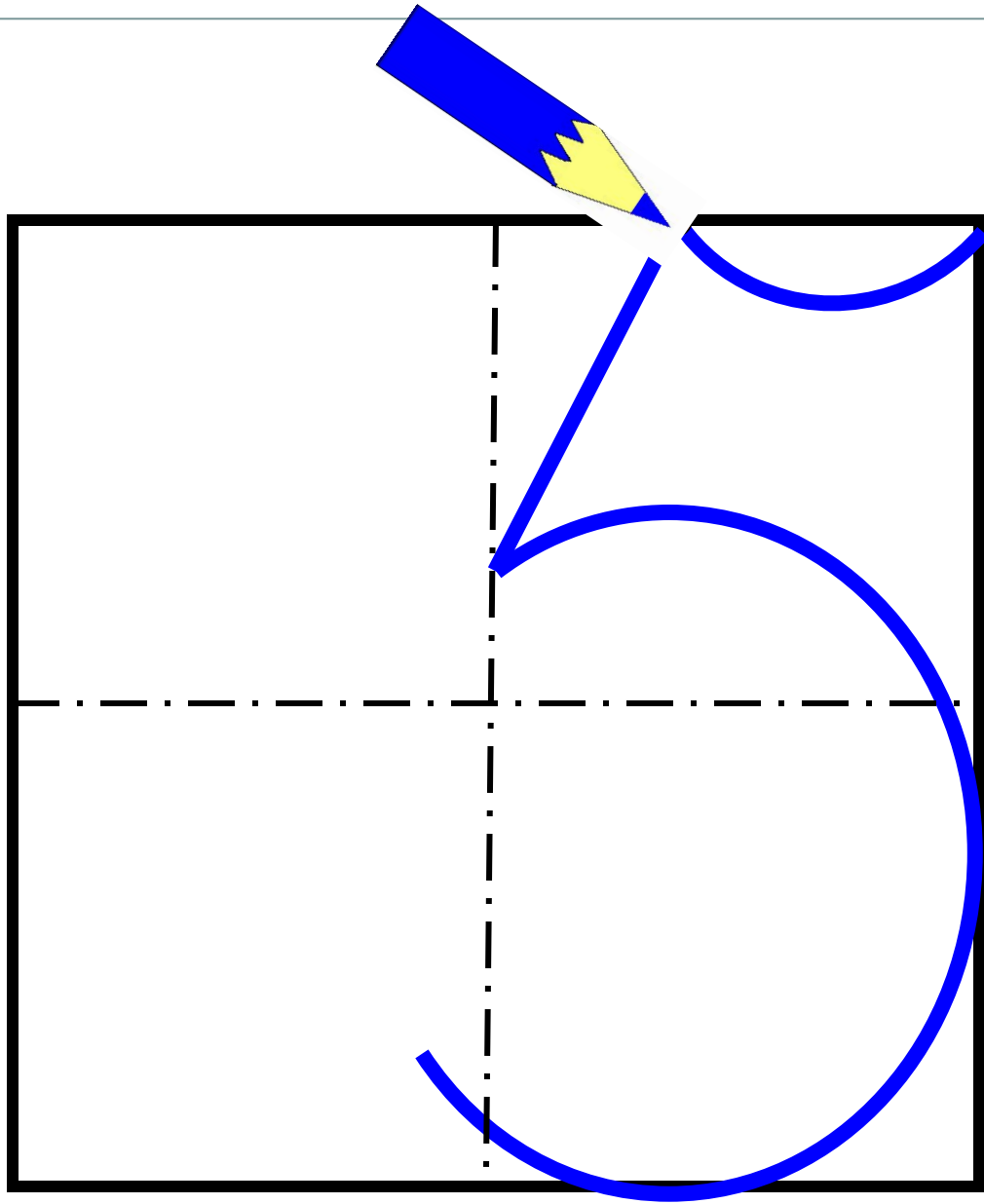
ПЯТЬ

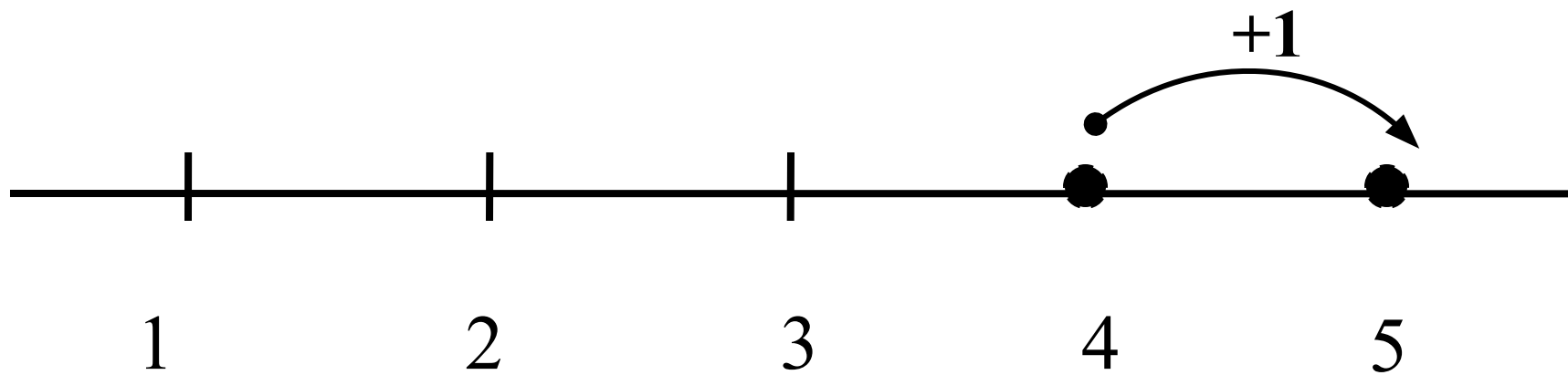


ПЯТЬ



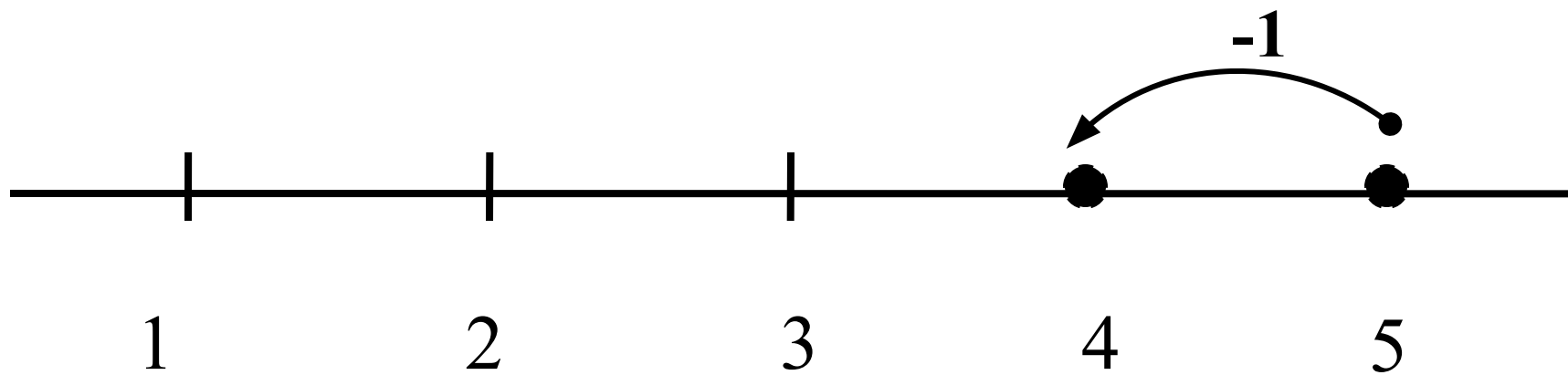
ПЯТЬ





$$4 + 1 = 5$$

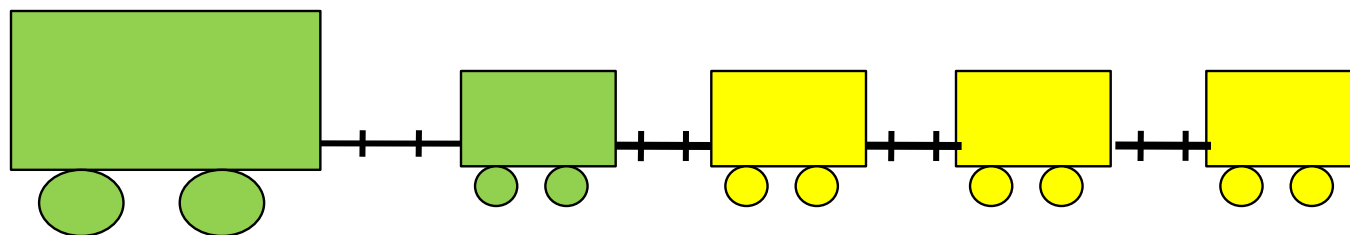
Вправо - плюс



$$5 - 1 = \boxed{4}$$

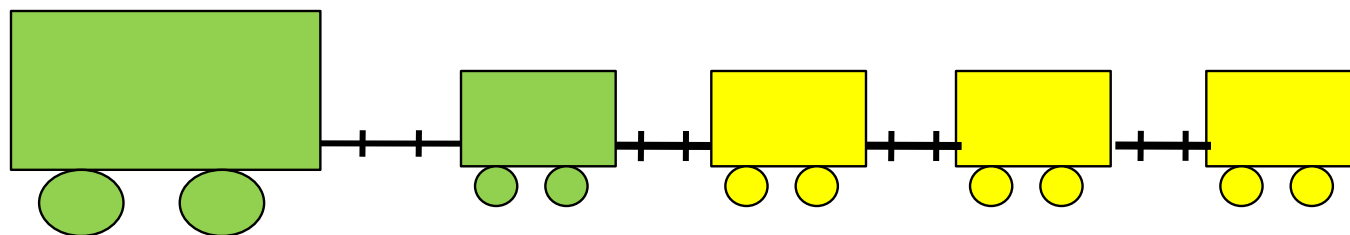
Влево - минус

6. Какие четыре равенства можно записать к рисунку ?



$$1 + 4 = 5$$

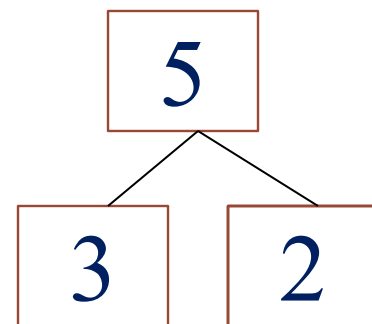
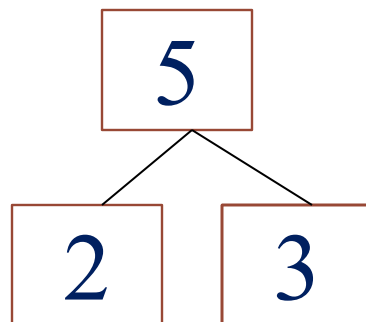
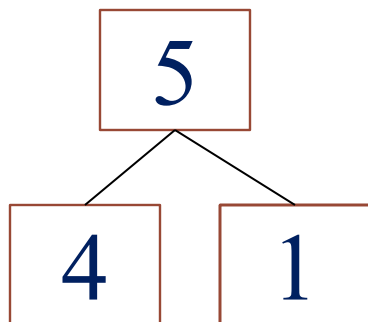
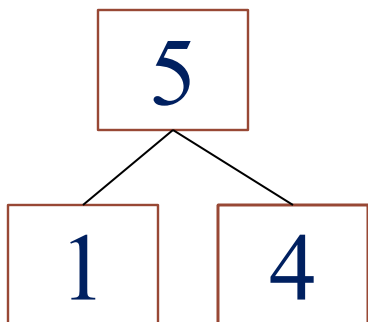
6. Какие четыре равенства можно записать к рисунку ?



$$1 + 4 = 5$$

$$2 + 3 = 5$$

Расскажите о числе 5.



7. Преврати записи Кати в верные равенства. Запиши в «окошках» знаки действий (+, -).

$1 \square 4 = 5$

$3 \square 2 = 5$

$4 \square 1 = 5$

$5 \square 4 = 1$

$5 \square 3 = 2$

$5 \square 1 = 4$

7. Преврати записи Кати в верные равенства. Запиши в «окошках» знаки действий (+, -).

Проверь!

$1 \square 4 = 5$

$3 \square 2 = 5$

$4 \square 1 = 5$

$5 \square 4 = 1$

$5 \square 3 = 2$

$5 \square 1 = 4$

Спасибо!

ИСТОЧНИКИ:

<http://www.zavuch.info/>

<http://pedsovet.su/>

www.google.ru