


урок по правилам дорожного движения




«В стране дорожных знаков»

Составила: Наливайко Г. И.












Ребята, вы мне помогите,
и, если можно, расскажите,
Дорогу как переходить,
Чтоб под машину не угодить!

Что же мне делать?



**Да пропустите,
же вы,
не мешайте
человеку!!!**

**Какое
безобразие!**

**Да он просто
неграмотны
й пешеход!**





Ой, ой,
спасите,
пожалуйста!




ВЫБЕРИ ПРАВИЛЬНЫЙ ОТВЕТ

Задание 1

Что такое проезжая часть?


1. Расстояние между домами.
2. Часть дороги, по которой движется транспорт.
3. Часть дороги, по которой идут пешеходы.



Задание 2

Что называют дорожной разметкой?


1. Линии, стрелки и надписи, которые определяют порядок движения на дорогах.
2. Рисунки мелом на проезжей части.
3. Окрашенный тротуар.



Задание 3

Как должен поступить пешеход, если не успел закончить переход?

1. Остановиться на том месте, где его застал красный сигнал светофора.
2. Остановиться на линии, разделяющей транспортные потоки противоположных направлений.
3. Вернуться на тротуар.



Задание 4

Кто правильно идёт по загородной дороге?


1. Обе девочки.
2. Турист.
3. Турист и девочки.



Задание 5

Как надо переходить проезжую часть?


1. Идти медленно, смотреть в обе стороны.
2. По пешеходному переходу. При переходе не задерживаться и без необходимости не останавливаться.
3. Очень быстро перейти дорогу.



Задание 6

Что обозначает разметка жёлтой ломаной линией?

1. Предупреждение об опасном участке проезжей части.
2. Повороты в любую сторону.
3. Место остановки автобуса и (или) троллейбуса.




ВЫБЕРИ ПРАВИЛЬНЫЙ ОТВЕТ

Задание 1

Что такое проезжая часть?


1. Расстояние между домами.
2. Часть дороги, по которой движется транспорт.
3. Часть дороги, по которой идут пешеходы.



Задание 2

Что называют дорожной разметкой?


1. Линии, стрелки и надписи, которые определяют порядок движения на дорогах.
2. Рисунки мелом на проезжей части.
3. Окрашенный тротуар.



Задание 3

Как должен поступить пешеход, если не успел закончить переход?

1. Остановиться на том месте, где его застал красный сигнал светофора.
2. Остановиться на линии, разделяющей транспортные потоки противоположных направлений.
3. Вернуться на тротуар.



Задание 4

Кто правильно идёт по загородной дороге?


1. Обе девочки.
2. Турист.
3. Турист и девочки.



Задание 5

Как надо переходить проезжую часть?


1. Идти медленно, смотреть в обе стороны.
2. По пешеходному переходу. При переходе не задерживаться и без необходимости не останавливаться.
3. Очень быстро перейти дорогу.



Задание 6

Что обозначает разметка жёлтой ломаной линией?

1. Предупреждение об опасном участке проезжей части.
2. Повороты в любую сторону.
3. Место остановки автобуса и (или) троллейбуса.



ЗНАЙ ПРАВИЛА

ДВИЖЕНИЯ КАК ТАБЛИЦУ

УМНОЖЕНИЯ !