

Реши, если силен.

5-7 кл



Веселая разминка



1. На уроке физкультуры ученики выстроились в линейку на расстоянии одного метра друг от друга. Вся линейка растянулась на 25 метров. Сколько учеников в классе?


Веселая разминка

2. На столе стояли 4 стакана с вишней.
Оксана съела один стакан вишни.
Сколько стаканов осталось?



Веселая разминка

3. Чем кончается день и ночь?



Веселая разминка

4. В автобусе находилось 20 человек. Из них 10 девочек. Сколько в автобусе находилось мальчиков?




Веселая разминка

5. Один кирпич весит 1 килограмм и еще полкирпича. Сколько весит один кирпич?



Веселая разминка

6. Чем кончается лето и начинается осень?



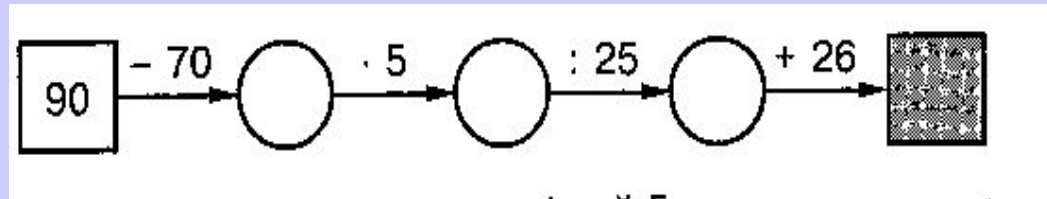
Веселая разминка



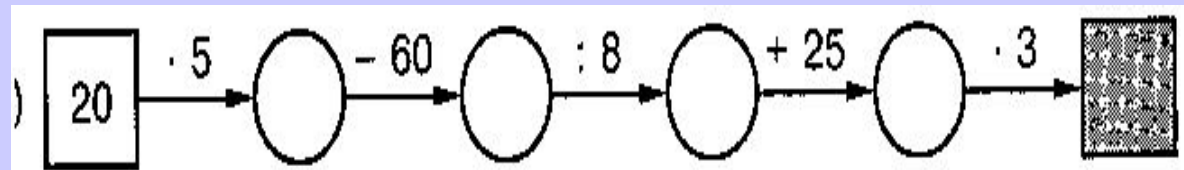
7. Петух стоя на одной ноге весит 3 кг. Сколько он будет весить, стоя на двух ногах?

8. Какое число нужно вписать в последнюю клетку цепочки?

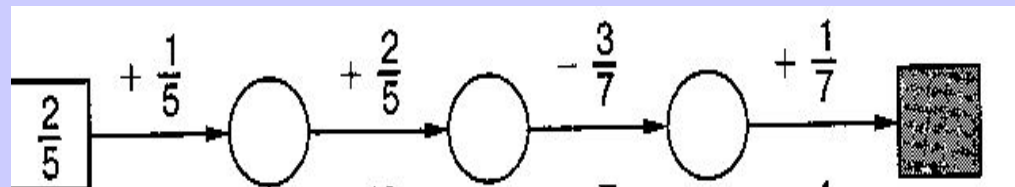
- 5 класс



- 6 класс



- 7 класс



9. Упорядочение (5 класс)

1. Через 5 лет Маше будет столько же лет, сколько сейчас Коле. Кто младше?



9. Упорядочение (6 класс)

2. Через 4 года Ване будет на 2 года меньше, чем Славе через 7 лет. Кто старше?



9. Упорядочение (7 класс)



3. У меня три карандаша: желтый, коричневый и черный. Попробуйте назвать самый короткий и самый длинный из карандашей, если известно, что:

черный карандаш короче желтого, а коричневый длиннее желтого.

10. Вычислите устно

• 5 класс

$$\begin{array}{r}) 32 : 16 \\ \cdot 25 \\ + 34 \\ : 12 \\ \cdot 10 \\ \hline ? \end{array}$$

6 класс

$$\begin{array}{r} 2,8 + 0,7 \\ : 5 \\ \cdot 90 \\ - 3,5 \\ \hline ? \end{array}$$

7 класс



11. Взаимно однозначное соответствие

1. Оля, Таня, Юля и Ира варили варенье.
Две девочки варили его из смородины,
две девочки - из крыжовника.

Таня и Ира варили варенье из разных
ягод.

Ира и Оля тоже варили его из разных
ягод.

Ира варила варенье из крыжовника.

Из каких ягод варила варенье каждая
девочка?



12. Взаимно однозначное соответствие



2. Четыре приятеля - Миша, Коля, Саша и Дима - проживают по следующим адресам:

Лесная ул., 37;

Цветочная ул., 25;

Лесная ул., 25.

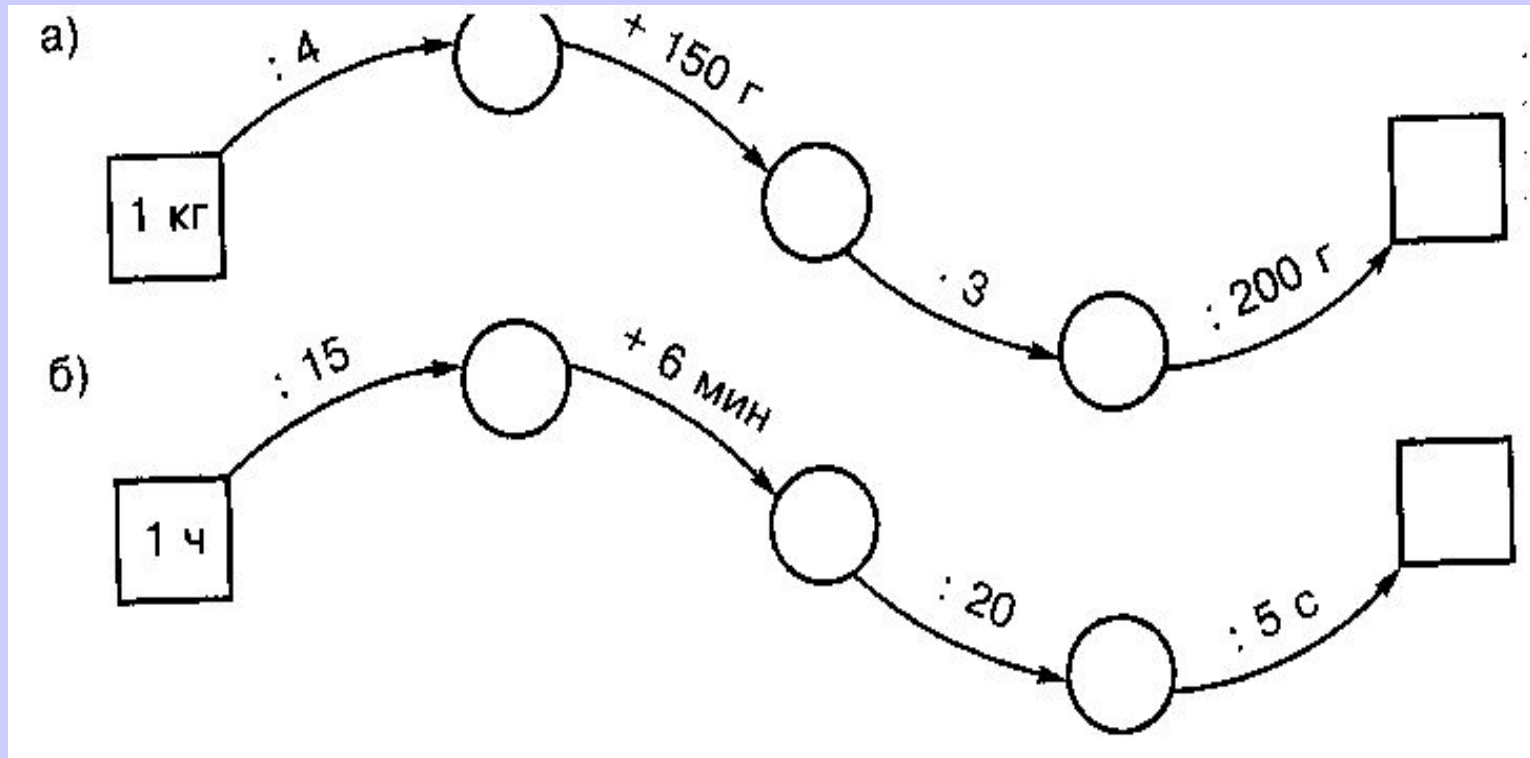
Узнайте, в каком доме и на какой улице живет каждый из мальчиков, если известно, что

Миша и Коля живут на одной улице,

Саша и Коля живут в домах с одинаковыми номерами,

а Миша и Дима - родные братья.

13. Восстановите цепочку вычислений



14. Найдите корень уравнения

• 5 класс $108 * x = 540.$

• 6 класс $x + 3,8 = 8.$

• 7 класс $3,2 - x = 7.$

П
О
М
О
Г
И
З
О
Л
У
Ш
К
Е



Спасибо за работу!

- Составила Козловская Т.В. – учитель математики МОУ Хову – Аксынская ОСШ.