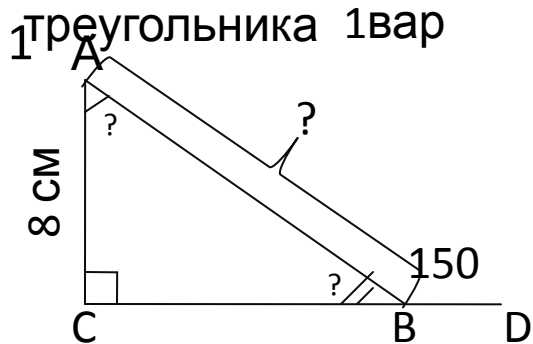
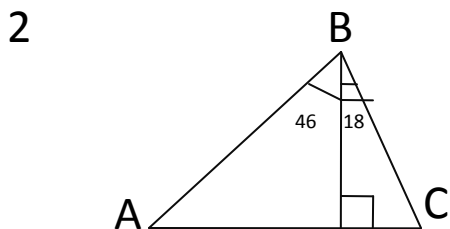


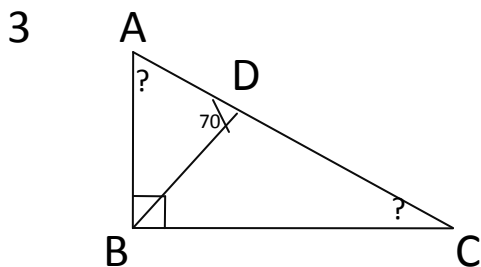
Самостоятельная работа по теме:
свойства прямоугольного
треугольника 1вар



Найти
 $\angle AB = ?$
 $\angle A = ?$
 $\angle B = ?$

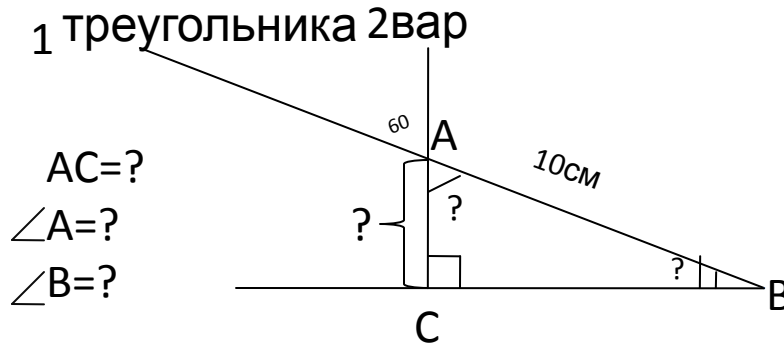


Найти
 $\angle A = ?$
 $\angle C = ?$

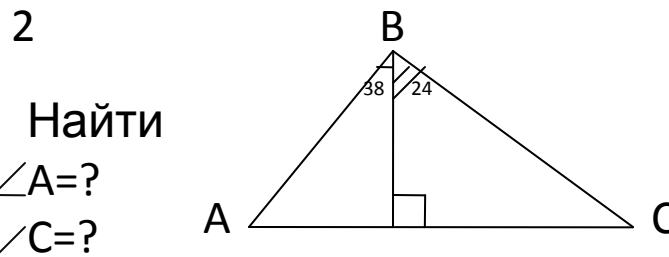


BD-бис-са
 $\angle B$
 $\angle ABC = 70$
 Найти
 $\angle A$ и
 $\angle C$

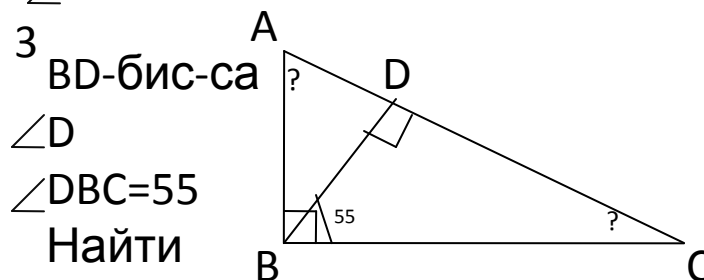
Самостоятельная работа по теме:
свойства прямоугольного
треугольника 2вар



AC = ?
 $\angle A = ?$
 $\angle B = ?$



Найти
 $\angle A = ?$
 $\angle C = ?$



BD-бис-са
 $\angle D$
 $\angle DBC = 55$
 Найти
 $\angle A$ и
 $\angle C$