



СЛОЖЕЊЕ И  
ВЫЧУТАЊЕ  
ΠΟΛΟЖИΤΕΛΗ  
ЫХ И  
ΓΡΗΨΑΤΕΛΗ<sup>ο</sup>  
ЫХ ЧУСЕΛ



# ТИРОВЕРКА ДОМАШНЕГО ЗАДАНИЯ

Команды	Звезда	Орел	Трактор	Сокол	Чайка
Число забитых мячей	49	37	17	21	6
Число пропущенных мячей	16	28	23	35	28
Разность забитых и пропущенных мячей	33	9	-6	-14	-22

Иностранные марки – ? сост. 30 %

Российские марки – ?

1105 марок



*Пусть в альбоме было  $x$  российских марок, тогда  $0,3x$  марок было иностранных. Всего в альбоме было  $(x + 0,3x)$  марок. Зная, что всего было 1105 марок, составим и решим уравнение.*

$$x + 0,3x = 1105;$$

$$1,3x = 1105;$$

$$x = 1105 : 1,3;$$

$$x = 11050 : 13;$$

$$x = 850.$$

*Итак, 850 марок было российских, тогда  $850 \cdot 0,3 = 255$  (мар.) было иностранных.*

*Проверка:*

$$850 + 255 = 1105;$$

*1105 = 1105 – верно.*

**Ответ: 255 марок; 850 марок.**

$$\text{a) } AB = -3 - (-7) = 4$$

$$\text{б) } MN = 2,3 - (-4,2) = 6,5$$

$$\text{в) } PK = \frac{1}{6} - \left(-\frac{2}{3}\right) = \frac{5}{6}$$

$$\text{г) } CD = 1\frac{2}{7} - \left(-2\frac{5}{7}\right) = 4$$

# РАСПОЛОЖИТЕ ЧИСЛА В ПОРЯДКЕ ВОЗРАСТАНИЯ

	2,5	-0,2	0	-7,5	-3,5	1,3	5	2,6
П	А	И	М	О	Л	И	А	Д

# МАТЕМАТИКА И ЗУМЖЯЯ ОЛИМПИАДА



# СКАЖИТЕ, С ЧЕТО НАЧИНАЮТСЯ ОЛИМПИЙСКИЕ ИТРЫ?

- с большого праздника;
- с зажигания Олимпийского огня;
- с дискотеки.

# ТЕОРЕТИЧЕСКИЙ ДИКТАНТ

«Да» - «+»

«Нет» - «-»



# СЛАЛОМ

*I*

*команда*

**-4**



*II*

*команда*

**-8**



ZORLMOJ.VU

*III*

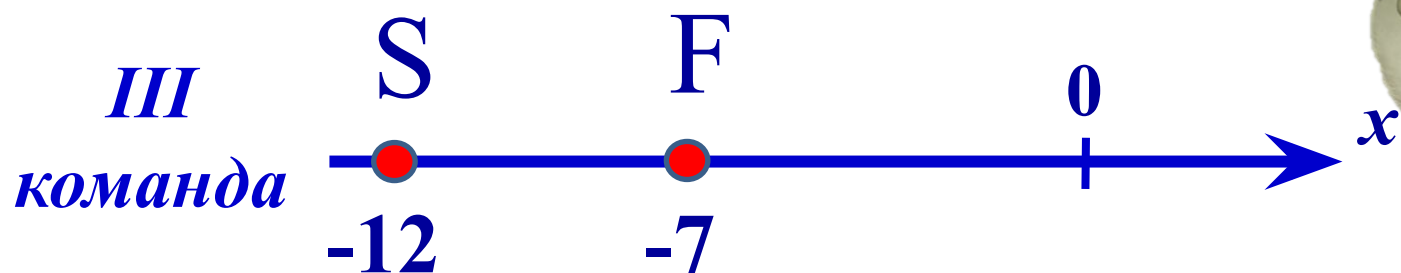
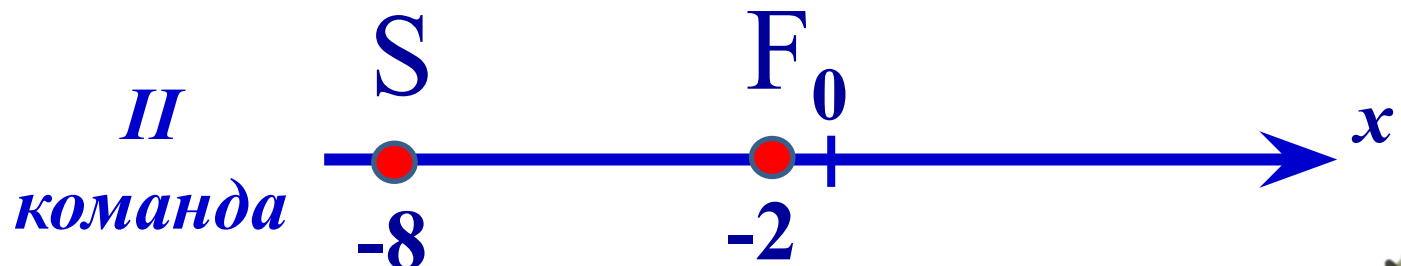
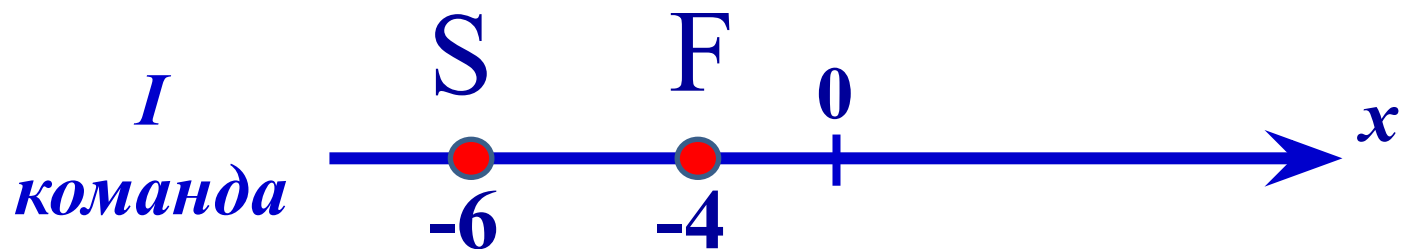
*команда*

**-12**



# ПРОИДЕННАЯ ДИСТАНЦИЯ

Найдите расстояние от точки S до точки F



# ΠΡΟΠΩΣΗΝΑ ΔΙΣΤΑΨΙΑ

*I*  
*команда*

$$SF = -4 - (-6) = -4 + 6 = 2$$

*II*  
*команда*

$$SF = -2 - (-8) = -2 + 8 = 6$$

*III*  
*команда*

$$SF = -7 - (-12) = -7 + 12 = 5$$

# РЕШИТЕ УРАВНЕНИЕ:

а)  $|x| = 11$

а)  $x=11; x=-11$

б)  $x + (-9) = 4$

б)  $x=13$

в)  $5\frac{2}{3} - (-x) = 14\frac{2}{3}$

в)  $x=8$

**Дополнительное  
уравнение:**

$$|x| = -8$$



# ΜΕΔΑΛΙΣΤΕΣ ΤΑΧΥΕΙ ΣΤΟ ΜΠΟΪ ΡΟΓΚΥ



13

11

9

# ФУЗКУЛЬТМУЖУТКА



# САМОСТОЯТЕЛЬНАЯ РАБОТА

Выполни задание и вместе  
вспомним наших чемпионов!



# ΣΚΕΛΕΤΟΝ





# WORLD-TRIP



# ΦΥΤΥΦΗΛΟΕ ΚΑΤΑΓΕΛΙΕ



# БОБСЛЕЙ



# ДОМАШНЯЯ РАБОТА



Выполни задание из  
раздаточного материала:


«3» - выполнить пункт а);

«4» - выполнить пункты а) и б);

«5» - выполнить пункты а)-г).



# ΡΕΦΛΕΚΣΙΑ



*СПАСИЋО ЗА УРОК*