



Практическая работа.
Определение ГТТ реки,
обозначение рек на
контурной карте.



Васильева Е.А. - учитель
географии МБОУ СОШ п.
Солидарность Елецкого района
Липецкой области

Географический ДИКТАНТ:


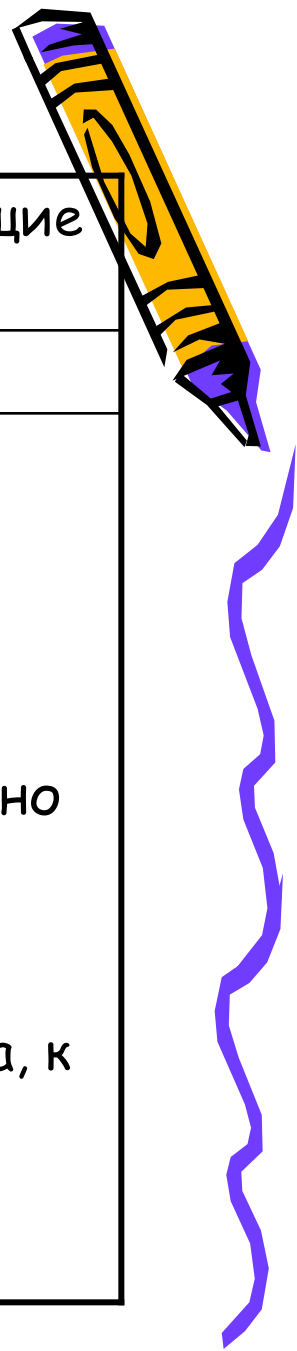


- Река
- Исток
- Устье
- Пойма
- Речная долина
- Речная система
- Бассейн реки
- Водораздел
- Режим реки
- Межень
- Паводок
- Половодье




ГТ реки

План	Действия, соответствующие пунктам плана
1. Название.	1. Назвать и показать реку
2. Географическое положение: А) на материке; Б) относительно других объектов.	Определить: А) на каком материке и в какой его части, между какими меридианами и параллелями; Б) положение относительно форм рельефа, где начинается, в каком направлении течёт, куда впадает, примерная длина, к бассейну какой реки (или озера, моря) относится.



Распределение рек России по бассейнам океанов



Северный Ледовитый океан	Тихий океан	Область внутреннего стока (Каспийское море)	Атлантический океан
Обь, Енисей, Лена, Яна, Индигирка, Колыма.	Амур, Анадырь, Камчатка.	Волга, Терек, Урал.	Дон, Кубань, Нева, Северная Двина, Онега.

Задание: Нанести названные реки на контурную карту, показать к каким бассейнам они относятся.



Задание на дом



- Завершить практическую работу

