

ВЕСЁЛАЯ МАТЕМАТИКА



Автор: Селямина Л.А.
Учитель начальных классов
МБОУ «Новомирская ООШ»

СОДЕРЖАНИЕ



считай

смекай

угадывай

**Проверь свой
глазомер**

составляй

попробуй

решай

подумай



ТЕСТ СЧИТАЙ !

(отборочный тур)

- Число, следующее присчёте за 999
- Площадь квадрата со стороной 10 см равна...
- Вычисли длину ломаной, которая состоит из 3-х звеньев. Первое звено – 5 см, а каждое последующее на 2 см. больше предыдущего.
- Вычисли периметр треугольника со сторонами 12см, 14см, 8см.

СМЕКАЙ !

- Число, которое делим...
- Периметр – это...
- Квадратные единицы...
- Радиус...(больше, меньше)...диаметра
- Начертить окружность можно с помощью...
- Проверить равнобедренный треугольник можно...
- Все радиусы одной окружности...

УГАДЫВАЙ

Имеется три ключа от трех дверей с разными замками. Сколько нужно попыток, чтобы подобрать ключи?

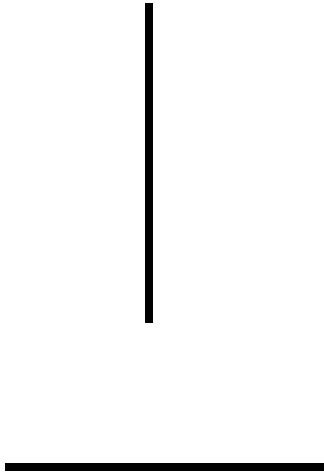


Ответ: не больше
трех



ПРОВЕРЬ СВОЙ ГЛАЗОМЕР

Какой отрезок длиннее ?

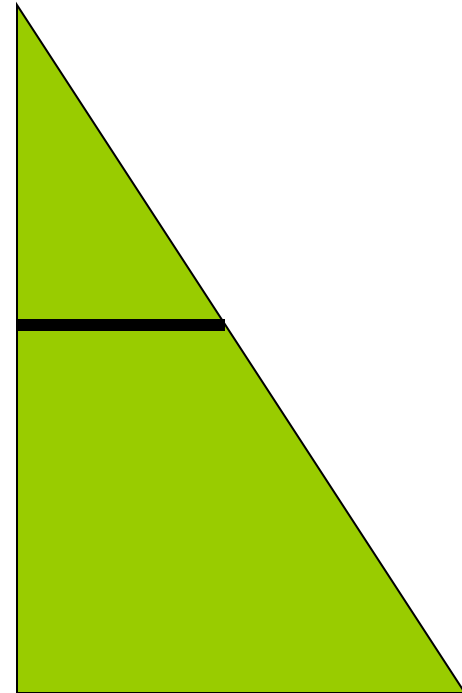




Сколько кубиков на
рисунке?

СОСТАВЛЯЙ


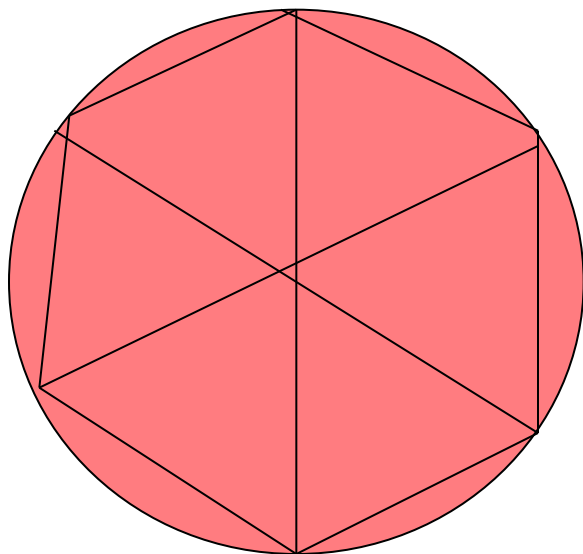
Разрежь квадрат на две неравные
части

и составь из них треугольник



ПОПРОБУЙ

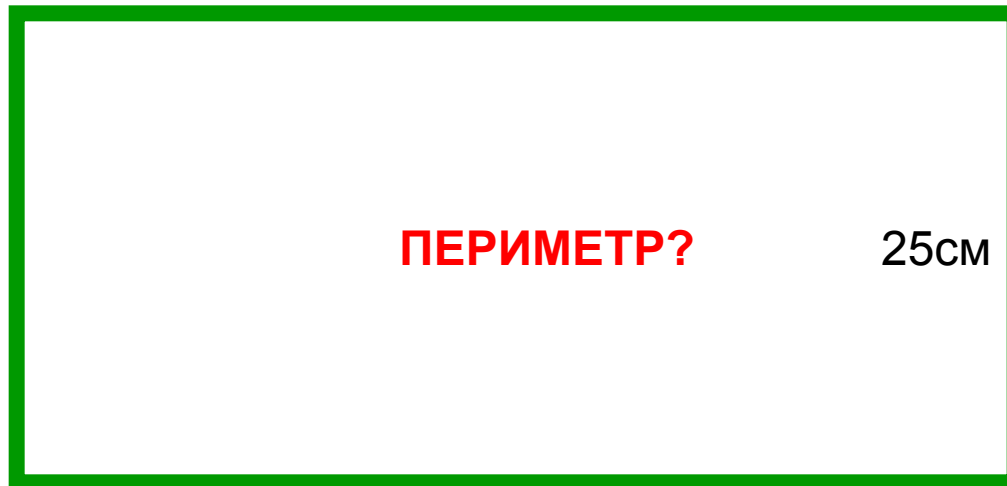
- С помощью линейки и циркуля составь свой узор в «розетке»



РЕШАЙ

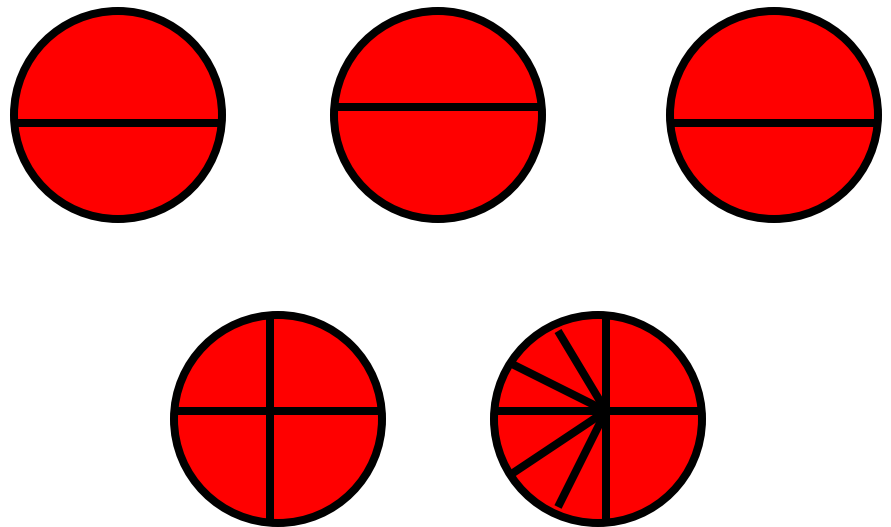
- Ширина прямоугольника 25см. Она в два раза меньше длины. Вычисли периметр прямоугольника.

?



ПОДУМАЙ

Требуется разделить 5 одинаковых
яблок поровну между 6 друзьями.
Как это сделать?



Молодцы!



Литература

- Журнал «Начальная школа». 2008г.
- «Поурочные разработки по наглядной геометрии» Т.В.Жильцова, Л.А. Обухова