


ЛЗ




Улыбнись! Это солнышко для тебя!

Три яблока из сада
Ёжик притащил.
Самое румяное
Белке подарил.
С радостью подарок получила
белка.
Сосчитайте яблоки
У ежа в тарелке!



Карандаш один у Гриши,
Карандаш один у Миши.
Сколько же карандашей у
обоих малышей?

Учимся писать цифру



*Два похожа на
гусёнка
С длинной шеей,
Шеей тонкой.*



Задания весёлого львёнка



Найди равенство,
Правильно!
соответствующее
картинке.

$2 + 1 = 3$

$3 - 2 = 1$

$3 - 1 = 2$



Каким по счёту
справа налево
расположен
красный кружок?



4

2

3



Выбери
Правильную
соответствующее
рисунку.



$4 - 1 = 3$

$4 - 2 = 2$

$2 + 2 = 4$



Какое неравенство
Правильн
соответствует
картинке?

$4 > 5$

$3 < 5$

$4 < 5$



Какое число
Правильн
пропущено?
о!

6

8

10

7

?

9



Что изменилось?
Правильн
Выбери
О
равенство.

$$5 - 2 = 3$$

$$3 + 2 = 5$$

$$5 - 3 = 2$$

Был



Стало



Какое число
нужно вставить в
окошечко данного
равенства?

6

3

5

- 1 = 4



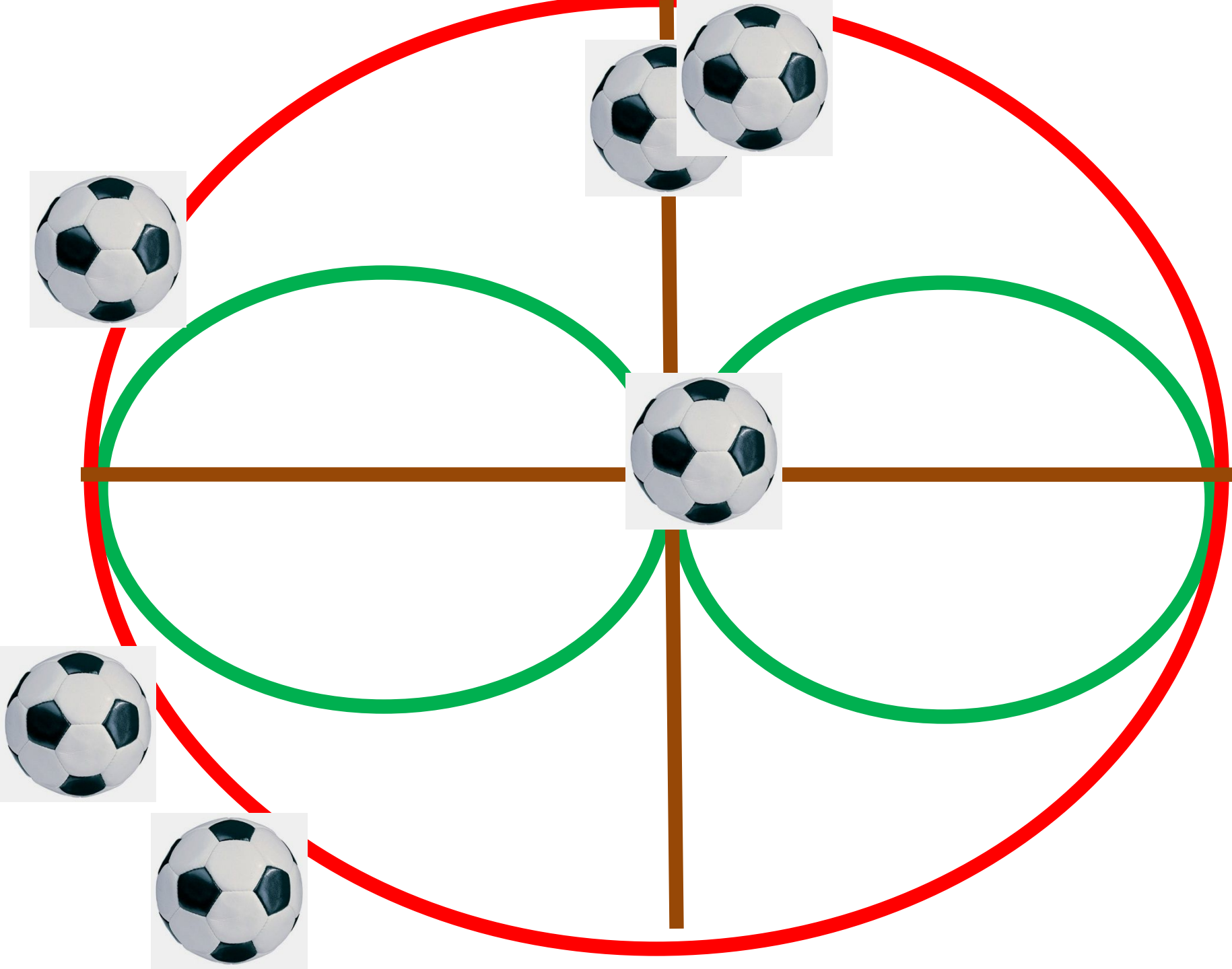
Выбери равенство,
соответствующее
рисунку.

$$6 - 2 = 4$$

$$4 + 2 = 6$$

$$3 + 2 = 5$$







Увеличьте:

5 на 1

2 на 3

4 на 1

**Когда увеличиваем- прибавляем,
становится больше**



Уменьшите:

5 на 2

8 на 1

6 на 2


Когда уменьшаем- вычитаем, становится меньше.

A vibrant, colorful illustration of a meadow. At the top, green leaves and branches frame the scene. A bright rainbow arches across a blue sky filled with sparkling stars. Several butterflies are scattered throughout the scene. The foreground is a lush field of tall green grass and various colorful flowers, including red, yellow, and purple blooms. The overall atmosphere is bright and cheerful.

ЗАДАЧА

УВЕЛИЧЕНИЕ

УМЕНЬШЕНИЕ



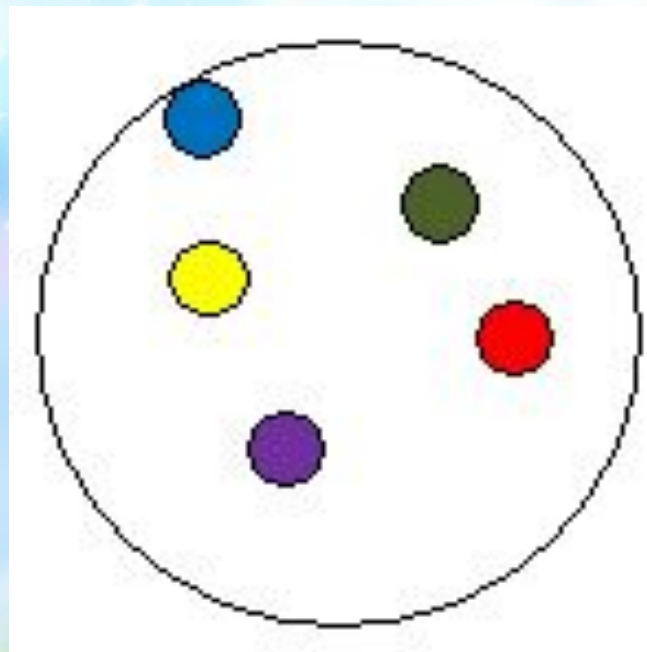
**ТЕМА: ЗАДАЧИ НА
УВЕЛИЧЕНИЕ И
УМЕНЬШЕНИЕ ЧИСЛА НА
НЕСКОЛЬКО ЕДИНИЦ**

А сейчас мы отдохнем,
Физминутку проведем.

**Сколько листиков зеленых, столько сделаем
наклонов.**



**Сколько точек в этом круге, столько раз поднимем
руки.**



Сколько маленьких жуков, столько сделаем хлопков.



Сколько вишенок у нас, столько мы подпрыгнем раз.





УСЛОВИЕ

ВОПРОС

РЕШЕНИЕ

ОТВЕТ

Задача 1, с. 96

Задача 2.

Условие

Было -



Стало - ? на 2 меньше

Решение

$$5 - 2 = \underline{3} \text{ (к.)}$$

Ответ: 3 карандаша.

1 в. - Задача 3 (1)

2 в. - Задача 3 (2)

Проверяем!

1 В.



$$4 + 1 = \underline{5 \text{ (п.)}}$$


Ответ: 5 помидоров.

2 в.



$$7 - 1 = \underline{6} \text{ (в.)}$$

Ответ: 6 вишен.





Молодцы !

Источники:

Фон презентации: http://www.novizor.com/sites/default/files/det_albm_12.jpg

Лев: http://kira-scrap.ru/KATALOG/MULTY_NASCHI/3/0_12508f_bf2173c6_M.png

Медвежата: <http://sweefts.ru/wp-content/uploads/2013/02/%D0%BA%D0%B0%D0%BA-%D0%BD%D0%B0%D1%83%D1%87%D0%B8%D1%82%D1%8C-%D1%81%D1%87%D0%B8%D1%82%D0%B0%D1%82%D1%8C-%D1%80%D0%B5%D0%B1%D0%B5%D0%BD%D0%BA%D0%B0.jpg>

Ваза: <http://www.tenti.ru/virtualimgs/27592.jpg>

Яблоко: http://annadesing.ucoz.ru/publ/kliparty/vitaminnyj_klipart_jagody_i_frukty_na_prozrachnom_fone/2-1-0-1758

Лист: http://by-anna.ucoz.ru/publ/rastenija/listja_i_vetochki/129

Вишни: http://by-anna.ucoz.ru/publ/rastenija/jagody_ovoshhi_frukty/216

Карандаш: http://img-fotki.yandex.ru/get/6829/16969765.23d/0_9120a_d5b1065a_M.png

