

Урок математики для родителей 4кл

2014г октябрь ГБОУ СОШ № 376

Рубцова Марина Владимировна



Тема урока

Задачи

Меры
длины

Площади фигур

Пров.

Д.З.

Дом.

зад.

Доп.
материал

Доп.
материал

К.

У.





$$1 \text{ км} = 1000 \text{ м}$$

$$1 \text{ м} = 10 \text{ дм} = 100 \text{ см}$$

$$1 \text{ дм} = 10 \text{ см} = 100 \text{ мм}$$

$$1 \text{ см} = 10 \text{ мм}$$

Меры длины





Проверяем домашнее задание

№ 152

№ 154

5





Тема урока

Единицы площади:

*квадратный километр,
квадратный миллиметр.*



1 км




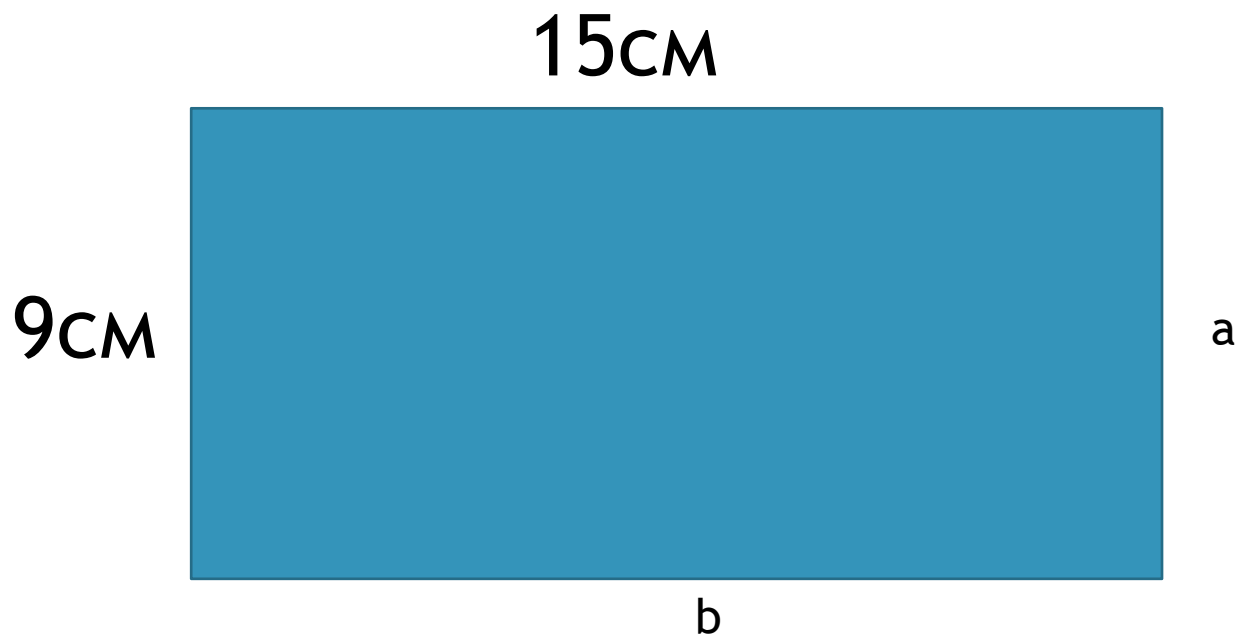
1 мм



Как найти площадь прямоугольника?

$$S = a \cdot b$$






$$S = 9 \cdot 15 =$$

$$a = s : b$$

$$b = s : a$$





Какая из записей правильно показывает нахождение площади прямоугольника?

1. $35\text{см} \cdot 5 =$

2. $420\text{дм} : 7 =$

3. $26\text{мм} \cdot 3\text{мм} =$

Ответ: 3

4. $630\text{м} : 9\text{м} =$





Вставь правильно величины

$$32\text{см} = \dots\text{дм} \dots\text{см}$$

$$320\text{см} = \dots\text{м} \dots\text{дм}$$

$$302\text{см} = \dots\text{дм} \dots\text{см}$$

$$3200\text{м} = \dots\text{км} \dots\text{м}$$



Домашнее задание: № 171, 172





Молодцы!

