



Тема: «Европейский Север».


1. В состав Европейского Севера входят...

- а) Карелия;
- б) Коми;
- в) Вологодская Область;
- г) Республика Саха.



2. Европейский Север граничит с ...

- а) Финляндией;
- б) Швецией;
- в) Норвегией;
- г) Швейцарией.



• 3. В каком варианте правильно указаны народы, проживающие на Европейском Севере?

• а) карелы, коми;

б) саамы, финны;

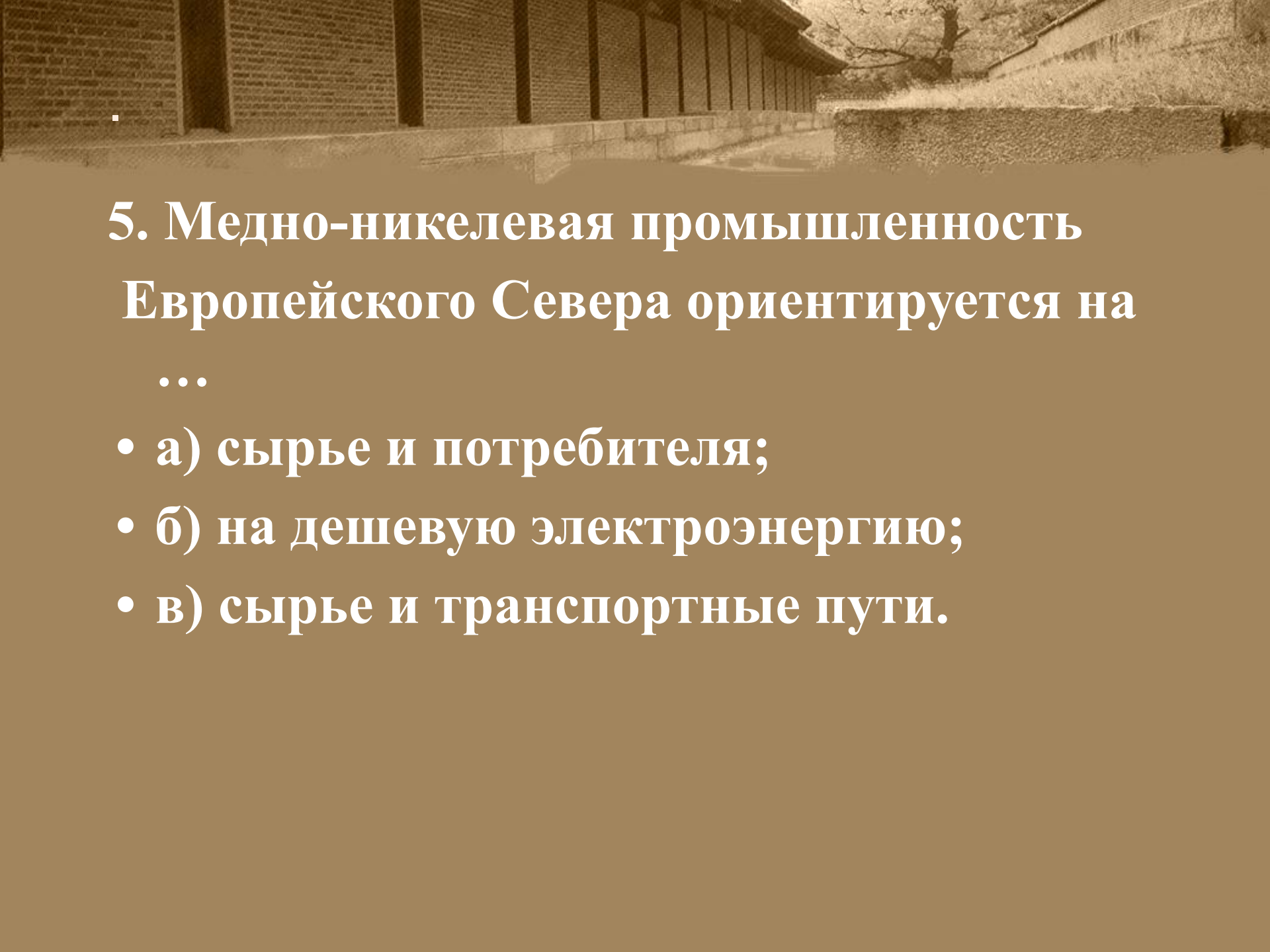
• в) ненцы, коряк

г) коми-пермяки, ханты.



4. Крупнейшими морскими портами
Северного района являются ...

- а) Архангельск, Кандалакша;
- б) Мурманск, Архангельск;
- в) Салехард, Диксон.



5. Медно-никелевая промышленность
Европейского Севера ориентируется на

...

- а) сырье и потребителя;
- б) на дешевую электроэнергию;
- в) сырье и транспортные пути.



6. Установите соответствие между подрайонами Северного района и их специализацией:

- | Подрайон (ТПК) | Специализация |
|-----------------------|---|
| • Карело - Кольский; | А- гидроэнергетика,
горнодобывающая, цветная
металлургия; |
| • Двинско-Печерский | Б - АПК, черная металлургия; |
| • Вологодская область | В – топливная, лесная. |




7. Установите соответствие между отраслями специализации и их центрами:

Центры

- Ухта;
- Череповец;
- Мурманск;
- Архангельск, Новодвинск.

Отрасли специализации

- А – лесная, целлюлозно – бумажная;
- Б – нефтеперерабатывающая;
- В – черная металлургия;
- Г – рыбная.



8. **Алюминиевая промышленность
Европейского Севера
ориентирована на ...**

- **а) рудную базу;**
- **б) потребителя;**
- **в) источники дешевой энергии.**



9. Найдите соответствие:

- 1.Новгородская колонизация;
- 2.Московская колонизация;
- 3.Труда заключенных.

- А – Беломоро – Балтийский канал;
- Б – скиты, монастыри;
- В – поморы.



Проверь себя:

1. Абв

2. Ав

3. А

4. Б

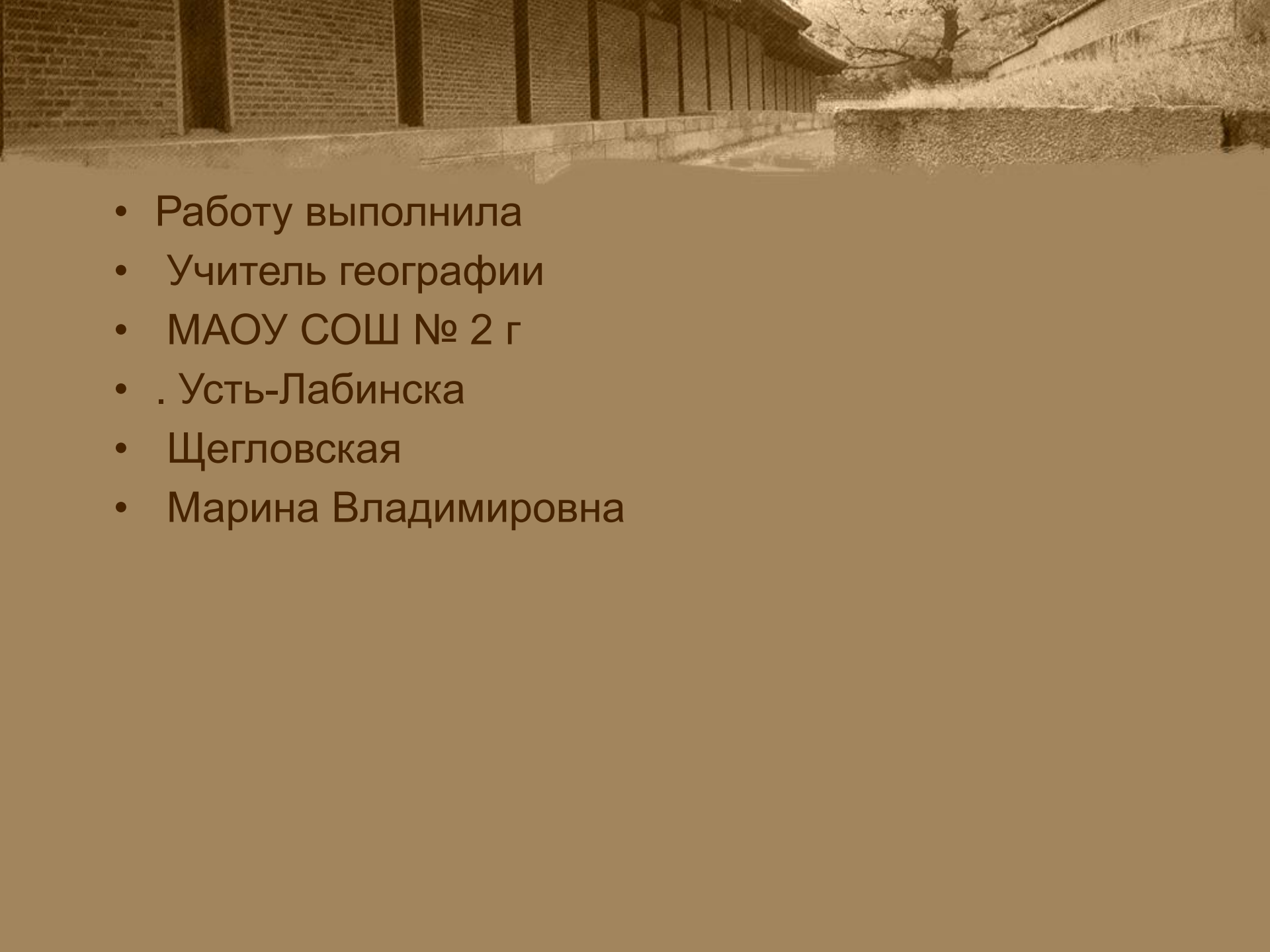
5. В

6. 1а 2в 3б

7. 1б 2в 3г 4а

8. В

9. 9. 1в 2б 3а.

- 
- Работу выполнила
 - Учитель географии
 - МАОУ СОШ № 2 г
 - . Усть-Лабинска
 - Щегловская
 - Марина Владимировна