

Решение задач

на увеличение, уменьшение нескольких единиц

Проскурина И.И.

Учитель начальных классов

МБОУ «Гимназия №18»

Введите фамилию и имя

Всего заданий

5

Начать тестирование

Время тестирования

5

мин.

В бидоне 7 стаканов молока, а в банке на 4 стакана меньше. Сколько стаканов молока в банке?



1

5 стаканов



3

3 стакана



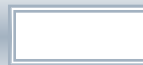
2

4 стакана



4

2 стакана



Мама нашла в лесу 9 грибов, а Алёна на 5 грибов меньше. Сколько грибов нашла Алёна?



1

2 гриба



3

6 грибов



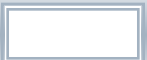
2

4 гриба



4

8 грибов



Игорь придумал 5 слов, начинающихся с буквы «Н», а Ваня на 4 слова меньше. Сколько слов придумал Ваня?



1

8 слов



3

5 слов



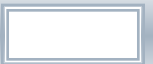
2

10 слов



4

1 слово



На столе стояли 3 чашки, а тарелок на 2 больше.
Сколько тарелок стояло на столе?



1

5 тарелок



3

4 тарелки



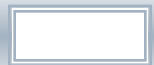
2

6 тарелок



4

3 тарелки



Для ремонта класса купили 3 кг белой краски, а коричневой на 7 кг больше. Сколько килограммов коричневой краски купили?



1

5 кг



3

8 кг



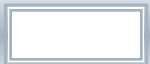
2

7 кг



4

10 кг



Результаты тестирования

Оценка

Правильных ответов

Набранных баллов

Ошибки в выборе
ответов на задания:

Всего заданий

бал.

Снова

Выход

Затрачено времени